



## في هذا الدرس

### الخرائط حسب مقياس الرسم ○ الخرائط حسب الغرض

لما تعددت استعمالات الخرائط، وأصبحت من ضرورات الحياة العصرية تنوّعت تبعاً لذلك موضوعاتها وأشكالها وأحجامها، وحتى تكون الخريطة واضحة وذات هدف وغاية محددة تُسهّل الإفادة منها، صُنّفت في نوعين رئيسيين، هما:

### أولاً: أنواع الخرائط حسب مقياس الرسم

أ- خرائط المقياس الكبير (الكدستراكية):

وهي خرائط تفصيلية ترسم بمقياس رسم كبير يزيد على (١: ١٠٠,٠٠٠)، وهي تُستعمل في توضيح المعالم الحضارية لمدينة أو أحد أحيائها، حيث تشتمل على المعالم التفصيلية كالشوارع والمدارس والمستشفيات وغيرها.

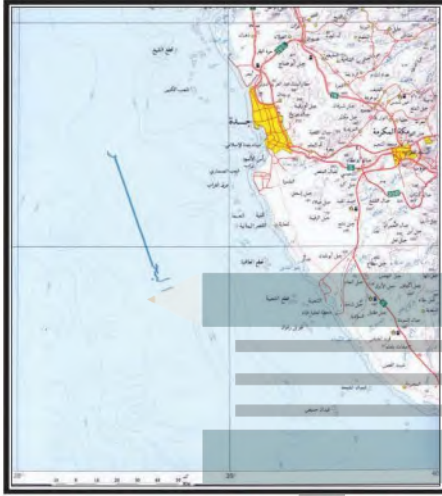
ب- خرائط المقياس المتوسط (الخرائط الطبوغرافية):

ترسم بمقياس رسم من (١: ٢٥٠٠٠) حتى (١: ٥٠٠,٠٠٠)، وهي تُستعمل في الأغراض العسكرية والسياحية والإدارية، وفيها يُسمح بمقياس الرسم بتوضيح معظم ظواهر سطح الأرض الطبيعية، (إذ تُستعمل فيها خطوط الكنتور) والظواهر البشرية بدقة، وهذا يتيح التوصل إلى العلاقة بينهما، ويشتمل مفتاحها على عدد كبير من الرموز والأشكال والألوان.

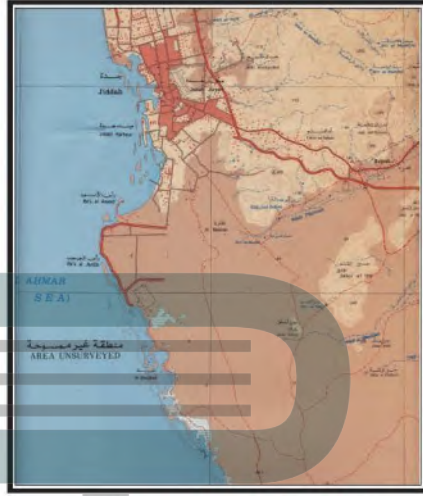
ج- خرائط المقياس الصغير (الخرائط المليونية): وتنقسم إلى نوعين:

١- الخرائط المليونية (العالمية): وترسم بمقياس رسم (١: ١,٠٠٠,٠٠٠) وتُستعمل فيها رموز وعلامات اصطلاحية متفق عليها عالمياً، وترسم كل دولة خرائطها بهذا المقياس.

٢- خرائط الأطلاليس والخرائط الحائطية: ترسم بمقياس رسم من (١: ٥٠٠,٠٠٠) حتى (١: ٥,٠٠٠)، وفيها تظهر بعض التفاصيل العامة، وتُمثّل فيها التوزيعات الطبيعية، كالمناخ والنبات، والجوانب البشرية، كالسكان والنشاط البشري، وتُستعمل عادة في الصفوف الدراسية وسائل تعليمية.



خريطة أخرى لمدينة جدة بمقياس رسم ١:٢٠٠,٠٠٠



خريطة لمدينة جدة بمقياس رسم ١:٢٥٠,٠٠٠



خريطة تضاريسية

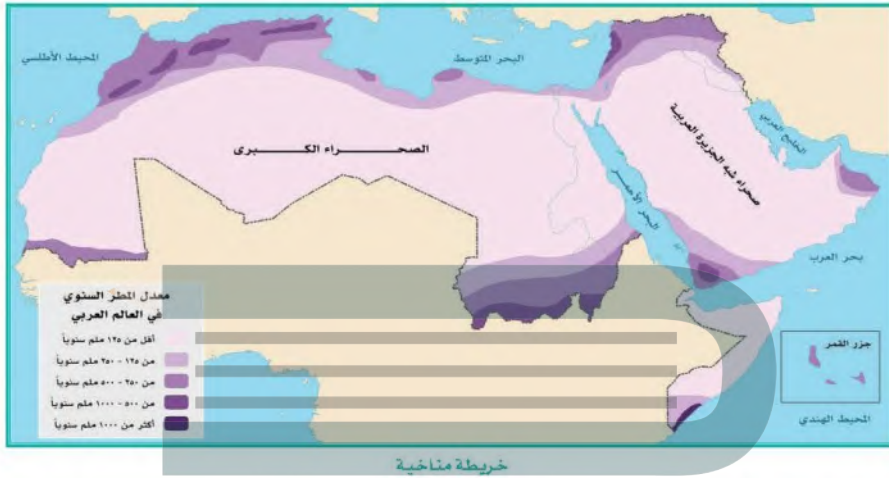
## ثانياً: أنواع الخرائط حسب الغرض

### أ- خرائط التضاريس

وتُظهر الأشكال المختلفة التي على سطح الأرض من سهول وهضاب وجبال، ويستعمل في هذا النوع من الخرائط التلوين أو التظليل؛ لزيادة وضوح الخريطة ولتمييز الأشكال الأرضية المختلفة وتوزيعها في المنطقة.

### ب- خرائط المناخ

وتوضح الظواهر المناخية السائدة على سطح الأرض، أو على جزء منه، كتوزيع الحرارة والأمطار والرطوبة واتجاهات الرياح والضغط الجوي، وتعتمد هذه الخرائط المعدلات الشهرية لتلك الظواهر المناخية التي تأخذ ألوأناً متميزة وخطوطاً ومصطلحات خاصة بها.



### ج- الخرائط الاقتصادية

تعتني هذه الخرائط بتحديد مناطق الثروات الاقتصادية سواء أكانت زراعية أم صناعية أم تجارية أم طرق مواصلات أم غيرها؛ فهي إذن تعتني بتوزيع عناصر الإنتاج والاستهلاك والتوزيع.





### د- خرائط السكان

تعتني هذه الخرائط ببيان مناطق انتشار السكان واختلاف كثافتهم على سطح الأرض، وتوزيع السكان بحسب الحرف والتركيب السكاني وغير ذلك.

### هـ- الخرائط العسكرية

وهي تُعنى بالجوانب العسكرية التي تتطلبها أمور التعبئة وإدارة المعارك، وأكثر عناية هذه الخرائط بإبراز طبيعة الأرض والطرق المنتشرة عليها ومراكز المنشآت الأساسية ومواقعها التي تعتمد عليها اقتصاديات المنطقة.

