



تقويم
الوحدة الثانية عشرة

س١: يضع الطلبة علامة (✓) أمام العبارة الصحيحة، وعلامة (x) أمام العبارة غير الصحيحة:

من فوائد إطار الخريطة تحديد امتداد الجزء الذي تمثله الخريطة من الطبيعة.

صح

خرائط المقياس الصغير هي الخرائط التي ترسم بمقياس رسم يزيد على (١:١٠.٠٠٠).

خطأ

الخرائط المليونية وصف يُعطى للخرائط الطبوغرافية.

خطأ

من ميزات المسقط المخروطي أنه تتحقق فيه المساحات الصحيحة للقارات.

صح

بدء ظهور نظم المعلومات الجغرافية كان في الولايات المتحدة الأمريكية سنة ١٩٦٤م.

خطأ

س٢: يختار الطلبة الخيار الصحيح فيما يأتي:

ب- الصيغة الآتية تعبير عن شكل مقياس

أ- إذا علمت أن مقياس الرسم لإحدى الخرائط

يبلغ (١:٣٠,٠٠٠,٠٠٠) فذلك يعني أن كل

١ سم على الخريطة، يمثل على الواقع

الرسم:
٢٠ ٤٠ ٦٠ كم

الخطي

٣٠ كم

الكتابي

٣٠٠ كم

النسبي

٣٠٠٠ كم

الكسري

٣٠.٠٠٠ كم

هـ - تظهر النباتات الخضراء في بيانات

ج - إحدى الخصائص الآتية ليست من

الاستشعار بدرجات اللون:

خصائص خطوط الكنتور:

☐ الأزرق الناصع

☒ تتقاطع ولا تلتقي

☒ الأحمر

☐ إذا تباعدت دلت على انحدار متدرج

☐ الأسود

☐ خطوط مقفلة

☐ الرمادي والأزرق

☐ إذا تقاربت دلت على انحدار شديد

و - يدل اللون الأسود في بيانات الاستشعار عن

د - إحدى العبارات الآتية ليست من أدوات

بعد على:

الاستشعار عن بعد ومكوناته:

☐ الصخور والتراب

☐ جهاز الاستشعار

☐ المدن

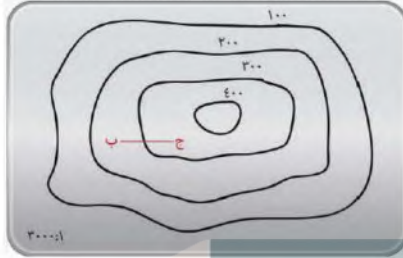
☐ العنصر البشري

☒ المياه العميقة الصافية

☐ الماسحات

☐ المياه المحملة بالرواسب

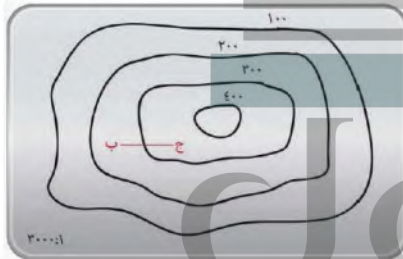
☒ الغلاف الجوي



ز - تعبر خطوط الكنتور عن شكل:

☐ مرتفع

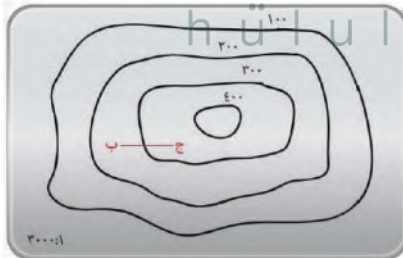
☒ منخفض



ح- تدل خطوط الكنتور على وجود انحدار شديد في الظاهرة:

☐ عبارة صحيحة

☒ عبارة غير صحيحة



ط - كم تبلغ المسافة على الأرض الواقعة بين النقطة (ب) والنقطة (ج) إذا علمت أن المسافة على الشكل تبلغ ٦ سم؟

☐ ٣٠ م

☐ ٩٠ م

☒ ١٨٠ م

☐ ٦٠ م