

التاريخ: / / ١٤٤٤ هـ

الصف: الخامس الابتدائي

المادة: العلوم

الفصل الدراسي: الأول



الاختبار التحريري الثالث (الاختبار النهائي)

اسم الطالب:

١. ضع علامة (✓) أمام العبارة الصحيحة وعلامة (x) أمام العبارة خاطئة مع تصحيح الخطأ

إن وجد. ()

أ. الزلازل والبراكين من العمليات الخارجية التي تؤثر في تشكيل سطح الأرض. (x)

التصحيح: الزلازل والبراكين من العمليات الداخلية التي تؤثر في تشكيل سطح الأرض

لتحليل البيانات بشكل جيد يجب تنظيمها ثم إظهار العلاقة بين المتغيرات المهمة في الفرضية.

(✓)

التصحيح:

كلاً من طاقتي الشمس والرياح من موارد الطاقة الغير متجددة، بينما الوقود الأحفوري من

موارد الطاقة المتجددة. (x)

التصحيح: كلاً من طاقتي الشمس والرياح من موارد الطاقة المتجددة، بينما الوقود

الأحفوري من موارد الطاقة الغير متجددة

تنقسم المملكة النباتية إلى شعبتين نباتات وعائية ولا وعائية. (✓)

التصحيح:

ب. البراكين الهامدة يتوقع ثورانها مرة أخرى، بينما البراكين الساكنة لا يتوقع ثورانها

مرة أخرى. (x)

التصحيح: البراكين الهامدة لا يتوقع ثورانها مرة أخرى بينما البراكين الساكنة يتوقع

ثورانها مرة أخرى

التاريخ: / / ١٤٤٤ هـ

الصف: الخامس الابتدائي

المادة: العلوم

الفصل الدراسي: الأول



المملكة العربية السعودية
وزارة التربية والتعليم
مدرسة منصة مدرسية تعليمية

الاختبار التحريري الثالث (الاختبار النهائي)

اسم الطالب:

تقوم الأوراق في النبات بدعّمه وتنظيم نقل الماء والغذاء إلى باقي أجزاء النبات. (x)

التصحيح: تقوم الساق في النبات بدعّمه وتنظيم نقل الماء والغذاء إلى باقي أجزاء

النبات

يحتاج النبات إلى ضوء الشمس والماء فقط للقيام بعملية البناء الضوئي. (x)

التصحيح: يحتاج النبات إلى ضوء الشمس والماء وغاز ثاني أكسيد الكربون للقيام

بعملية البناء الضوئي

تحدد العوامل الحيوية فقط السعة التحميلية لكل مجموعة من الجماعات الحيوية. (x)

التصحيح: تحدد العوامل الحيوية والعوامل اللا حيوية السعة التحميلية لكل مجموعة من

الجماعات الحيوية.

هجرة الأسماك والطيور من التكيفات السلوكية، بينما الغطاء الصلب للسلاحف من التكيفات

التركيبية. (✓)

التصحيح:

ج. الإخصاب الخارجي يحدث فيه اندماج المشيج المؤنث والمشيج الذكر داخل الجسم،

بينما يحدث هذا الاندماج خارج الجسم في حالة ما يكون الإخصاب داخلي. (x)

التصحيح: الإخصاب الخارجي يحدث فيه اندماج المشيج المؤنث والمشيج الذكر خارج

الجسم بينما يحدث هذا الاندماج خارج الجسم في حالة ما يكون الإخصاب داخلي

التاريخ: / / ١٤٤٤ هـ

الصف: الخامس الابتدائي

المادة: العلوم

الفصل الدراسي: الأول



الاختبار التحريري الثالث (الاختبار النهائي)

اسم الطالب:

()

٢. اختر الإجابة الصحيحة علمياً فيما يلي:

أ. أي من الأسباب التالية تغير النظام البيئي:

✓ فعل الإنسان والمخلوقات الحية.

✓ الأحداث الطبيعية.

✓ [جميع ما سبق].

ب. وظيفة الجذور في النبات هي:

✓ [تثبيت النبات وامتصاص الماء والأملاح من التربة].

✓ القيام بعملية البناء الضوئي.

✓ جميع ما سبق.

ج. العمليات الخارجية التي تؤثر في تشكيل سطح الأرض هي:

✓ الزلازل.

✓ [التجوية والتعرية].

✓ البراكين.

د. أي هذه المخلوقات الحية يتكاثر جنسياً:

✓ [البقرة].

✓ قنفذ البحر.

التاريخ: / / ١٤٤٤ هـ

الصف: الخامس الابتدائي

المادة: العلوم

الفصل الدراسي: الأول



المملكة العربية السعودية
وزارة التربية والتعليم
مدرسة منصة مدرسية تعليمية
الاختبار التحريري الثالث (الاختبار النهائي)
اسم الطالب:

✓ المرجان.

ه. جهاز قياس الزلازل يسمى:

✓ الترمومتر.

✓ [السزمومتر.]

✓ البارومتر.

و. البراكين التي اندفعت منها الصهارة حديثاً تسمى:

✓ البراكين الهامدة.

✓ [البراكين النشطة.]

✓ البراكين الساكنة.

ز. في الصورة التالية:



▲ صورة مكبرة لقراد الخشب على جلد إنسان

التاريخ: / / ١٤٤٤ هـ

الصف: الخامس الابتدائي

المادة: العلوم

الفصل الدراسي: الأول



الاختبار التحريري الثالث (الاختبار النهائي)

اسم الطالب:

تكون العلاقة بين قراد الخشب والإنسان علاقة:

✓ تبادل منفعة.

✓ تعايش.

✓ [تطفل.]

ح. العملية التي تحدث عندما تقل سرعة عوامل التعرية تسمى:

✓ [الترسيب.]

✓ التجوية.

✓ التعرية.

ط. تأمل الصورة ثم حدد أي من العبارات التالية هي العبارة الصحيحة:

التاريخ: / / ١٤٤٤ هـ

الصف: الخامس الابتدائي

المادة: العلوم

الفصل الدراسي: الأول



المملكة العربية السعودية
وزارة التربية والتعليم
مدرسة منصة مدرسية تعليمية

الاختبار التحريري الثالث (الاختبار النهائي)

اسم الطالب:



الأشنات : يوهُرُ الفطرُ للطحلبِ المكانَ والأملاحَ، ويوهُرُ الطحلبُ
للنضرةِ الغذاءَ والأكسجينَ.

✓ العلاقة بين الطحلب والفطر علاقة تطفل.

✓ العلاقة بين الطحلب والفطر علاقة تعايش.

✓ [العلاقة بين الطحلب والفطر علاقة تبادل منفعة.]

٣. أكمل العبارات التالية بما يناسبها علمياً: ()

أ. من الحيوانات المهددة بالانقراض . المها العربي و الأرنب البري

ب. تتنافس المخلوقات الحية على الموارد منها الماء و الغذاء و المأوى

ج. من أمثلة الحيوانات التي تتكاثر لا جنسياً قنفذ البحر والمرجان.

د. الأوراق هي جزء من النبات تتم فيه عملية البناء الضوئي.

التاريخ: / / ١٤٤٤ هـ

الصف: الخامس الابتدائي

المادة: العلوم

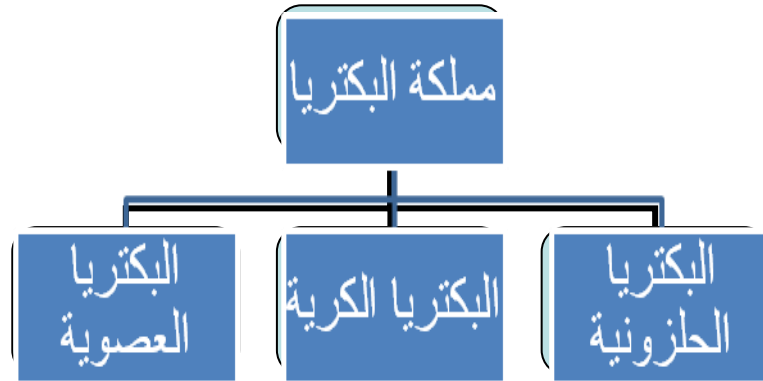
الفصل الدراسي: الأول



الاختبار التحريري الثالث (الاختبار النهائي)

اسم الطالب:

٤. عدد ممالك المخلوقات الحية ثم أكمل المخطط التالي بكلمات علمية مناسبة. ()



٥. أجب عما يلي: ()

أ. لماذا يعتبر الهواء والماء من الموارد التي يقوم عليها الحياة على الأرض؟ وكيف يمكنك

الحفاظ عليهما من التلوث؟

يعتبر الهواء والماء من الموارد التي يقوم عليها الحياة على الأرض؛ لأنهما ضروريان

لاستمرار حياة جميع المخلوقات الحية، فالهواء بما يحتويه من أكسجين ونيوتروجين

وثنائي أكسيد الكربون ضروري لحياة المخلوقات الحية

ب. اذكر ثلاثة طرق مختلفة للحفاظ على الماء.

ج. التأكد من إطفاء مصابيح الغرف التي لا نشغلها.

د. إطفاء الأجهزة الكهربائية عند عدم استعمالها.

التاريخ: / / ١٤٤٤ هـ

الصف: الخامس الابتدائي

المادة: العلوم

الفصل الدراسي: الأول



الاختبار التحريري الثالث (الختبار النهائي)

اسم الطالب:

هـ. استخدام سخان الماء أقل وقت ممكن.

و. التأكد من إغلاق صنبور الماء عند عدم الاستعمال.

ز. استخدام وسائل النقل العامة قدر المستطاع.

ح. إطفاء المكيفات وأجهزة التدفئة عند الخروج من المنزل.

ط. ما المقصود بكلمة الأحافير؟

ي. يقصد بالأحافير هي بقايا المخلوقات الحية التي عاشت في الماضي أو آثارها

والمحفوظة في الصخور الرسوبية.

ك. ما أوجه الشبه والاختلاف بين الفطريات والنباتات؟

أوجه الاختلاف بين الفطريات والنباتات هي:

النباتات تصنع غذائها بنفسها، أما الفطريات فتحصل على غذائها من المخلوقات الحية

الأخرى.

أوجه التشابه بين الفطريات والنباتات:

التاريخ: / / ١٤٤٤ هـ

الصف: الخامس الابتدائي

المادة: العلوم

الفصل الدراسي: الأول



المملكة العربية السعودية
وزارة التربية والتعليم
مدرسة منصة مدرسية تعليمية

الاختبار التحريري الثالث (الاختبار النهائي)

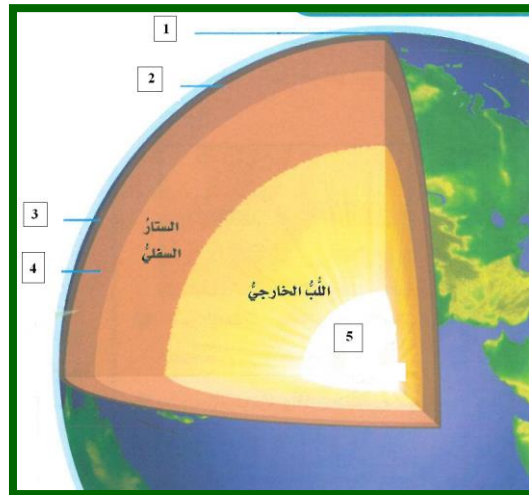
اسم الطالب:

ل. لكل منها جدار خلوي يحيط بخلاياها.

م. كلاهما لا تستطيع الحركة من مكان لآخر.

ن. كلاهما ليس لهما أعضاء حس حقيقية

٦. أمامك صورة لطبقات الأرض أكمل البيانات التي على الرسم. ()



التاريخ: / / ١٤٤٤ هـ

الصف: الخامس الابتدائي

المادة: العلوم

الفصل الدراسي: الأول



الاختبار التحريري الثالث (الاختبار النهائي)
اسم الطالب:

١. الغلاف المائي.

٢. الغلاف الجوي.

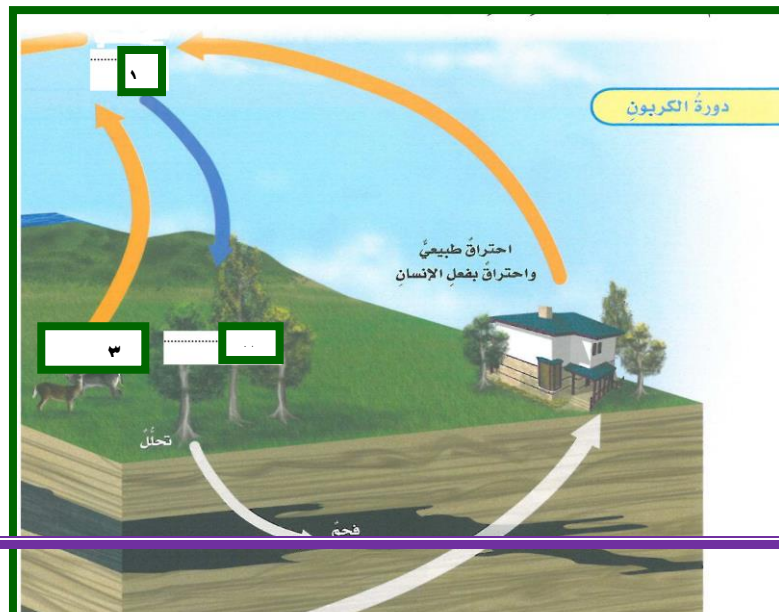
٣. القشرة.

٤. الستار العلوي.

٥. اللب الداخلي.

()

٧. تأمل الرسم التالي ثم أكمل.



التاريخ: / / ١٤٤٤ هـ

الصف: الخامس الابتدائي

المادة: العلوم

الفصل الدراسي: الأول



الاختبار التحريري الثالث (الاختبار النهائي)
اسم الطالب:

١. غاز ثاني أكسيد الكربون

٢. عملية البناء الضوئي

٣. عملية التنفس

()

٨. تأمل الصورة التالية ثم أكمل ما يلي:

التاريخ: / / ١٤٤٤ هـ

الصف: الخامس الابتدائي

المادة: العلوم

الفصل الدراسي: الأول

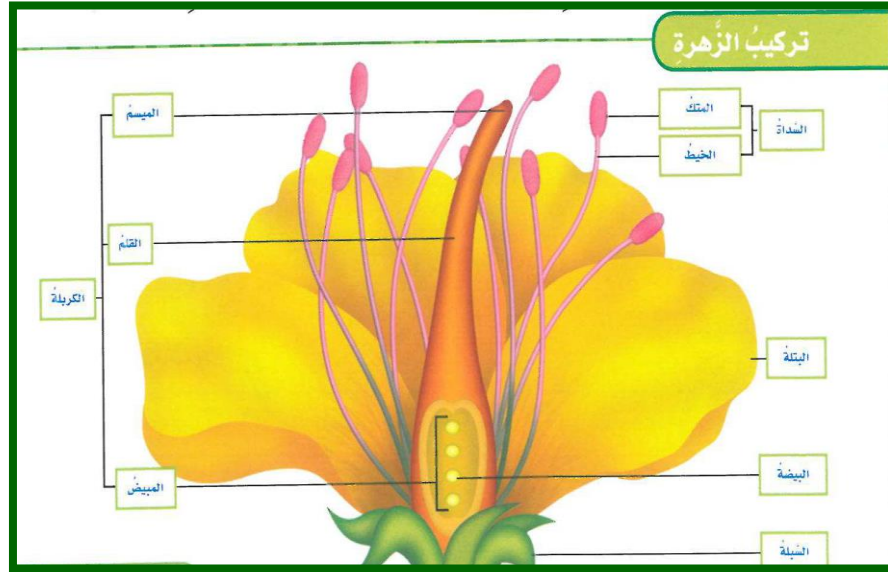


المملكة العربية السعودية
وزارة التربية والتعليم

مدرسة منصة مدرسية تعليمية

الاختبار التحريري الثالث (الاختبار النهائي)

اسم الطالب:



أ. الجزء الذكري في الزهرة هو السداة ، بينما الجزء الأنثوي هو الكريلة

ب. تتكون البويض في الكريلة ، بينما يتم إنتاج حبوب اللقاح في السداة

التاريخ: / / ١٤٤٤ هـ

الصف: الخامس الابتدائي

المادة: العلوم

الفصل الدراسي: الأول



المملكة العربية السعودية
وزارة التربية والتعليم
مدرسة منصة مدرسية تعليمية

الاختبار التحريري الثالث (الاختبار النهائي)

اسم الطالب:

٩. رتب الصور التالية لتوضح دورة حياة الجراد، ثم حدد ما إذا كانت الجراد تمر بتحول

()

ناقص أم كامل.



الحوريّة

٢



جرادة مكتملة
النمو

٣



البيوض

١

تمر الجراد في أثناء دورة حياتها بتحول ناقص.

انتهت الأسئلة مع تمنياتي للجميع بالتوفيق

معلم المادة:

توقيع ولي الأمر بالعلم: