



# الأعداد حتى ١٠٠

٤-٩

## أَسْتَعِدُّ

### فِكْرَةُ الدَّرْسِ

أمثل أعداداً حتى

١٠٠ بالآحاد

والعشرات.

اَكْتُبِ العَدَدَ بِطَرَائِقَ مُخْتَلِفَةٍ.

عَشْرَاتٌ	آحَادٌ	عَشْرَاتٌ	آحَادٌ
٤٠	٦٠	٤٠	٦٠

٢..... آحَادٌ ..... ٤..... عَشْرَاتٌ.

٤٢..... اِثْنَانِ وَأَرْبَعُونَ.



## أَتَأْكُدُّ

أَسْتَعْمِلُ ■ و ■ وَوَرَقَةَ الْعَمَلِ (٧) لِأُمْتِلَ مَجْمُوعَاتٍ مِنْ آحَادٍ وَعَشْرَاتٍ، ثُمَّ أَقْرَأُ العَدَدَ وَأَكْتُبُهُ:

عَشْرَاتٌ	آحَادٌ	عَشْرَاتٌ	آحَادٌ	عَشْرَاتٌ	آحَادٌ	عَشْرَاتٌ	آحَادٌ
٣٠	٤٠	٣٠	٤٠	٣٠	٤٠	٣٠	٤٠

٢..... آحَادٍ وَ..... عَشْرَاتٍ

أَرْبَعَةٌ وَعِشْرُونَ..... ٢٤.....

١..... آحَادٍ وَ..... عَشْرَاتٍ

وَاحِدٌ وَثَلَاثُونَ..... ٣١.....

كَيْفَ أَكْتُبُ العَدَدَ ٧٢ بِأَكْثَرِ مِنْ طَرِيقَةٍ؟

## أَتَحَدِّثُ


٣

اِثْنَانِ وَسَبْعُونَ ، ٢ آحَادٍ وَ ٧ عَشْرَاتٍ



الفصل ٩: القيمة المنزلية

٦٤



أَسْتَعْمِلُ ■ وَ  وَوَرَقَةَ الْعَمَلِ (٧) لِأُمْتَلَّ مَجْمُوعَاتٍ مِنْ أَحَادٍ وَعَشْرَاتٍ، ثُمَّ أَقْرَأُ الْعَدَدَ وَأَكْتُبُهُ:

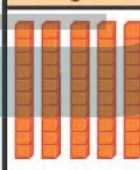

عَشْرَاتٌ	أَحَادٌ

عَشْرَاتٌ	أَحَادٌ
	

٤

..... ٢ أَحَادٍ ..... ٦ عَشْرَاتٍ ..... ٦٢ اثنان وستون



عَشْرَاتٌ	أَحَادٌ

عَشْرَاتٌ	أَحَادٌ
	

٥

..... ٧ أَحَادٍ ..... ٥ عَشْرَاتٍ ..... ٥٧ سبعة وخمسون

عَشْرَاتٌ	أَحَادٌ

عَشْرَاتٌ	أَحَادٌ
	

٦

..... ٥ أَحَادٍ ..... ٨ عَشْرَاتٍ ..... ٨٥ خمسة وثمانون

## أَحُلْ الْمَسْأَلَةَ

٧ الحِسُّ الْعَدَدِيُّ: إِذَا اسْتَعْمَلْتُ ٧  لِأُمْتَلَّ الْعَدَدَ ٨٤، فَكَمْ ■ أَحْتَاجُ؟

احتاج ٤ مكعبات منفصلة و ٨ مجموعات كل مجموعة تحتوي ١٠ مكعبات