



أختار الإجابة الصحيحة:


١ الجملة التي تمثل الشكل هي:



$11 = 2 + 9$ ☐ $11 = 3 + 8$ ☐

$9 = 1 + 8$ ☐ $12 = 3 + 9$ ☒

٤ الزهرة الأقصر هي:

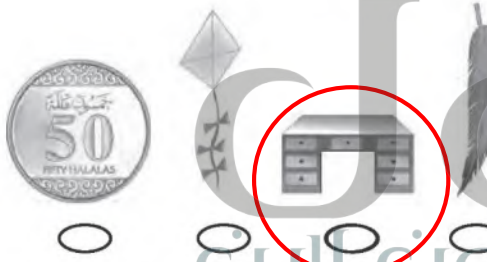


٢ الإشارة المناسبة في الفراغ هي:

77 ☐ 75

$=$ ☐ $+$ ☐

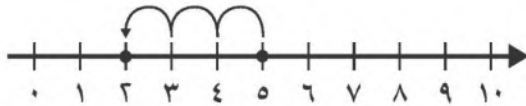
$>$ ☒ $<$ ☐



٥ الشيء الأثقل من كتاب الرياضيات هو:

٣ الشكل الذي يمثل الجملة العددية

$5 = 3 - 8$ هو:



$2 = 3 - 5$ ☒ $3 = 5 - 8$ ☐

$4 = 3 - 7$ ☐ $2 = 8 - 10$ ☐



١١ أكتب العدد الذي يسبق مباشرة

٨٧،....

٨٧ ☐

٨٨ ☐

٨٥ ☐

٨٦ ☒

٧ العدد الذي أحاده ٥، وعشراته ٦ هو:

٥٦ ☐

٥٥ ☐

٦٦ ☐

٦٥ ☒

١٢ صندوق فيه ٨ كرات حمراء وخضراء،

إذا كان عدد الكرات الحمراء ٥، فما

عدد الكرات الخضراء؟

..... ٣ كرات.

٨ ما ناتج الجمع؟

$= 4 + 7$

٤ ☐

٣ ☐

١٢ ☐

١١ ☒

١٣ شاهد إبراهيم ٥ أفئال في حديقة

الحيوانات، وشاهد صالح فيلين

آخرين. ما عدد الأفئال كلها؟

..... ٧ أفئال.

٩ ما ناتج الطرح؟

$= 9 - 0$

١ ☐

٠ ☐

٩ ☒

٨ ☐

١٠ مع سلمى أكثر من ٢٨ ريالاً وأقل من

٣٠ ريالاً. فكم ريالاً مع سلمى؟

٢٩ ☒

٢٧ ☐

٣١ ☐

٣٠ ☐