













أَصِلْ بِخُطُوطٍ بَيْنَ الْمَقْدَارِ فِي الْعُمُودِ الْأَوَّلِ وَالصُّورَةِ الْمُنَاسِبَةِ فِي الْعُمُودِ الثَّانِي:

١	٥ رِيَالَاتٍ	
٢	١ ريال	 
٣	١٠ رِيَالَاتٍ	 
٤	٦ رِيَالَاتٍ	  
٥	١٥ رِيَالاً	 

أَسْتَغْمِلُ الْعُمَلَاتِ النَّقْدِيَّةَ. أَعِدُّ ثُمَّ أَكْتُبُ السَّعْرَ عَلَى الْبِطَاقَةِ:

٦	 	١٠.....
		١٨ رِيَالٍ

أَحِوِّطُ الْعُمَلَاتِ النَّقْدِيَّةَ الَّتِي أَحْتَاجُ إِلَيْهَا لِشِرَاءِ هَذِهِ اللَّعْبَةِ:

٧	  
	 
	 



٨ أرْسُمُ الأَوْراقِ النَّقْدِيَّةِ اللَّازِمَةَ لِشِرَاءِ اللَّعْبَةِ:

٩ أُمَثِّلُ المَبْلَغَ ٢٧ رِيَالاً بِطَرِيقَةٍ أُخْرَى:



أَحْلُ الْمَسْأَلَةَ

١١ كَيْفَ أُمَثِّلُ ٤٠ رِيَالاً بِأَقَلِّ عَدَدٍ مِنَ الأَوْراقِ النَّقْدِيَّةِ؟ أفسِّرْ إجابتي.

بأربعة أوراق نقدية من فئة ١٠ ريال