

أختار الإجابة الصحيحة:

١ عدد العشرات في ٤٠ يساوي:

- ٥ ☒ ٤ ☐  
٧ ☐ ٦ ☐

٤ ما العدد التالي في النمط

٥، ١٠، ١٥، ٢٠، .....؟

- ٢٢ ☐ ٢٠ ☐  
٣٠ ☐ ٢٥ ☒

٢ يريد أحمد شراء هدية قيمتها ٢٧ ريالاً. العدد ٥٨ يتكون من:

٥ آحاد و ٨ عشرات.

٨ آحاد و ٥ عشرات.

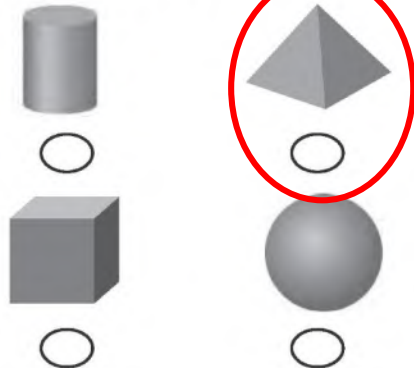
٥ آحاد و ٣ عشرات.

٣ آحاد و ٥ عشرات.

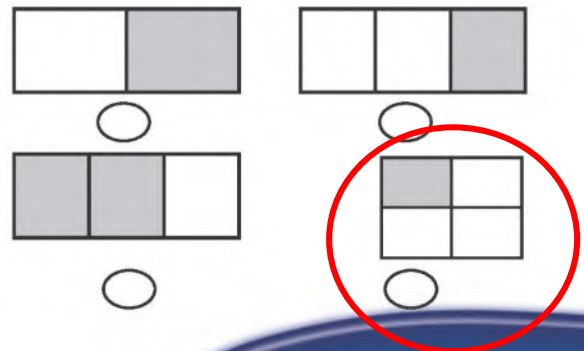
النقود الكافية لشراء هذه الهدية هي:



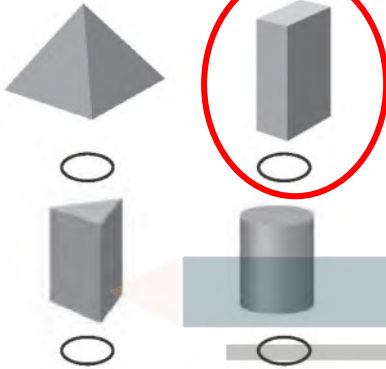
٦ ما المجسم الذي يظهر عليه المثلث؟



٣ الشكل الذي يعبر عن الكسر  $\frac{1}{4}$  هو:



١٠ ما المُجَسَّم الَّذِي يَظْهَرُ عَلَيْهِ مُسْتَطِيلَاتٌ فَقَطْ؟



٧ الأَعْدَادُ الْمُرْتَبَّةُ مِنَ الْأَصْغَرِ إِلَى الْأَكْبَرِ هِيَ:

٩، ٦١، ٣٦ ○

٩، ٣٦، ٦١ ○

٦١، ٣٦، ٩ ○

٣٦، ٦١، ٩ ○

١١ لَدَى مُنَى وَرَقَتَانِ مِنْ فِئَةِ ١٠ رِيَالٍ، وَلَدَى أَخِيهَا خَالِدٍ وَرَقَةٌ وَاحِدَةٌ مِنْ فِئَةِ ١٠ رِيَالٍ وَقِطْعَتَانِ نَقْدِيَّتَانِ مِنْ فِئَةِ الرِّيَالِ الْوَاحِدِ. مَا مَجْمُوعُ مَا لَدَيْهِمَا؟

..... ٣٢ رِيَالاً.

٨ الْعَدَدُ الْمُمَثَّلُ فِي الْجَدْوَلِ أَذْنَاهُ هُوَ:

| عَشْرَاتٌ | أَحَادٌ |
|-----------|---------|
| ٦         | ٢       |

٦٢ ○

٧٢ ○

٢٧ ○

٦٧ ○

١٢ ما الْعَدَدُ الَّذِي يَقْلُ بِـ ١٠ عَنْ ٧٥؟

٦٥

٩ الْعَدَدُ الْأَصْغَرُ مِنْ ٢٨ هُوَ:

٥٨ ○

٢٣ ○

٨٢ ○

٣٤ ○