



الوقت بالساعات الكاملة

٥-٧

أستعد

فكرة الدرس

اقرأ وأكتب الساعة
بالساعات الكاملة.

المفردات

ساعة العقارب
عقرب الساعات
عقرب الدقائق

هذه ساعة العقارب
عقرب الساعات يُشير إلى الرقم ٣.
أقول: الساعة الثالثة.



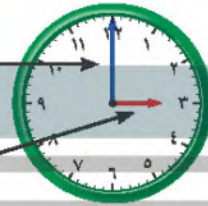
أشاهد في الساعة الأرقام من ١ إلى ١٢.

عقرب الساعات هو الأقصر ويُشير دائماً إلى الساعة.

وعقرب الدقائق هو الأطول ويُشير إلى الدقائق.

عقرب الدقائق

عقرب الساعات



أتأكد

أستعمل 🕒 وأكتب الوقت الذي تُشير إليه الساعة:



الساعة ٢

عقرب الساعات عند ٩
وعقرب الدقائق عند ١٢

الساعة ٩



١



الساعة 6



٣

الساعة 11

أحدث ٥ عندما تكون الساعة الرابعة، إلى أين يُشير كل من عقرب الساعات وعقرب الدقائق؟

يشير عقرب الساعات إلى 4









ويشير عقرب الدقائق إلى 12

الفصل ٧ : القياس: التقود والزمين

١٨

أَتَدْرِبُ

أُسْتَعْمِلُ 🕒 وَأَكْتُبُ الْوَقْتَ الَّذِي تُشِيرُ إِلَيْهِ السَّاعَةُ:

<p>٧</p>  <p>٨ السَّاعَةُ السَّاعَةُ ٨</p>	<p>٦</p>  <p>١ السَّاعَةُ السَّاعَةُ ١</p>
<p>٩</p>  <p>١٢ السَّاعَةُ السَّاعَةُ ١٢</p>	<p>٨</p>  <p>٤ السَّاعَةُ السَّاعَةُ ٤</p>
<p>١١</p>  <p>١٠ السَّاعَةُ السَّاعَةُ ١٠</p>	<p>١٠</p>  <p>٥ السَّاعَةُ السَّاعَةُ ٥</p>
<p>١٣</p>  <p>٣ السَّاعَةُ السَّاعَةُ ٣</p>	<p>١٢</p>  <p>٧ السَّاعَةُ السَّاعَةُ ٧</p>

أَخْلُ الْمَسَئَلَةَ

١٤ **التَّفَكِيرُ الْبَصَرِيُّ:** ارْشُمُ عَقْرَبِي السَّاعَاتِ وَالِدَّقَائِقِ،
ثُمَّ أَقْرَأُ الْوَقْتَ. أَسْتَعْمِلُ 🕒:

وَصَلَ يَاسِرٌ إِلَى الْمَنْزِلِ السَّاعَةَ الثَّالِثَةَ، وَوَصَلَ أَخُوهُ
أَنَسٌ بَعْدَهُ بِسَاعَةٍ، فَمَتَى وَصَلَ أَنَسٌ إِلَى الْمَنْزِلِ؟



٤ السَّاعَةُ السَّاعَةُ ٤

نَشَاطٌ مَنْزِلِي

اضبط ساعة ذات عقارب عند الساعة الـ ٧:٠٠ مثلاً، ثم
اطلب إلى طفلك أن يكتب الوقت الذي تُشير إليه الساعة
بعد ساعة واحدة، وساعتين، و٣ ساعات، وهكذا.