

# الوقت لأقرب ٥ دقائق

١٠-٧

أستعد

فكرة الدرس

أعد قفزيًا خمسًا  
لأقرأ الساعة.

أعد بالقفز خمسًا لأعرف الوقت.

تشير الساعة إلى الدقيقة

٩:٤٠ بعد الساعة ٩.

أكتب الوقت بطريقة أخرى.



أقرأ: الساعة التاسعة وأربعون دقيقة.

أتأكد

أقرأ الساعة، ثم أكتب الوقت الذي تشير إليه مستعملًا:



4:25

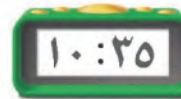



4:55



12:30

أضبط بحسب الوقت المعطى، ثم أرسم عقرب الدقائق الذي يدل عليه:



أشرح كيف أقرأ الساعة بالعد القفزي خمسًا.

أتحدث

الدرس ١٠-٧ : الوقت لأقرب ٥ دقائق

نبدأ بالساعة 1 تكون 5 دقائق

تليها الساعة 2 تصبح 10 دقائق .... وهكذا

أَتَدَرِّبُ

أَقْرَأُ السَّاعَةَ، ثُمَّ أَكْتُبُ الْوَقْتَ الَّذِي تُشِيرُ إِلَيْهِ مُسْتَعْمِلًا :



3:45

١٠



6:15

٩



4:50

٨



8:10

١٣



5:50


١٢



11:30


١١

أَرْسُمُ عَقْرَبَ الدَّقَائِقِ الَّذِي يَدُلُّ عَلَى الْوَقْتِ الْمُعْطَى مُسْتَعْمِلًا :



9:50

١٦



12:35

١٥



5:45

١٤



أَحْلُ الْمَسْأَلَةَ

١٧

الْحِسُّ الْعَدَدِيُّ: لَا يُمَكِّنُ أَنْ أَكْتُبَ الْوَقْتَ هَكَذَا: ١١:٦٠ ، أَشْرَحُ لِمَاذَا؟

حتى نستطيع البدء فيها بالعد القفزي خمس مرات يجب ان يكون الوقت 11:00

لأنه عندما نصل الى 60 دقيقة تكون قد اكتملت الساعة فيجب ان نكتب 12:00

نشاط منزلي



انظر مع طفلك إلى الساعة، ثم اسأله كم ستكون الساعة بعد ٥ دقائق و ١٠ دقائق و ٢٥ دقيقة و ٥٠ دقيقة.