




أعد الأوراق النقدية لكي أجد قيمتها:



المجموع ... 75 ريالاً 50 ، 60 ، 65 ، 70 ، 75

أحتاج إلى ١٠٠ ريال لشراء ساعة جديدة. أحوط المجموعة التي تساوي ١٠٠ ريال.



أقدر الزمن اللازم لكل حدث، ثم أحوط الإجابة الصحيحة:

٥ طرفة العين.

٤ لعب مباراة كرة يد.



ساعة واحدة  
دقيقة واحدة

ثانية واحدة

ساعة واحدة

دقيقة واحدة

ثانية واحدة

أكتب الوقت الذي تشير إليه الساعة:



5:20




9:00




4:30


أَرْسُمْ عَقْرَبَ الدَّقَائِقِ الَّذِي يَدُلُّ عَلَى الْوَقْتِ الْمُعْطَى:



١١



١٠



٩

أَحْوَطُ النَّشَاطِ الَّذِي يَسْتَعْرِقُ وَقْتًا أَقْصَرَ:

١٢



إِلَى



إِلَى



تُرِيدُ مَهَا أَنْ تَشْتَرِيَ هَدِيَّةً لَوَالِدَتِهَا ثَمَنُهَا ٧٦ رِيَالًا، فَمَا الْعَمَلَاتِ  
النَّقْدِيَّةُ الَّتِي يُمَكِّنُ أَنْ تَدْفَعَهَا لِلْبَائِعِ؟

١٣

1 5 10 10 50

نَظَّمَتْ مَدْرَسَةُ لِطَّلَابِهَا ٣ رَحَلَاتٍ لِزِيَارَةِ الْمُتَحَفِ الْوَطَنِيِّ، بِمُعَدَّلِ رَحْلَةٍ كُلِّ سَاعَتَيْنِ.  
إِذَا انْطَلَقَتِ الرَّحْلَةُ الْأُولَى السَّاعَةَ الـ ٧:٠٠ صَبَاحًا، فَمَتَى تَنْطَلِقُ الرَّحْلَةُ الثَّلَاثَةُ؟

١٤

11:00