



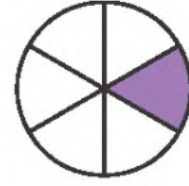
اكتب الكسر الدال على الجزء الملون:

$\frac{2}{5}$



٢

$\frac{1}{6}$



١

لون الجزء الذي يمثل الكسر المكتوب:



$\frac{3}{5}$

٤



$\frac{1}{3}$

٣


أعد الأجزاء الملونة وأكتب الكسر الدال عليها، ثم أحوط الكسر الذي يساوي ١:

$\frac{6}{6}$



٦

$\frac{2}{4}$



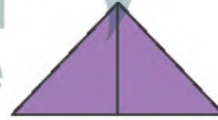
٥

$\frac{3}{5}$



٨

$\frac{2}{2}$



٧



قسمت عائشة فطيرة إلى ٤ أجزاء متساوية، أرسم خطين على الفطيرة يوضحان ذلك، ثم أكتب الكسر الذي يمثل كل جزء.

$\frac{1}{4}$