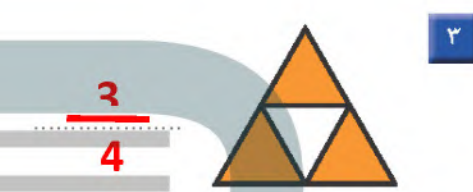




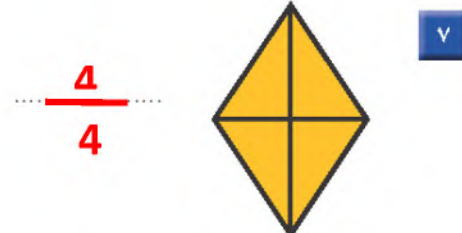
اكتب الكسر الدال على الأجزاء الملوّنة:



ألون الأجزاء التي تمثّل الكسر المكتوب:



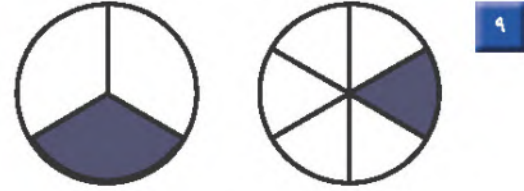
أعد الأجزاء الملوّنة، وأكتب الكسر الدال عليها:



أَقَارِنْ بَيْنَ الْكُسْرَيْنِ. أَكْتُبْ < أَوْ >:



$$\frac{1}{8} \quad \text{<} \quad \frac{2}{8}$$



$$\frac{2}{6} \quad \text{>} \quad \frac{3}{6}$$

أَكْتُبِ الْكُسْرَ الدَّالَّ عَلَى الْأَجْزَاءِ الْمُلَوَّنةِ بِالْأَضْفَرِ:

$$\frac{1}{9}$$



$$\frac{4}{12}$$



أَكْتُبِ الْكُسْرَ الدَّالَّ عَلَى الْأَجْزَاءِ الْمُلَوَّنةِ بِالْأَزْرَقِ:

$$\frac{2}{10}$$



أَحْلِ الْمَسْأَلَةَ

١٤ فطيرةٌ مُقسَّمةٌ إلى ٨ أجزاءٍ، فكم جزءاً ألَوَّنُ كَي أُبَيِّنَ أَنَّ الفطيرةَ كُلَّهَا قد أُكِلَتْ؟

$$\frac{8}{8} \text{ أجزاء.}$$