



أستعد

فكرة الدرس

اكتب الأعداد في صورة مئات وعشرات وأحاد، وأمثلها.

المفردات

المئات




يحتوي  
كل طبق على ١٠٠

مئة واحدة = ١٠ عشرات = ١٠٠ أحاد




أستعمل النماذج لأمثل المئات، ثم أكتب العدد في صورة مئات، وعشرات، وأحاد:


٢ مئتين = 20 عشرات = 200 أحاد



1 مئة = 10 عشرات = 100 أحاد



3 مئتين = 30 عشرات = 300 أحاد



ما عدد الأحاد في ٤ مئتين؟ أشرح كيف عرفت ذلك.

أنتحدث

٤


400 أحاد لأنها تساوي 4 مئات و 40 عشرات

أَتَدْرِبُ

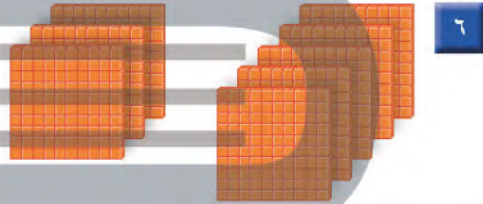
أَتَذَكِّرُ

مِئَةٌ وَاحِدَةٌ تُسَاوِي ١٠ عَشْرَاتٍ


أَسْتَعْمِلُ النَّمَاذِجَ لِأُمْلِ الْمِئَاتِ، ثُمَّ أَكْتُبُ الْعَدَدَ فِي  
صُورَةِ مِئَاتٍ، وَعَشْرَاتٍ، وَآحَادٍ:




6 مِئَاتٍ = 60 عَشْرَاتٍ = 600 آحَادٍ



8 مِئَاتٍ = 80 عَشْرَاتٍ = 800 آحَادٍ



7 مِئَاتٍ = 70 عَشْرَاتٍ = 700 آحَادٍ



9 مِئَاتٍ = 90 عَشْرَاتٍ = 900 آحَادٍ

أَشْرَحُ كَيْفَ أَنَّ ٢٠ عَشْرَةً تُسَاوِي ٢٠٠.

أَكْتُبُ

$200 = 20 + 20 + 20 + 20 + 20 + 20 + 20 + 20 + 20 + 20$

نشاط منزلي

اطلب إلى طفلك أن يعد بالمئات قفزياً حتى ٩٠٠.