



# الْأَحَادُ وَالْعَشَرَاتُ وَالْمِائَاتُ

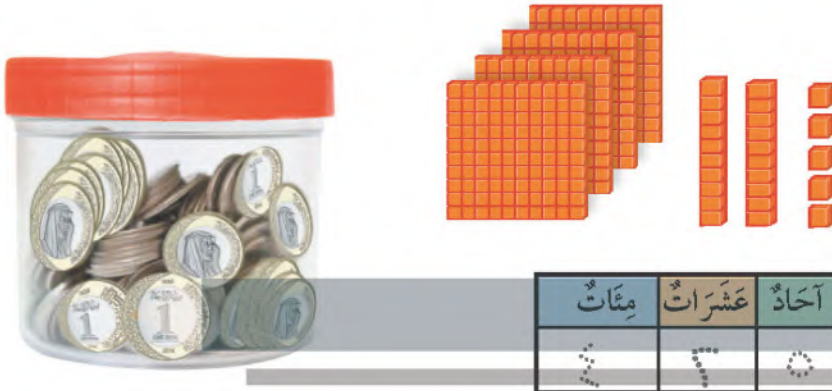
٢-٩

أَسْتَعِدُّ

فِكْرَةُ الدَّرْسِ

أُمَثِّلُ الْأَعْدَادَ بِالْأَحَادِ  
وَالْعَشَرَاتِ وَالْمِائَاتِ.

أَسْتَعْمِلُ النَّمَاذِجَ لِأُمَثِّلِ الْعَدَدَ ٤٢٥ بِالْأَحَادِ وَالْعَشَرَاتِ وَالْمِائَاتِ.



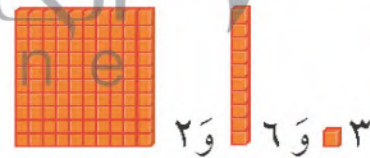
٤٢٥ أَرْبَعُ مِئَةٍ وَخَمْسَةُ وَعِشْرُونَ.

أَتَأَكَّدُ

أَسْتَعْمِلُ النَّمَاذِجَ لِأُمَثِّلِ الْعَدَدَ، ثُمَّ أَمْلَأُ جَدُولَ الْمَنَازِلِ، وَأَكْتُبُ الْعَدَدَ:

263

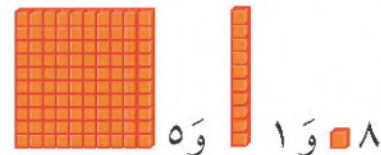
مِائَاتُ	عَشَرَاتُ	أَحَادُ
2	6	3



١

518

مِائَاتُ	عَشَرَاتُ	أَحَادُ
5	1	8



٢

مَا قِيَمَةُ الرَّقْمِ ١ فِي كُلِّ مِنَ الْأَعْدَادِ ٣٨١، ١٦٥، ٧١٢؟

أَتَحَدَّثُ

٣

قيمة الرقم 1 في العدد 712 هي 1 عشرات

قيمة الرقم 1 في العدد 165 هي 1 مئات

قيمة الرقم 1 في العدد 381 هي 1 آحاد

٦٤ الفصل ٩ : الأعداد حتى ١٠٠٠

أَتَدْرِبُ

أَسْتَعْمِلُ النَّمَاذِجَ لِأُمَثِلَ الْعَدَدَ، ثُمَّ أَمْلَأُ جَدُولَ الْمَنَازِلِ، وَأَكْتُبُ الْعَدَدَ:

٤

آحَادُ	عَشْرَاتُ	مِئَاتُ
2	8	3

٢ و ٨ و ٣

382

٥

آحَادُ	عَشْرَاتُ	مِئَاتُ
3	4	6

٣ و ٤ و ٦

643

٦

آحَادُ	عَشْرَاتُ	مِئَاتُ
9	0	7

٩ و ٠ و ٧

709

ملف البيانات



يَبْلُغُ ارْتِفَاعُ بُرْجِ الْمَمْلَكَةِ ٢٠٠ مِترًا تَقْرِيبًا، أَمَّا بُرْجُ الْفَيْصَلِيَّةِ فَيَبْلُغُ ارْتِفَاعَهُ ٢٦٦ مِترًا تَقْرِيبًا.

٧ مَا الرَّقْمُ الدَّالُّ عَلَى مَنَزِلَةِ الْمِئَاتِ فِي الْعَدَدِ الَّذِي يُمَثِّلُ ارْتِفَاعَ بُرْجِ الْفَيْصَلِيَّةِ؟ 2

٨ مَا الرَّقْمُ الدَّالُّ عَلَى مَنَزِلَةِ الْآحَادِ فِي الْعَدَدِ الَّذِي يُمَثِّلُ ارْتِفَاعَ بُرْجِ الْمَمْلَكَةِ؟ 0

نشاط منزلي

اكتب العدد ٦٤٧، ثم اطلب إلى طفلك أن يحدد عدد الآحاد والعشرات والمئات فيه.

الدرس ٩-٢ : الآحاد والعشرات والمئات