



الأشكال الهندسية: الأضلاع والرؤوس

١٠-٥

استعد

فكرة الدرس

أصف الشكل المستوي
بحسب عدد أضلعه
ورؤوسه.

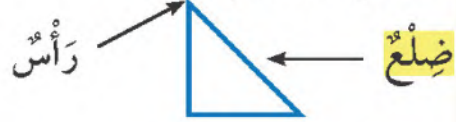
المفردات

الضلع

عدد أضلاع المربع
يساوي عدد رؤوسه.



أصف الأشكال المستوية بحسب عدد
أضلاعها ورؤوسها.



٣ أضلاع و ٣ رؤوس



٤ أضلاع و ٤ رؤوس




أتأكد

أكتب عدد الأضلاع وعدد الرؤوس:

أضلاع
رؤوس



أضلاع
رؤوس



ضلع
رأس



أضلاع
رؤوس




أشرح أوجه التشابه والاختلاف بين الشكل السداسي والمربع.

أتحدث

أَحْوَطُ الْأَشْكَالَ الَّتِي تَتَّفِقُ مَعَ الْوَصْفِ:

٦ ٤ أَضْلَاعَ وَ ٤ رُؤُوسٍ



٧ ٣ أَضْلَاعَ وَ ٣ رُؤُوسٍ



٨ ٠ ضِلْعَ ٠ رَأْسَ

أَكْتُبْ اسْمَ الشَّكْلِ، ثُمَّ أَدْكُرْ صِفَتَيْنِ لَهُ:



الجلول اون لاين
hulul.online



أَحْلُ الْمَسْأَلَةَ

١١ التَّفَكِيرُ الْمُنْطَقِيُّ: هَلْ كُلُّ مُسْتَطِيلٍ مُرَبَّعٌ؟ أَوْضِّحْ إِجَابَتِي.

نشاط منزلي

وجه انتباه طفلك إلى بعض الأشكال المستوية من حوله؛
مثل: إشارات الطرق ولافتات المخال التجارية، وغيرها،
ثم اطلب إليه أن يصفها ويسمّيها.

الدرس ١٠-٥ : الأشكال المستوية: الأضلاع والرؤوس