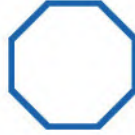




اكتب عدد الأضلاع والرؤوس:

أضلاع
رؤوس




٢

أضلاع
رؤوس

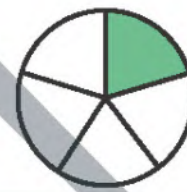


١

أعد الأجزاء الملونة وكتب الكسر الدال عليها، ثم أحوط الكسر الذي يساوي ١:



٧



٦

عدد الأجزاء الملونة
عدد الأجزاء المتطابقة جميعها

عدد الأجزاء الملونة
عدد الأجزاء المتطابقة جميعها



٨ ما الكسر الدال على عدد الصدقات البنفسجية؟

٩ ما الكسر الدال على عدد الصدقات الصفراء؟