



## قياس المساحة

٦-١١

أستعد

### فكرة الدرس

أستعمل نماذج مربعة الشكل لإيجاد المساحة.

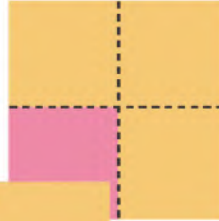
### المفردات

المساحة

المساحة: هي عدد الوحدات المربعة اللازمة لتغطية فراغ أو سطح.

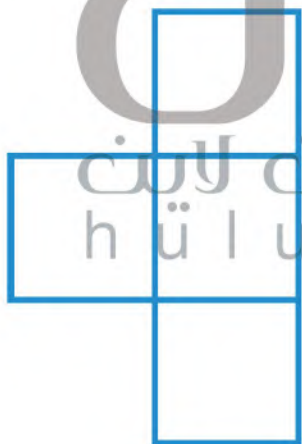
= وحدة مربعة واحدة.

مساحة الشكل تساوي عدد وحدات مربعة.



أتأكد

أستعمل لأجد المساحة:



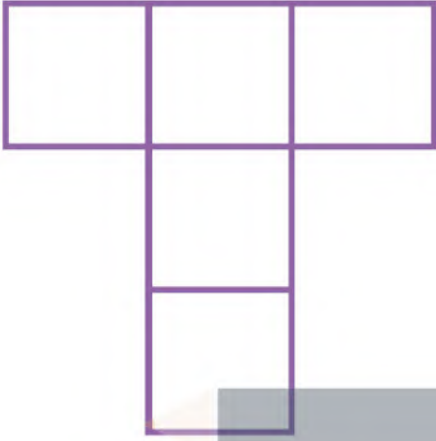
وحدات مربعة.

وحدات مربعة.

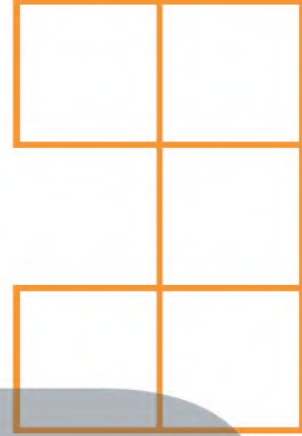
أنظر إلى الأشكال أعلاه، وأشرح كيف أعرف أيهما أكبر مساحة دون استعمال النماذج.

أتحدث

مَا مِسَاحَةُ كُلِّ شَكْلِ مِمَّا يَلِي بِالْوَحْدَةِ الْمُرَبَّعَةِ؟



٥




٤

وَحْدَاتٍ مُرَبَّعَةٍ.

وَحْدَاتٍ مُرَبَّعَةٍ.

أَتَذَكَّرُ

أَقِيسِ الْمِسَاحَةَ بِالْوَحْدَاتِ  
الْمُرَبَّعَةِ.




٦

وَحْدَاتٍ مُرَبَّعَةٍ.

أَخْلُ الْمَسْأَلَةَ

التَّفَكِيرُ الْبَصَرِيُّ: كَمْ وَحْدَةً مُرَبَّعَةً مُلَوَّنَةً بِاللَّوْنِ الْأَزْرَقِ؟

٧



كَيْفَ عَرَفْتُ ذَلِكَ؟

نشاط منزلي

ارسم خمسة أشكال في ورقة رسم بياني، ثم اطلب إلى  
طفلك أن يُعَدَّ المربعات؛ ليجد مساحة كل شكل منها.