



أختار الإجابة الصحيحة:

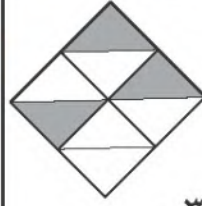
- ١ إذا كان مع بندر ٣ ورقات نقدية من فئة ١٠ ريال، و ٣ أوراق من فئة ٥ ريال، و ٣ قطع من فئة الريال. فكم ريالاً مع بندر؟
- ٤ يُوجد في إحدى المكتبات ٣٨٧ كتاباً دينياً، ما الرقم الدال على منزلة العشرات في العدد الذي يمثل عدد الكتب الدينية؟

٧ ٣ ١٨ ٩
○ ○ ○ ○
١٠ ٨ ٦٣ ٤٨
○ ○ ○ ○

- ٢ أكتب العدد: $300 + 20 + 5$
- ٥ ما عدد أضلاع المستطيل؟

٢ ١ ٣٥٢ ٣٢٥
○ ○ ○ ○
٤ ٣ ٥٢٣ ٣٢٠٥
○ ○ ○ ○


- ٣ أكتب الكسر الدال على الأجزاء المظللة.
- ٦ ما اسم هذا الجسم؟



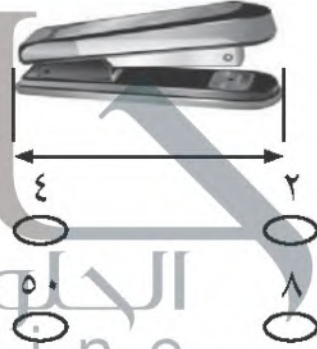
مخروط أسطوانة
○ ○
مثلث هرم
○ ○

$\frac{3}{8}$ $\frac{3}{7}$
○ ○
 $\frac{5}{7}$ $\frac{5}{8}$
○ ○



٧ طُول القَلَم ٤ مُكَعَّباتٍ، فَكَمْ مِشْبَكًا
يُسَاوِي طُولَ هَذَا القَلَمِ تَقْرِيبًا؟



٨ كَمْ سَتَمِثْرًا تَقْرِيبًا طُولُ الدَّبَّاسَةِ؟



٩ كَمْ وَحْدَةً مُرَبَّعَةً مُظَلَّلَةً فِي الشَّكْلِ الْآتِي؟



١٠ كَمْ وَحْدَةً مُرَبَّعَةً مِسَاحَةُ الشَّكْلِ الْآتِي؟



١١ طُولُ مِسْطَرَّةِ سَعَادَ ٣٠ سَتَمِثْرًا،
و طُولُ مَقْعَدِهَا ٩٠ سَتَمِثْرًا، فَكَمْ
مِسْطَرَّةً كَمِسْطَرَّةِ سَعَادَ تُسَاوِي طُولَ
مَقْعَدِهَا؟



سَتَمِثْرَاتٍ.