

الطَّرْحُ بِإِعَادَةِ تَجْمِيعِ الْعَشَرَاتِ

٧-١٣

أَسْتَعِدُّ

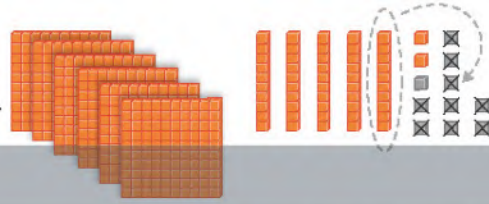
فِكْرَةُ الدَّرْسِ

أَعِيدُ تَجْمِيعَ
الْعَشَرَاتِ لِأَطْرَحَ
أَعْدَادًا مِنْ ثَلَاثَةِ
أَرْقَامٍ.

أَجِدُ نَاتِجَ ٦٥٢ - ٤٢٩


الْخُطْوَةُ ١: أَطْرَحُ الْآحَادَ، سَأَجِدُ أَنَّهُ لَا يُمَكِّنُ طَرَحَ ٩ مِنْ ٢؛ لِذَلِكَ فَإِنِّي أُعِيدُ تَجْمِيعَ
عَشْرَةٍ وَاحِدَةٍ فِي صُورَةِ ١٠ آحَادٍ.

آحَادٌ	عَشَرَاتٌ	مِائَاتٌ
١٢	٥	٦
٩	٢	٤
٣		



الْخُطْوَةُ ٢: أَطْرَحُ الْعَشَرَاتِ.

آحَادٌ	عَشَرَاتٌ	مِائَاتٌ
١٢	٥	٦
٩	٢	٤
٣	٦	



الْخُطْوَةُ ٣: أَطْرَحُ الْمِائَاتِ.

آحَادٌ	عَشَرَاتٌ	مِائَاتٌ
١٢	٥	٦
٩	٢	٤
٣	٦	٣



$$333 = 652 - 429$$

أَتَأَكَّدُ

أَجِدُ نَاتِجَ الطَّرْحِ مُسْتَعْمِلًا النَّمَاذِجَ :

$$..... = 439 - 782$$

$$339 = 217 - 546$$

أُبَيِّنُ وَجْهَ الشَّبَهِ بَيْنَ طَرَحِ أَعْدَادٍ مِنْ ثَلَاثَةِ أَرْقَامٍ، وَطَرَحِ أَعْدَادٍ مِنْ رَقْمَيْنِ.

أَتَحَدَّثُ

الفصل ١٣ : جمع الأعداد من ٣ أرقام وطرحها

١٦٦

أَجِدْ نَاتِجَ الطَّرْحِ مُسْتَعْمِلًا النَّمَاذِجَ :

..... = ٤٩ - ٤٦٧ ٥

..... = ١٢٨ - ٣٨٢ ٤

..... = ٥٠٧ - ٧٥٤ ٧

..... = ٦٦ - ٥٧٥ ٦

٩ ٣ ١
٦ -

١١

٦ ٥ ٢
٣ ٥ -

١٠

٧ ٨ ٠
٤ ٣ ٦ -

٩

٤ ٥ ٥
٣ ٢ ٥ -

٨

أَجِدْ نَاتِجَ الطَّرْحِ :

٥ ٤ ٠
١ ٥ -

١٥

٤ ٢ ٣
١ ١ ٩ -

١٤

٣ ٨ ٧
١ ٨ -

١٣


٧ ٤ ٢
٢ ١ ٩ -

١٢

..... = ٥٦ - ٧٦٢ ١٧

..... = ٣٠٧ - ٥٥٠ ١٦

مسائل مهارات التفكير العليا



أَصْحَحُ الْخَطَأَ: طَرَحْتُ أَمَلُ ١٨

٣٨١ - ١٦٥ فَحَصَلْتُ عَلَى النَّاتِجِ
الظَّاهِرِ فِي الصُّورَةِ، أَجِدُ الْخَطَأَ الَّذِي
وَقَعْتُ فِيهِ أَمَلُ، ثُمَّ أَصَحِّحُهُ.

نشاط منزلي

اطلب إلى طفلك أن يجد ناتج الطرح ٦١٨ - ٣٠٩،
ويشرح إجابته.