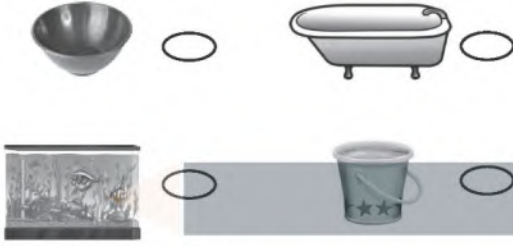




أختار الإجابة الصحيحة:

٤ أي الأوعية الآتية أكبر سعة؟



١ إذا كان طول المكعب يساوي سنتيمتراً واحداً، فكم سنتيمتراً يبلغ طول الفرشاة؟



٩ ١٠ ١١ ١٢

٥ ما الوحدة التي أستخدمها لقياس كتلة الكرة؟



٣ سنتيمتر ٢٢ سنتيمتر
١٠٠ سنتيمتر ١ سنتيمتر
مللتر ١ جرام
لتر ٥٠ جرام

٢ كم سنتيمتراً تقريباً عرض الكتاب؟



٣ سنتيمتر ٢٢ سنتيمتر
١٠٠ سنتيمتر ١ سنتيمتر

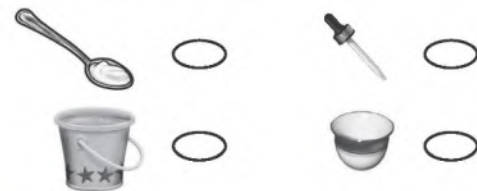
٦ ما كتلة مشبك الورق تقريباً؟



١ جرام ٥٠ جرام

١ كيلو جرام ٥ كيلو جرامات

٣ ما الأداة المناسبة لأقيس سعة حوض الأسماك؟



١٠ أَقْرَبُ كُلِّ عَدَدٍ إِلَى أَقْرَبِ مِئَةٍ، ثُمَّ أَجْمَعُ
الْمِئَاتِ لَاقْدَرِ نَاتِجَ الْجَمْعِ:

$$569 + 333$$

٦٠٠ ٧٠٠ ٨٠٠ ٩٠٠


٧ مَا الْعَدَدُ الَّذِي يُمَثِّلُ خَمْسَ مِئَةٍ زَائِدَ
خَمْسِينَ زَائِدَ وَاحِدٍ؟

٥٠٥١ ٥٠٠٥٠١

٥٥١ ٥٥٠١

٨ عِنْدِي مِئَتَانِ وَأَرْبَعَةٌ وَخَمْسُونَ طَابِعًا. إِذَا أَعْطَانِي أَخِي مِئَةً وَسِتَّةً وَثَلَاثِينَ طَابِعًا، فَكَمْ طَابِعًا مَعِيَ الْآنَ؟

١١ يُبَلِّطُ مُحَمَّدٌ جُزْءًا مِنْ أَرْضِ الْعُرْفَةِ
بِبِلَاطٍ مُرَبَّعٍ، فَكَمْ بِلَاطَةً يَحْتَاجُ لِتَبْلِيطِ
الْمَسَاحَةِ الْمَوْضُوحَةِ بِالشَّكْلِ التَّالِي؟

١ بِلَاطَةٌ = 



بِلَاطَاتٍ

١٢ مَا الْفَرْقُ بَيْنَ أَطْوَلِ بُرْجٍ وَأَقْصَرَ بُرْجٍ
فِي الْجَدُولِ التَّالِي؟

ارتفاع البرج	
١٨٧ مترًا	برج القاهرة
٢٦٦ مترًا	برج الفيصلية
١٧٠ مترًا	برج التلفزيون بالرياض

.....مترًا

٩ يَضُمُّ كِتَابُ التَّلْوِينِ لَدَى زِيَادٍ ثَلَاثَ
مِئَةٍ وَإِحْدَى وَعِشْرِينَ صَفْحَةً، وَقَدْ
لَوَّنَ مِنْهَا مِئَةً وَسَبْعَ عَشْرَةَ صَفْحَةً،
فَكَمْ صَفْحَةً بَقِيَتْ لَمْ يُلَوَّنْهَا؟

٣٢١

١١٧ -

٢٠٤ ١٥٤ ١٠٤ ٩٤