



أَجِيبْ عَنْ أَسْئَلَةِ التَّهْيِئَةِ الْآتِيَةِ:

أَجِدْ نَاتِجَ الطَّرْحِ: (مهارة سابقة)

١ ٧ = ٧ - ١٤ ٢ ٣٠ = ٦ - ٣٦ ٣ ٣٦ = ٩ - ٤٥ ٤ ٤٨ = ٨ - ٥٦

٥ في مكتبة المدرسة ١٨ طالبًا، إِذَا كَانَ ٦ مِنْهُمْ يَقْرَءُونَ قِصَصًا تَارِيخِيَّةً، فَمَا عَدَدُ الطُّلَابِ الَّذِينَ يَقْرَءُونَ أَصْنَافًا أُخْرَى مِنَ الْقِصَصِ؟  
١٢ = ٦ - ١٨

أَيُّ زَوْجَيْنِ مِنَ الْمَجْمُوعَتَيْنِ الْآتِيَتَيْنِ مُتَسَاوِيَانِ؟ (مهارة سابقة)




٨ تَقَاسَمَتْ هِنْدٌ وَسَارَةُ وَوَفَاءُ صُنْدُوقًا مِنَ الْحَلْوَى، أَخَذَتْ كُلُّ وَاحِدَةٍ مِنْهُنَّ ٧ قِطْعٍ، فَكَمْ قِطْعَةً حَلْوَى كَانَتْ فِي الصُّنْدُوقِ؟  
٢١ = ٣ × ٧ قطعة

أَجِدْ نَاتِجَ الضَّرْبِ: (مهارة سابقة)

٩ ٨ = ٤ × ٢ ١٠ ١٨ = ٦ × ٣ ١١ ٢٠ = ٤ × ٥ ١٢ ٥٦ = ٨ × ٧

١٣ اَكْتُبْ جُمْلَتِي الضَّرْبِ الْمُنَاسِبَتَيْنِ لِلشَّبَكَتَيْنِ الْآتِيَتَيْنِ:



٤ × ٢



٢ × ٤