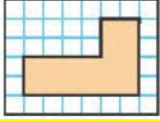


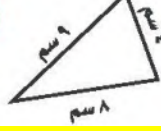
أجد محيط كذا الشكل: $18 = 7 + 3 + 1 + 1 + 6$ سم



٩



٨



٧

محيط = $21 = 4 + 9 + 8$ سم

الجبر: محيط الشكل أدناه يساوي ٢٤ سم،

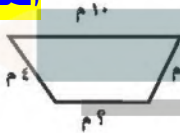
ما طول الضلع المجهول فيه؟ (الدروس ٣-٨)

المحيط = مجموع اطوال الصلاع

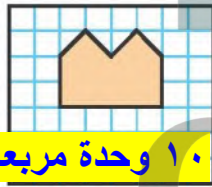
$$10 + 4 + 4 + 2 = 20$$

$$20 - (4 + 4 + 10) = 2$$

$$20 - 4 = 16$$



أجد مساحة كل شكل مما يأتي: (الدروس ٤-٨)



١٠ وحدة مربعة



١٦ وحدة مربعة



٣ وحدة مربعة

أجد مساحة سجادة مستطيلة الشكل طولها

٦ أمتار وعرضها $5 \times 6 = 30$ متر مربع

أكتب أسماء أشياء يمكن أن

أقيسها بالمترات، وأوضح لماذا لا أقيسها

بالمترات. (الدروس ١-٨)

النملة، النحلة، القطعة النقدية

أختار الوحدة الأنسب (المليمتر، السنتيمتر، المتر،

الكيلومتر)؛ لقياس كل من الأطوال الآتية: (الدروس ١-٨)

١ المسافة المقطوعة بالسيارة. كيلومتر

٢ طول باص المدرسة. متر

٣ أختار التقدير الأنسب لطول كل من: (الدروس ١-٨)

٤ طول النافذة؛ ٢ م أم ٢ كلم ٢ متر

٥ طول غرفة الصف؛ ١٢ كلم أم ١٢ م ١٢ م

٦ أختار الوحدة الأنسب لقياس المسافة بين مدينتي الرياض

وحائل. (الدروس ١-٨)

٧ (أ) اللتر (ب) السنتيمتر (ج) المتر (د) الكيلومتر

٨ اشترك عدد من العمال في زراعة حديقة أحد

المنازل، فعمل كل منهم ٤ ساعات يوميًا،

ولمدة يومين، إذا كان مجموع ساعات العمل

لهم جميعًا هو ٢٤ ساعة، فكم عاملاً شارك

في زراعة الحديقة؟ (الدروس ٢-٨)

ساعات عمل العامل الواحد ليومين $24 = 8 \times 4$ ساعة

ساعات العمل للجميع ٢٤ ساعة

عدد العمال $3 = 24 \div 8$ عمال