

الاختيار من متعدد

الجزء ١


أختار الإجابة الصحيحة:

١ أختار الوحدة الأنسب لقياس
سعة الكوب المجاور.




- (أ) ١٠ مل (ج) ٢ ل
(ب) ١٠٠ مل (د) ٥ ل

٢ الجزء المظلل من الشكل أدناه يمثل
مساحة غرفة ياسر، فما مساحة غرفته؟



- (أ) ١٨ وحدة مربعة (ج) ٣٦ وحدة مربعة
(ب) ٢٤ وحدة مربعة (د) ٤٨ وحدة مربعة

٣ ما حجم المجسم أدناه؟



- (أ) وحدة مكعبة واحدة
(ب) وحدتان مكعبتان
(ج) ٨ وحدات مكعبة
(د) ١٢ وحدة مكعبة

٤ ما العدد الذي ناتج قسمة العدد ٨ عليه

يساوي ٨؟

- (أ) ٠ (ج) ٨
(ب) ١ (د) ١٦

٥ ما محيط المستطيل أدناه؟




- (أ) ١٣ سم (ج) ٢٦ سم
(ب) ٣٥ سم (د) ٢٠ سم

٦ عدد من الحافلات مجموع عدد عجلاتها
يساوي ٤٨ عجلة، فما عدد الحافلات
جميعها، إذا كان لكل منها ٦ عجلات؟

- (أ) ٤ (ج) ٨
(ب) ٦ (د) ٩

٧ أي الجمل العددية الآتية يمثلها الشكل أدناه؟



- (أ) $3 = 8 \div 24$ (ج) $7 = 3 \div 21$
(ب) $6 = 3 \div 18$ (د) $5 = 4 \div 20$

الجزء ٢ الإجابة القصيرة

١١ النموذج الآتي يبين الجملة العددية:

$$8 = 3 \div 24$$

$24 = 8 \times 3$
 $24 = 3 \times 8$
 $8 = 3 \div 24$
 $3 = 8 \div 24$

اكتب الحقائق المترابطة الأخرى.

١٢ أرتب وحدات الطول الآتية من الأصغر إلى الأكبر: المتر، الكيلومتر، المليمتر، السنتيمتر.

المليمتر، السنتيمتر، المتر، الكيلومتر

الجزء ٣ الإجابة المطولة

١٣ أجيب عن السؤالين التاليين موضحاً خطوات الحل:

منزل أروية مسطبة طولها ٣٤ متراً، وعرضها ٢٤ متراً، فكم محيطها؟

محيط المنزل = $24 + 34 + 24 + 34 = 116$ متر

١٤ لعب محمد وخالد وسعيد كرة السلة، ففاز

محمد بفارق ١٥ نقطة، في حين أحرز خالد

١٠ نقاط أكثر مما أحرز سعيد، إذا علمت أن

سعيداً قد أحرز ٢٠ نقطة أحرز سعيد ٢٠ نقطة

كل من محمد وخالد ٣٠ نقطة أحرز خالد ٣٠ نقطة

أحرز محمد ٤٠ نقطة

٨ لدى عبيد ٣٢ كتاباً، وتريد وضعها على ٤ رفوف، إذا كانت قد وضعت العدد نفسه من الكتب على كل رف، فكم كتاباً وضعت على الرف الواحد؟

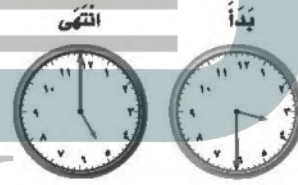
(ج) ٨

(د) ٩

(أ) ٤

(ب) ٥

٩ توضّح الساعتان أدناه متى بدأ محمد ترتيب غرفته، ومتى انتهى من ذلك.



كم استغرق من الوقت في ترتيب غرفته؟

(ج) ساعتين

(ب) ساعة ونصفاً

١٠ ما مساحة غرفة أروية مسطبة طولها

٤ وحدات، وعرضها ٣ وحدات؟

(أ) ٧ وحدات مربعة

(ب) ٨ وحدات مربعة

(ج) ١٢ وحدة مربعة

(د) ١٥ وحدة مربعة

هل تحتاج إلى مساعدة إضافية؟

١٤	١٣	١٢	١١	١٠	٩	٨	٧	٦	٥	٤	٣	٢	١	إذا لم تجب عن السؤال...
٢-٨	٣-٨	١-٨	١-٧	٤-٨	٨-٨	٣-٦	٢-٦	٣-٧	٣-٨	٧-٦	٧-٨	٤-٨	٥-٨	فراجع الدرس...