

أَجِيبْ عَنِ الْأَسْئَلَةِ الْآتِيَةِ:

مُسْتَعْمِلًا التَّمَثِيلَ بِالصُّوَرِ الْمُجَاوِرِ، أَجِيبْ عَنِ الْأَسْئَلَةِ الْآتِيَةِ: (مهارة سابقة)

ما عَدَدُ الطُّلَّابِ الَّذِينَ يُفَضِّلُونَ فَضْلَ الصَّيْفِ؟ $12 = 2 \times 6$ طالب

كَمْ يَزِيدُ عَدَدُ الطُّلَّابِ الَّذِينَ يُفَضِّلُونَ فَضْلَ الشِّتَاءِ عَلَى أَوْلَيْكَ الَّذِينَ يُفَضِّلُونَ فَضْلَ الْخَرِيفِ؟ $4 = 2 - 6$ طالب

مَا الْفَضْلُ الَّذِي يُفَضِّلُهُ ١٠ مِنَ الطُّلَّابِ؟ فصل الشتاء

ما عَدَدُ الطُّلَّابِ جَمِيعِهِمْ؟ ٣٤ طالب

كُلُّ شَيْءٍ يَرْمِزُ إِلَى طَالِبِينَ

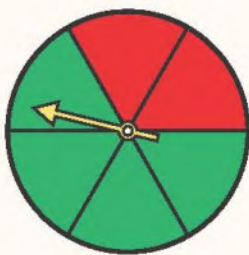
أَجِدْ نَاتِجَ الْجَمْعِ: (مهارة سابقة)

٥
٦
٩
٢ +
٢٢

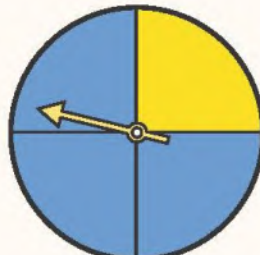
٧
٨
٤
١ +
٢٠

٣
٢
٥
٦ +
١٦

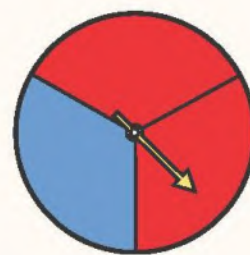
أُحَدِّدُ اللَّوْنَ الْأَكْثَرَ اِحْتِمَالًا أَنْ يَتَوَقَّفَ عِنْدَهُ الْمُؤَشِّرُ فِي كُلِّ مِنَ الْأَشْكَالِ الْآتِيَةِ: (مهارة سابقة)



الاحمر



الاحمر



الاحمر