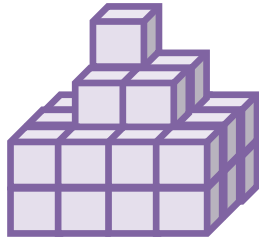
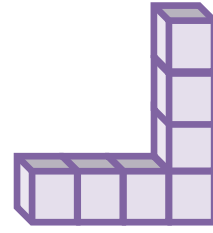


## استكشاف: الأشكال الثلاثية الأبعاد

### حلل النتائج:

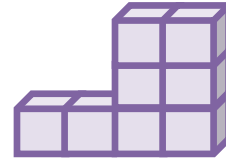
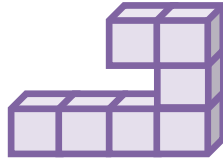


(ب)



(أ)

(٢) لا، فكل شكل له المناظر الخاصة به والتي تكون شكله.



(٣)

(٤) يحتاج مهندسا معماريا أن يرسم سلما طوله ٥ أمتار ليتم بناء المنزل، ارسم شكل السلم.

