

المهارات الأساسية للصف الأول الابتدائي :

١ - قراءة وكتابة الأعداد من ١ الى ٩

• اقرأ الأعداد التالية :

٣ ، ٨ ، ٤ ، ٧ ، ٩

• اكتب الأعداد التالية :

(يقوم المعلم بقراءة العدد ويطلب من الطالب كتابته بالشكل الصحيح)

اثنان	ستة	واحد	خمسة
.....

٢ - قراءة وكتابة الأعداد من ١ الى ٢٠

• اقرأ الأعداد التالية :

١٣ ، ١٨ ، ١٦ ، ١٩ ، ١١

• اكتب الأعداد التالية :

(يقوم المعلم بقراءة العدد ويطلب من الطالب كتابته بالشكل الصحيح)

اثنان عشر	خمسة عشر	سبعة عشر	اربعة عشر
.....

المهارات الأساسية للصف الثاني الابتدائي :

١ - التعرف على منزلتي الآحاد و العشرات

• اكتب العدد كآحاد و عشرات

٥٧ آحاداً = آحاد و عشرات .

٣٦ آحاداً = آحاد و عشرات .

٢- إيجاد ناتج جمع و طرح عددين كل منهما مكون من رقم واحد

اوجد ناتج ما يلي :

$$\begin{array}{r} 4 \\ + 8 \\ \hline \end{array}, \quad \dots = 3 + 5$$

$$\begin{array}{r} 9 \\ - 6 \\ \hline \end{array}, \quad \dots = 7 - 2$$

المهارات الأساسية للصف الثالث الابتدائي :

١ - تحديد القيمة المنزلية لرقم ضمن (١٠٠٠)

• احوط القيمة المنزلية للرقم الذي تحته خط

$\begin{array}{r} 673 \\ \hline \end{array}$,	$\begin{array}{r} 931 \\ \hline \end{array}$
٦٠٠ ، ٦٠ ، ٦		٣٠٠ ، ٣٠ ، ٣

٢ - إيجاد ناتج جمع و طرح عددين كل منهما مكون من رقمين مع إعادة التجميع او بدونه

• اوجد ناتج ما يلي :

$\begin{array}{r} 83 \\ - 26 \\ \hline \end{array}$	$\begin{array}{r} 68 \\ - 25 \\ \hline \end{array}$	$\begin{array}{r} 37 \\ + 46 \\ \hline \end{array}$	$\begin{array}{r} 54 \\ + 21 \\ \hline \end{array}$
---	---	---	---

المهارات الأساسية للصف الرابع الابتدائي :

١ - تحديد القيمة المنزلية لرقم في عدد ضمن عشرات الألوف

- اكتب القيم المنزلية للرقم الذي تحته خط

٤٧٨١

٣٥٦٩

.....

.....

٢ - ايجاد ناتج جمع و طرح عددين من ٣ ارقام مع إعادة التجميع

- اوجد ناتج ما يلي :

٨١٧

٥١٦

١٥٤ -

٣٠٨ +

٣ - ايجاد ناتج الضرب في الأعداد (٩ ، ٨ ، ٧ ، ٦ ، ٥ ، ٤ ، ٣ ، ٢)

- اوجد ناتج الضرب فيما يلي :

$$..... = ٥ \times ٥ , \quad = ٨ \times ٦ , \quad = ٩ \times ٤ , \quad = ٧ \times ٣$$

٤ - ايجاد ناتج القسمة على الأعداد (٩ ، ٨ ، ٧ ، ٦ ، ٥ ، ٤ ، ٣ ، ٢)

- اوجد ناتج القسمة فيما يلي :

$$..... = ٩ \div ٦٣ , \quad = ٣ \div ١٥ , \quad = ٧ \div ٥٦ , \quad = ٦ \div ١٨$$

المهارات الأساسية للصف الخامس الابتدائي :

١ – تحديد القيمة المنزلية ضمن الملايين

- اكتب القيمة المنزلية للرقم الذي تحته خط مما يلي :

٥٤٦٤٩٨٧

٣٦٤٩٠١٨

.....

.....

٢ – ضرب عدد من ثلاث ارقام على الاكثر في عدد من رقمين بإعادة التجميع او بدونه

- اوجد ناتج الضرب :

٣٦٧

١٣٤

٨١ ×

٥١ ×

٣- اجراء عملية قسمة يكون الناتج فيها من ثلاثة ارقام على الأكثر

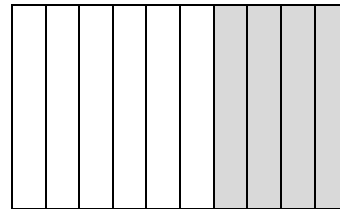
- اوجد ناتج القسمة :

٦ $\overline{) ١٥٠٦}$

٤ $\overline{) ٥٦}$

٤ – كتابة الكسور الاعتيادية والعشرية

- اكتب الكسر الاعتيادي و الكسر العشري الذي يمثل الجزء المظلل في الرسم التالي :



.....

,

.....

المهارات الأساسية للصف السادس :

١- ضرب عدد من ثلاث ارقام على الاكثر في عدد من رقمين

- اوجد ناتج الضرب :

$$\begin{array}{r} ٧٣٥ \\ \times ٥١ \\ \hline \end{array}$$

$$\begin{array}{r} ٣٦ \\ \times ١٤ \\ \hline \end{array}$$

٢- القسمة على عدد من رقم واحد او رقمين

- اوجد ناتج القسمة :

$$\begin{array}{r} ٣٨١٥ \\ \overline{) ٥} \end{array}$$

$$\begin{array}{r} ٦٤٥ \\ \overline{) ١٥} \end{array}$$

٥- التعرف على وحدات القياس المترية

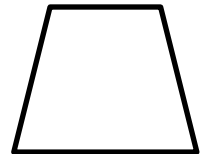

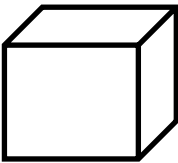
- اختر الوحد المناسبة لقياس مايلي :

(سم ، م ، ، ، جم ، كجم ، ملل ، ل)

طول الباب ، سعة خزان ماء ، كتلة رغيف الخبز

٤ - تعرف الاشكال ثنائية الابعاد و ثلاثية الابعاد والمثلثات والزوايا و وصفها و تصنيفها

- سم كل من الاشكال أو المجسمات التالية :



.....

.....

.....

.....