




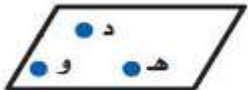

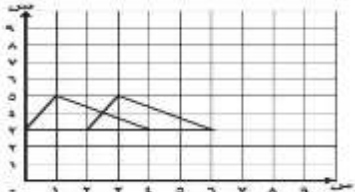
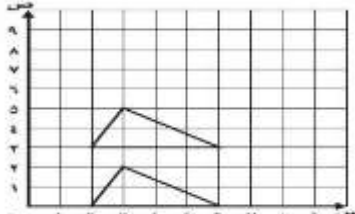







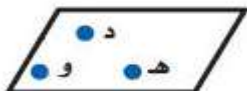

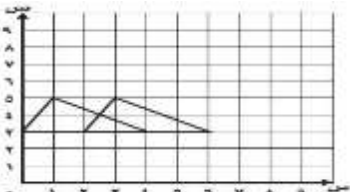
اختبار الفترة الثانية	الفصل الدراسي الثالث ١٤٤٣ هـ	المادة	رياضيات	الصف	الخامس
اسم الطالب	الدرجة	—	المعلم	

السؤال الأول: ضع الرقم المناسب من القائمة (أ) أما ما يناسبها من القائمة (ب)

م	القائمة (أ)	الرقم المناسب	القائمة (ب)
١.	٣ وحدات إلى أسفل		 <p>سقوط، منقار</p>
٢.	وحدتان إلى اليسار		 <p>طول، نملة</p>
٣.	مستقيم		٦:١٥ صباحاً إلى ١٢:٢٠ ظهراً
٤.	مستوى		
٥.	قطعة مستقيمة		
٦.	شكل سداسي عدد أضلاعه ستة وعدد زواياه ستة		
٧.	شكل خماسي عدد أضلاعه خمسة وعدد زواياه خمسة		
٨.	٦ ساعات و ٥ دقائق		
٩.	الملمتر		
١٠.	السنتيمتر		

اختبار الفترة الثانية	الفصل الدراسي الثالث ١٤٤٣ هـ	المادة	رياضيات	الصف	الخامس
اسم الطالب	الدرجة	—	المعلم	

السؤال الأول: ضع الرقم المناسب من القائمة (أ) أما ما يناسبها من القائمة (ب)

م	القائمة (أ)	الرقم المناسب	القائمة (ب)
١.	٣ وحدات إلى أسفل	<u>١٠</u>	
٢.	وحدتان إلى اليسار	<u>٩</u>	
٣.	مستقيم	<u>٨</u>	٦:١٥ صباحاً إلى ١٢:٢٠ ظهراً
٤.	مستوى	<u>٧</u>	
٥.	قطعة مستقيمة	<u>٦</u>	
٦.	شكل سداسي عدد أضلاعه ستة وعدد زواياه ستة	<u>٥</u>	
٧.	شكل خماسي عدد أضلاعه خمسة وعدد زواياه خمسة	<u>٤</u>	
٨.	٦ ساعات و ٥ دقائق	<u>٣</u>	
٩.	الملمتر	<u>٢</u>	
١٠.	السنتيمتر	<u>١</u>	