

العلاقة بين الزوايا

الاسم :

الصف :

س ١ - اخترا لإجابة الصحيحة

١ - اذا كانت الزاويتان ق، ك متكاملتين ، قياس الزاوية ق = 49° ، فما قياس الزاوية ك ؟

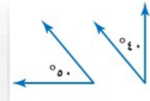
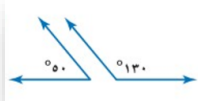
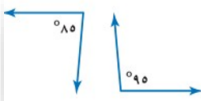
أ	ب	ج	د
41°	51°	131°	311°

٢ - زاويتان متتامتان، قياس احدهما = 75° ، فما قياس الزاوية الأخرى ؟

أ	ب	ج	د
75°	35°	25°	15°

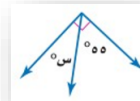
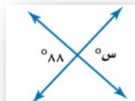
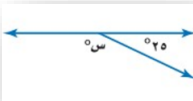
س ٢

صنف كلاً من ازواج الزوايا الاتية إلى: (متتامتين، متكاملتين، غير ذلك)



س ٣

اوجد قيمة س في كلاً من الاشكال الاتية:



المعلمة: عبيد الغامدي