

الاشكال الرباعية

٤

الصف :





الاسم :

س١ - اخترا لإجابة الصحيحة

١ - ما عدد أضلاع الشكل الرباعي ؟

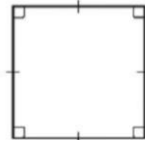
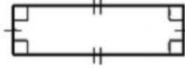
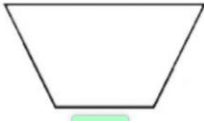
أ	١٢	ب	٥	ج	٤	د	٣
---	----	---	---	---	---	---	---

٢ - أي من الاشكال التالية مستطيل ؟

أ		ب		ج		د	
---	---	---	---	---	---	---	---

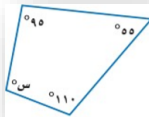
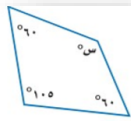
س٢

صنف كلاً من الاشكال الرباعية التالية:



س٣

اوجد قيمة س في كلاً من الاشكال الرباعية الاتية:



المعلمة: عير الغامدين