

المثلثات

الاسم :

الصف :

س ١ - اختر الإجابة الصحيحة

١ - ما اسم المثلث الذي فيه ضلعان فقط متطابقان ؟

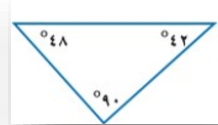
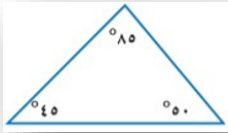
أ	مختلف الاضلاع	ب	متطابق الاضلاع	ج	متطابق الضلعين	د	حاد الزاوية
---	------------------	---	-------------------	---	-------------------	---	----------------

٢ - ما مجموع قياسات زوايا أي مثلث ؟

أ	٩٠	ب	١٢٠	ج	١٨٠	د	٣٦٠
---	----	---	-----	---	-----	---	-----

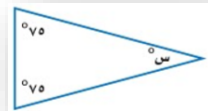
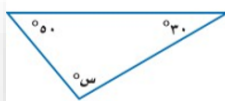
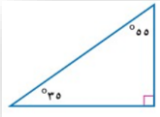
س ٢

صنف كلاً من المثلثات التالية وفق زواياها :



س ٣

اوجد قيمة س في كلاً من الاشكال الاتية:



المعلمة: عبيد الغامدي