

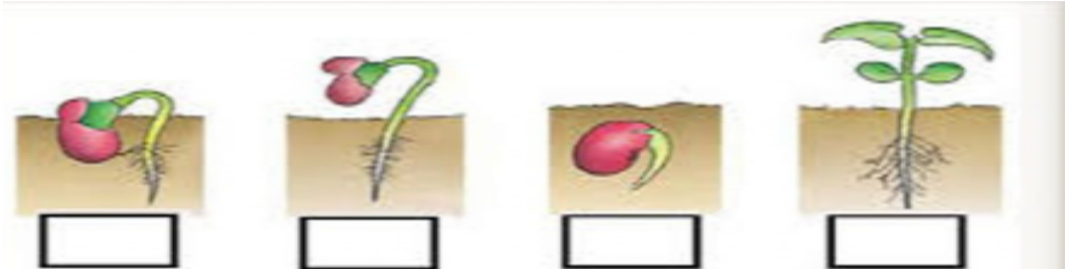
الاختبار التكويني لمادة (العلوم) للصف الثاني الابتدائي لعام ١٤٤٣ هـ

اسم الطالب/ة: الصف: اسم المدرسة:

المهارة الأولى / التعرف على مراحل دورة حياة النبات

نموذج (١)

- رتب الصور لدورة حياة النبات باستخدام الأرقام من (١-٢-٣-٤) :



أنتقن
لم يتقن

نموذج (٢)

- اختر الإجابة الصحيحة فيما بين الأقواس :

- ينتج النبات عندما يصنع الغذاء غاز (الأكسجين ، ثاني أكسيد الكربون)
- الجزء الذي يسمح بانتقال الماء والغذاء إلى باقي النبات (الساق ، الأوراق)
- أجزاء صغيرة يمكن للرياح والمياه أن تنقلها بعيدا (الزهرة ، البذور)

أنتقن
لم يتقن

نموذج (٣)

- ضع علامة (√) أمام الإجابة الصحيحة:

- تنمو المخلوقات الحية وتتغير ()
- يعتبر النبات مخلوقا حيا ()
- لا يحتاج النبات إلى الماء والهواء ليعيش وينمو ()
- النبات يصنع غذاءه بنفسه ()
- الجزء الذي يثبت النبات الأوراق ()

أنتقن
لم يتقن

اسم المعلم/ة:






الاختبار التكويني لمادة (العلوم) للصف الثاني الابتدائي لعام ١٤٤٣ هـ

اسم الطالب/ة: الصف: اسم المدرسة:

المهارة الثانية / وصف دورات حياة الحيوانات والمقارنة بينهما

نموذج (١)

- تتبع دورة حياة الفراشة حسب الصور .

٥	٤	٣	٢	١
				
عذراء	يرقة	فراشة كبيرة	بيضة	فراشة صغيرة

○ أتقن
○ لم يتقن

نموذج (٢)

- قارن بين دورة حياة الدجاجة ودورة حياة الماعز . (شفهيًا)



○ أتقن
○ لم يتقن

نموذج (٣)

- مثل حسب المطلوب في الجدول التالي.

الحشرات	الزواحف	الطيور	الثدييات

○ أتقن
○ لم يتقن

اسم المعلم/ة:





الاختبار التكويني لمادة (العلوم) للصف الثاني الابتدائي لعام ١٤٤٣ هـ

اسم الطالب/ة: الصف: اسم المدرسة:

المهارة الثالثة / وصف السلسلة الغذائية

نموذج (١)









- رتب ما يلي في سلسلة غذائية .

أعشاب	ثعلب	الشمس	أرنب
			

○ أتقن
○ لم يتقن

نموذج (٢)





رتب الصور التالية يا بطل حتى تصبح السلسلة الغذائية صحيحة :

1	2	3	4
			
			

○ أتقن
○ لم يتقن

نموذج (٣)

- صف السلسلة الغذائية التالية .

○ أتقن
○ لم يتقن

اسم المعلم/ة:

الاختبار التكويني لمادة (العلوم) للصف الثاني الابتدائي لعام ١٤٤٣ هـ

اسم الطالب/ة: الصف: اسم المدرسة:

المهارة الرابعة / المقارنة بين الغابات المطيرة والغابات الأخرى

نموذج (١)

- ضع علامة (✓) أمام الإجابة الصحيحة .

العنصر	الغابات المطيرة	الغابات الأخرى
أمطار يومية كثيرة		
معظم أوراق أشجارها يتغير لونها		
تعيش أنواع كثيرة من الحيوانات		
أشجارها عالية وأوراق ضخمة		

○ أتقن
○ لم يتقن

نموذج (٢)

- أكمل كلا من الجمل التالية باستخدام الكلمة المناسبة .

الغابة
المطيرة

الغابة

- هذا الموطن يسمى



- هذا الموطن الكثير الأمطار يسمى

○ أتقن
○ لم يتقن

اسم المعلم/ة:

الاختبار التكويني لمادة (العلوم) للصف الثاني الابتدائي لعام ١٤٤٣ هـ

اسم الطالب/ة: الصف: اسم المدرسة:

المهارة الخامسة / تفسير كيف تتكون التربة ؟

نموذج (١)

- ضع علامة (✓) أمام الإجابة الصحيحة .

- التربة خليط من فتات الصخور فقط ()
- تختلف التربة في لونها ولمسها ()
- تحتاج التربة إلى وقت طويل لتتكون ()

○ أتقن
○ لم يتقن

نموذج (٢)

- تعرف على أنواع التربة بربط الصورة بالمسمى .



○ أتقن
○ لم يتقن

نموذج (٣)

- صل بين اسم التربة والصورة المناسبة لها .



○ أتقن
○ لم يتقن

اسم المعلم/ة:

الاختبار التكويني لمادة (العلوم) للصف الثاني الابتدائي لعام ١٤٤٣ هـ

اسم الطالب/ة: الصف: اسم المدرسة:

المهارة السادسة / التوصل الى أن دوران الأرض حول نفسها يسبب الليل والنهار

نموذج (١)

- حوط الأشياء التي تراها ليلاً .



النجوم



الشمس



القمر

○ أتقن
○ لم يتقن

نموذج (٢)

- أجب بصح أو خطأ .

١. ينتج من دوران الأرض حول الشمس حدوث الليل والنهار

○ أتقن
○ لم يتقن

خطأ



صح



٢. تدور الأرض حول نفسها باستمرار ويُعرف هذا بالحركة الدورانية

خطأ



صح



نموذج (٣)

- أكمل الفراغ بالكلمة المناسبة

دوران الأرض حول الشمس

دوران الأرض حول محورها

دوران الأرض حول القمر

○ أتقن
○ لم يتقن

سبب حدوث الليل والنهار

اسم المعلم/ة:

الاختبار التكويني لمادة (العلوم) للصف الثاني الابتدائي لعام ١٤٤٣ هـ

اسم الطالب/ة: الصف: اسم المدرسة:

المهارة السابعة / توضيح العلاقة بين الكواكب والشمس

نموذج (١)

- أكمل الفراغ بالكلمة المناسبة .

نبتون	الشمس	زحل
-------	-------	-----

١. أقرب نجم إلى الأرض هو

الزهرة	عطارد	نبتون
--------	-------	-------

٢. أسخن الكواكب هو

نموذج (٢)

- أجب بصح أو خطأ .

١. تدور جميع الكواكب حول الشمس ومن هذه الكواكب الأرض

خطأ *

صح *

٢. يظهر القمر بأشكاله المختلفة عند دورانه حول الأرض خلال يوم

خطأ *

صح *

نموذج (٣)

- اختر الإجابة الصحيحة .

١. يتكون نظامنا الشمسي من :

(أ) ثلاثة عشر كوكباً

(ب) ثمانية كواكب

(ج) أربعة كواكب

٢. الشمس نجم يبدو حجمه كبير لأنه:

(أ) قريب من الأرض

(ب) سطحه صخري

(ج) بعيد عن الأرض

اسم المعلم/ة: