

الصف الخامس ( )

الاسم/

١ قرب كل عدد مما يأتي إلى المنزلة التي تحتها خط:

٨٣ \_\_\_\_\_ ٤٦٤١ \_\_\_\_\_ ١٦٩٤٥ \_\_\_\_\_



٢ قرب كل عدد مما يأتي إلى المنزلة المشار إليها:

\_\_\_\_\_ ٢٥٣، ٧٨؛ الآحاد

\_\_\_\_\_ ١٩٤، ٥؛ العشرات

\_\_\_\_\_ ٣١، ٢؛ جزء من عشرة

\_\_\_\_\_ ٤٦، ٠٠٨؛ جزء من مئة



٣ سعر صرف الدولار الأمريكي ٣,٧٥ ريالاً تقريباً، فما سعر الصرف إلى أقرب ريال؟



الاسم/

الصف الخامس ( )

١ قَدِّرْ ناتجَ الجمعِ أو الطَّرحِ في كُلِّ مِمَّا يَأْتِي مُسْتَعْمِلًا التَّقْرِيبَ أوِ الأَعْدَادَ المَتَنَاغِمَةَ:

$$\leftarrow 31, 53$$

$$\leftarrow 42, 07 +$$

$$\leftarrow 4, 204$$

$$\leftarrow 2, 779 +$$



$$\leftarrow 32, 78$$

$$\leftarrow 6, 6 -$$

$$\leftarrow 58, 9$$

$$\leftarrow 7, 1 -$$

٢ اشترى محمدٌ عصيرًا بـ ٤٥, ٩ ريالاً، وفواكِهَ بـ ١٣, ٢٥ ريالاً.  
قَدِّرْ مقدارَ ما دَفَعَهُ محمدٌ؟



-----



الصف الخامس ( )

الاسم/

١

استعمل خطة ( الحل عكسياً ) لحل المسألة التالية :

دفع طلال ٦ ريالات ثمن تذكرة دخول مدينة الألعاب، و ٤ ريالات ثمن عصير، ولعب بعض الألعاب الإلكترونية مقابل ٥ ريالات لكل لعبة . إذا بلغ مجموع ما دفعه ٢١ ريالاً ، فكم لعبة لعب ؟

أفهم

أخطئ

أحل

أتحقق



الصف الخامس ( )

أوجد ناتج الجمع أو الطرح فيما يلي :

$$\begin{array}{r} ٤٥, ٦٧ \\ ٣٣, ٩ \\ \hline \end{array} +$$

$$\begin{array}{r} ٤, ٤٥ \\ ١, ٠٢ \\ \hline \end{array} -$$

٢ ماء: وعاءان فيهما ٦ , ٤ لتراتٍ و ٣ , ٢ لتر من الماء، فكم لترًا من الماء في الوعاءين معًا؟



٣ اختر الإجابة الصحيحة من التالي:

قرأ عبد العزيز ٤ , ٣١ صفحة من كتاب في الأسبوع الأول، بينما قرأ ٢ , ٢٧ صفحة في الأسبوع الثاني، ما الفرق بين عدد الصفحات في الأسبوعين؟



(د) ٥٨, ٦

(ج) ١٤, ٢


(ب) ٦, ٢

(أ) ٤, ٢


الصف الخامس ( )

الاسم/

١ اذكر خاصية الجمع المستعملة في كل مما يأتي:  
( العنصر المحايد الجمعي ، الخاصية التجميعية ، الخاصية الإبدالية )

\_\_\_\_\_  $(2 + 9) + 5 = 2 + (9 + 5)$  



\_\_\_\_\_  $12,5 + 37,3 = 37,3 + 12,5$  

\_\_\_\_\_  $46,8 = 0 + 46,8$  


٢ أوجد القيمة التي تجعل الجملة صحيحة في كل مما يأتي:

$34 + (\square + 10) = (34 + 10) + 45$

$\square + (1, 1 + 3, 9) = (12 + 3, 9) + 1, 1$

٣ استعمل خصائص الجمع لإيجاد المجموع ذهنياً:

$1 + 27 + 9$



الصف الخامس ( )

الاسم/

١ اجمع أو اطرح ذهنياً مستعملاً الموازنة:

$$35 - 96$$

$$27 + 46$$




٢ اجمع أو اطرح ذهنياً مستعملاً الموازنة:

$$0,6 - 1,5$$


$$3,5 + 2,7$$

٣ قام كلٌّ من مالك وأنس بإيجاد ناتج  $67 + 129$  باستعمال الموازنة. أيهما إجابته صحيحة؟

أنس

$$\begin{array}{r} 67 + 129 \\ \text{1+} \quad \text{1+} \\ \downarrow \quad \downarrow \\ 198 = 68 + 130 \end{array}$$


مالك

$$\begin{array}{r} 67 + 129 \\ \text{1-} \quad \text{1+} \\ \downarrow \quad \downarrow \\ 196 = 66 + 130 \end{array}$$


الصف الخامس ( )

الاسم/

١ قَرِّبْ كُلَّ عَدَدٍ مِمَّا يَأْتِي إِلَى الْمَنْزِلَةِ الَّتِي تَحْتَهَا خَطًّا:

١٦٩٤٥

٤٦٤١

٢ قَرِّبْ كُلَّ عَدَدٍ مِمَّا يَأْتِي إِلَى الْمَنْزِلَةِ الْمُشَارِ إِلَيْهَا:

٤٦,٠٠٨؛ جزءٌ مِنْ مِئَةٍ

١٩٤,٥؛ العشرات



٣ قَدِّرْ نَاتِجَ الْجَمْعِ أَوْ الطَّرْحِ فِي كُلِّ مِمَّا يَأْتِي مُسْتَعْمَلًا التَّقْرِيبَ أَوْ الْأَعْدَادَ الْمُتَنَاغِمَةَ:

← ٥٨,٩

← ٧,١-

← ٣١,٥٣

← ٤٢,٠٧+

٤ أَوْجِدْ نَاتِجَ الْجَمْعِ أَوْ الطَّرْحِ فِيمَا يَلِي :

٤٥,٦٧

٣٣,٩ +

٤,٤٥

١,٠٢ -

٥ اذْكُرْ خَاصِيَّةَ الْجَمْعِ الْمُسْتَعْمَلَةَ فِي كُلِّ مِمَّا يَأْتِي:

(العنصر المحايد الجمعي ، الخاصية التجميعية ، الخاصية الإبدالية)

٤٦,٨ = ٠ + ٤٦,٨

(٢ + ٩) + ٥ = ٢ + (٩ + ٥)

٦ أَوْجِدِ الْقِيَمَةَ الَّتِي تَجْعَلُ الْجُمْلَةَ صَحِيحَةً فِي كُلِّ مِمَّا يَأْتِي:

□ + (١, ١ + ٣, ٩) = (١٢ + ٣, ٩) + ١, ١

٧ اجمع ذهنيًّا مُسْتَعْمَلًا الْمَوَازَنَةَ:

٢٧ + ٤٦

