

الصف : الرابع الابتدائي

المادة : رياضيات

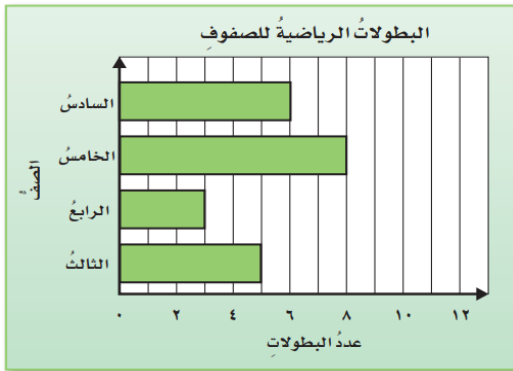
اسم الطالب :

ورقة عمل (٥)

الدروس (جمع البيانات و تنظيمها - خطة حل المسألة: خطة انشاء جدول - التمثيل بالأعمدة)

السؤال الأول: اختر الإجابة الصحيحة فيما يأتي :-

استعمل التمثيل بالأعمدة للإجابة عن الأسئلة من ١ إلى ٤ :



١- ما الصف الذي حصل على أكبر عدد من البطولات؟

أ- الخامس ب- الثالث ج- الرابع

٢- ما الصف الذي حصل على ٣ بطولات ؟

أ- الرابع ب- الخامس ج- السادس

٣- كم تزيد بطولات الصف الخامس على الصف السادس؟

أ- ١ ب- ٢ ج- ٣

٤- كم بطولة حصل عليها الصفان (الثالث و الرابع معا) ؟

أ- ٦ ب- ٨ ج- ١٠

السؤال الثاني: أجب عن الأسئلة التالية:

في الأسئلة (١-٣) استعمل لوحة الإشارات أدناه التي تظهر عدد ما بيع من أدوات مدرسية خلال ساعة في مكتبة للقرطاسية:

الأدوات المدرسية المباعة خلال ساعة	
الإشارات	الأدوات
	الممحاة
	الصمغ
	القلم الرصاص
	المقص

١- أي الأدوات بيع منها أكثر؟ وما عدد ما بيع منها؟

٢- ما الأداة التي بيع منها قطعة واحدة فقط؟

٣- ما مجموع ما بيع من الأدوات كافة؟

السؤال الثالث: أجب على السؤال التالي:

١- إذا كانت تكلفة شحن الكتاب الواحد ٤ ريالاً، فكم كتاباً يمكن شحنه بـ ٣٢ ريالاً؟

.....

.....

.....

.....

الصف : الرابع الابتدائي

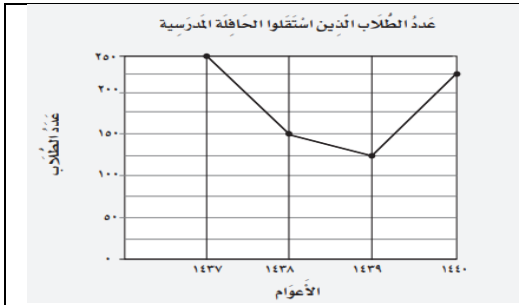
المادة : رياضيات

اسم الطالب :

ورقة عمل (٦)

الدروس (التمثيل بالخطوط - التمثيل بالقطاعات الدائرية - الإحتمال)

السؤال الأول: اختر الإجابة الصحيحة فيما يأتي .:



١- ما العام الذي فيه عدد الطلاب الذين استقلوا الحافلة المدرسية أكبر؟

أ- ٢٥٠	ب- ١٢٥	ج- ١٥٠
--------	--------	--------

٢- كم عدد الطلاب الذين استقلوا الحافلة المدرسية عام ١٤٣٧؟

أ- ١٤٣٧	ب- ١٤٣٨	ج- ١٤٣٩
---------	---------	---------

٣- ما الفاكهة المفضلة لدى ١١٠ من طلاب المدرسة؟

أ- برتقال	ب- تفاح	ج- موز
-----------	---------	--------

٤- كم عدد الطلاب الذين يفضلون البطيخ؟

أ- ٣٠	ب- ٦٠	ج- ٥٠
-------	-------	-------

الفاكهة المفضلة لطلاب المدرسة

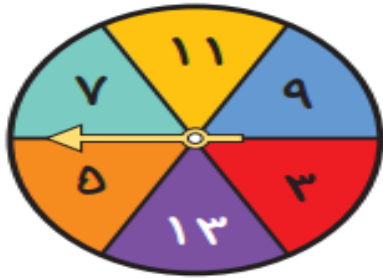


السؤال الثاني: أجب عن الأسئلة التالية:

إذا تم تدوير المؤشر، فصف احتمال النواتج؛ استعمل (مؤكد، أكثر احتمالاً، متساوي الإمكانية، أقل احتمالاً، مستحيل)

٢- عدد زوجي

١- عدد فردي



.....

.....

٤- الأعداد ٥ أو ١١ أو ١٣

٣- عدد أقل من ٣

.....

.....

السؤال الثالث: أجب على السؤال التالي:

١- توفر دانة ٣٥ ريالاً شهرياً، فكم ريالاً توفر في السنة الواحدة؟

.....
.....
.....
.....