



المملكة العربية السعودية وزارة التعليم الابتدائية الأربعة الإدارة العامة للتعليم بمنطقة المدرسة /	التاريخ: المادة: العلوم الصف: الأول الابتدائي اسم الطالب/ة..... الفصل /
--	--

تقويم ختامي لمهارات علوم الصف الأول - الفصل الدراسي الأول عام ١٤٤٤

السؤال الأول: نضع علامة (صح) تحت المخلوق الحي



السؤال الثاني: نصل كل كلمة بالصورة المناسبة:



جذور


ساق

أوراق


ثمرة

بذور

السؤال الثالث: نرتب مراحل نمو النبات من ١ - ٤:



١



٣



٤



٢

السؤال الرابع: نضع علامة (صح) أو خطأ أمام العبارات التالية:



تحتاج الطيور إلي الخياشيم لتأكل



البرمائيات لها جلد ناعم ورطب



يغطي أجسام بعض الثدييات شعر



اقلب الورقة


السؤال الخامس: نصل كل حيوان بنوع غذائه:



آكلات نبات

آكلات لحوم

السؤال السادس: نُحدد فيما يلي حيوانات الصحراء:

☐☒☐

السؤال السابع: نكتب بجانب كل عبارة (منطقة عشبية - صحراء - غابة):

في (..... غابة)



يعيش

في (..... منطقة عشبية)



يعيش

انتهت الأسئلة

بالتوفيق

مُعلمة المادة/ سكره الشمري