

السؤال الأول: أ/ ضعي كلمة (صح) امام الإجابة الصحيحة وكلمة (خطأ) أمام الإجابة الخاطئة:

١٢

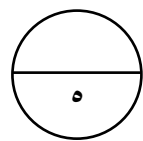
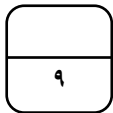
١	من مكونات الثقافة في وطني اللغة والدين	( )
٢	الاشاعة ضارة بالمجتمع ونهانا عنها الله ورسوله	( )
٣	كان وطني قبل التوحيد جهات متفرقه	( )
٤	المؤرخ هو الشخص الذي يدرس الماضي ويكتب عنه	( )
٥	تستعمل الخرائط لمعرفة الأماكن	( )
٦	من التفاعل السليم مع البيئة أنظف المكان قبل تركه	( )
٧	يجب الفخر والاعتزاز بالوطن وتراثه	( )
٨	يجب علينا أن نرفع علم الوطن ونحترمه	( )
٩	توفر لنا حكومة وطني التعليم والصحة	( )
١٠	تشرق الشمس من جهة الشمال	( )
١١	الحكومة هي النظام الذي يدار به الوطن	( )
١٢	يحتوى علم بلادي على السيف الدال على الحق	( )

١٢

ب/ اختاري الإجابة الصحيحة فيما يلي بوضع دائرة عليها:

١	تتكون بلادي المملكة العربية السعودية من .....	منطقة
أ	١٤	ب ١٣ ج ١٥
٢	يقع وطني المملكة العربية السعودية .....	العالم
أ	وسط	ب قلب ج شمال
٣	من عناصر التاريخ	
أ	الإنتاج	ب الشخصيات ج البيئة
٤	هي كل ما يتعلق بالكرة الأرضية وتكويناتها	
أ	الاقتصاد	ب الجغرافيا ج الرياضيات
٥	الشخص الذي يدرس الجغرافيا هو .....	
أ	اقتصادي	ب جغرافي ج سياسي

٦	الشمال الشرقي هي الجهة الواقعة بين الشمال و .....			
أ	الشرق	ب	الغرب	ج الجنوب
٧	هو تحول الأرض الخصبة إلى صحراء			
أ	التصحر	ب	الحدائق	ج الغابات
٨	انتقال الناس والبضائع من مكان إلى آخر يسمى			
أ	الحركة	ب	سياسة	ج الإنتاج
٩	تقسم الجهات الأصلية إلى ..... جهات			
أ	٤	ب	٥	ج ٦
١٠	نظام الحكم في وطني			
أ	ملكي	ب	جمهوري	ج دستوري
١١	عاصمة بلادي المملكة العربية السعودية .....			
أ	الرياض	ب	الطائف	ج تبوك
١٢	الشعار السعودي الرسمي هو سيفان متقاطعان و وسطها			
أ	نخلة	ب	صقر	ج درع

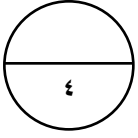


السؤال الثاني: أ/ أملئ الفراغ بالكلمات المساعدة :

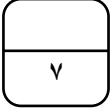
أين هو	الحجر	الآثار
النتيجة	الإشاعة	

- ١- هي نقل الكلام دون التثبت من صحته.....
- ٢- كان الناس قديماً يكتبون على .....
- ٣- من المصادر الأولية التي يعتمد عليها المؤرخ .....
- ٤- هي ما ينتج عن الحدث .....
- ٥- من أسئلة الجغرافي .....

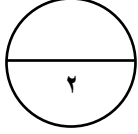
ب/ صلى العمود الأول بما يناسبه من العمود الثاني ( باستخدام الأرقام )



( أ )		( ب )
١- من أسئلة التاريخ		الوطن
٢- من فروع الدراسات الاجتماعية		العلم
٣- رمز الدولة و هويتها		الاقتصاد
٤- بقعة الأرض التي تنتمي إليها		ماذا حدث



السؤال الثالث: أ/ ضعي التاريخ المناسب في مكانه ( ٢٣ سبتمبر - ٢٢ فبراير )

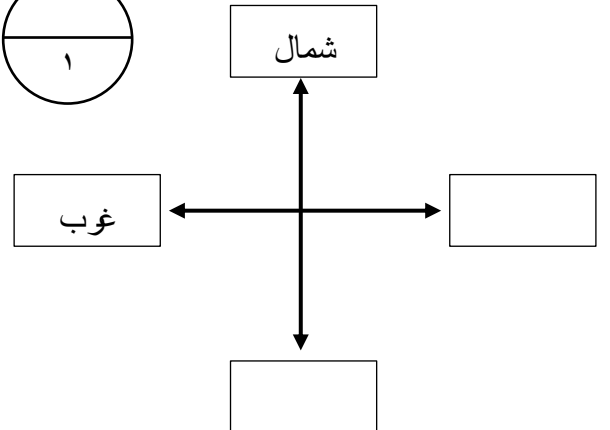
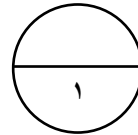
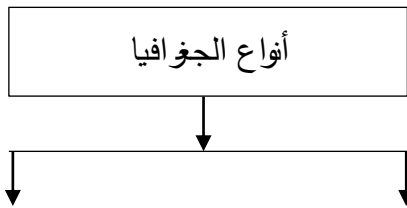
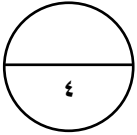


١- يوم التأسيس يوفق ..... من كل عام

٢- اليوم الوطني يوافق ..... من كل عام

ب/ أكملِي الرسم التالي :

الجهات الأصلية :



تمت الأسئلة مع تمنياتي لكم بالتوفيق

معلمة المادة /