

السؤال الأول: أ/ ضعي كلمة (صح) امام الإجابة الصحيحة وكلمة (خطأ) أمام الإجابة الخاطئة:

١٢

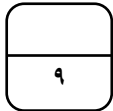
١	من مكونات الثقافة في وطني اللغة والدين	(صح)
٢	الاشاعة ضارة بالمجتمع ونهانا عنها الله ورسوله	(صح)
٣	كان وطني قبل التوحيد جهات متفرقة	(صح)
٤	المؤرخ هو الشخص الذي يدرس الماضي ويكتب عنه	(صح)
٥	تستعمل الخرائط لمعرفة الأماكن	(صح)
٦	من التفاعل الغير السليم مع البيئة أنظف المكان قبل تركه	(خطأ)
٧	يجب الفخر والاعتزاز بالوطن وتراثه	(صح)
٨	يجب علينا أن نرفع علم الوطن ونحترمه	(صح)
٩	لا توفر لنا حكومة وطني التعليم والصحة	(خطأ)
١٠	تشرق الشمس من جهة الشمال	(خطأ)
١١	الحكومة هي النظام الذي يدار به الوطن	(صح)
١٢	يحتوى علم بلادي على السيف الدال على الحق	(خطأ)

١٢

ب/ اختاري الإجابة الصحيحة فيما يلي بوضع دائرة عليها:

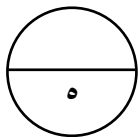
١	تتكون بلادي المملكة العربية السعودية من	منطقة
أ	١٤	ب
ب	١٣	ج
ج	١٥	
٢	يقع وطني المملكة العربية السعودية	العالم
أ	شرق	ب
ب	شمال	ج
ج	قلب	
٣	من عناصر التاريخ	
أ	الإنتاج	ب
ب	الشخصيات	ج
ج	البيئة	
٤	هي كل ما يتعلق بالكرة الأرضية وتكويناتها	
أ	الجغرافيا	ب
ب	الاقتصاد	ج
ج	الرياضيات	
٥	الشخص الذي يدرس الجغرافيا هو	
أ	اقتصادي	ب
ب	جغرافي	ج
ج	سياسي	

٦	الشمال الشرقي هي الجهة الواقعة بين الشمال و			
أ	الشرق	ب	الغرب	ج الجنوب
٧	هو تحول الأرض الخصبة إلى صحراء			
أ	التصحّر	ب	الحدائق	ج الغابات
٨	انتقال الناس والبضائع من مكان إلى آخر يسمى			
أ	الحركة	ب	سياسة	ج الإنتاج
٩	تقسم الجهات الأصلية إلى جهات			
أ	٣	ب	٤	ج ٦
١٠	نظام الحكم في وطني			
أ	ملكي	ب	جمهوري	ج دستوري
١١	عاصمة بلادي المملكة العربية السعودية			
أ	الطائف	ب	الرياض	ج تبوك
١٢	الشعار السعودي الرسمي هو سيفان متقاطعان و وسطها			
أ	درع	ب	صقر	ج نخلة



السؤال الثاني: أ/ أملئ الفراغ بالكلمات المساعدة :

أين هو	الحجر	الآثار	النتيجة	الإشاعة
--------	-------	--------	---------	---------



١- هي نقل الكلام دون التثبت من صحته الإشاعة

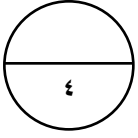
٢- كان الناس قديماً يكتبون على الحجر

٣- من المصادر الأولية التي يعتمد عليها المؤرخ الآثار

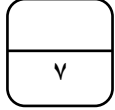
٤- هي ما ينتج عن الحدث النتيجة

٥- من أسئلة الجغرافي أين هو

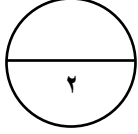
ب/ صلى العمود الأول بما يناسبه من العمود الثاني (باستخدام الأرقام)



(أ)		(ب)
١- من أسئلة التاريخ	٤	الوطن
٢- من فروع الدراسات الاجتماعية	٣	العلم
٣- رمز الدولة و هويتها	٢	الاقتصاد
٤- بقعة الأرض التي تنتمي إليها	١	ماذا حدث



السؤال الثالث: أ/ ضعي التاريخ المناسب في مكانه (٢٣ سبتمبر - ٢٢ فبراير)

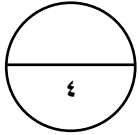


١- يوم التأسيس يوافق ٢٢ فبراير من كل عام

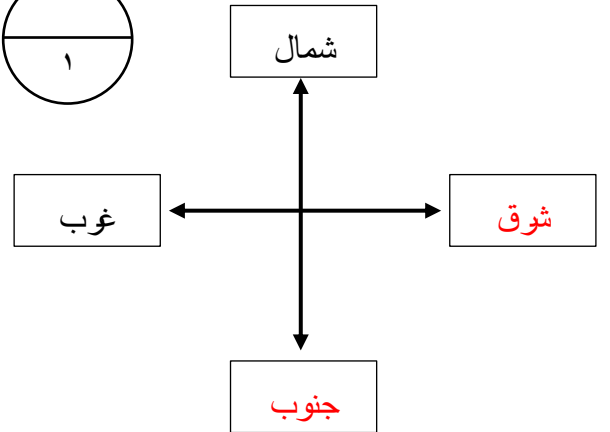
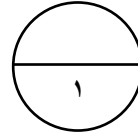
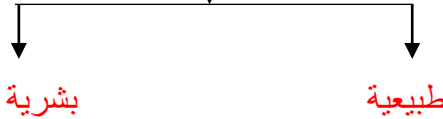
٢- اليوم الوطني يوافق ٢٣ سبتمبر من كل عام

ب/ أكملِي الرسم التالي :

الجهات الأصلية :



أنواع الجغرافيا



تمت الأسئلة مع تمنياتي لكم بالتوفيق

معلمة المادة /