
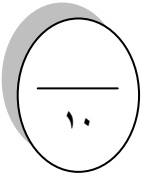


المراجع	المصمم	الدرجة		السؤال	بسم الله الرحمن الرحيم  رؤية 2030 وزارة التعليم	المملكة العربية السعودية وزارة التربية والتعليم إدارة التربية والتعليم ..... مكتب التعليم ب..... ابتدائية.....	
		كتابة	رقماً			المادة :	علوم
				س ١	أسئلة الاختبار النهائي علوم الصف السادس الفصل الدراسي : الأول العام الدراسي : ١٤٤٤ هـ	الصف:	السادس
				س ٢		اسم الطالب	
				س ٣		رقم الجلوس	
				الاجملي			
أربعون درجة		٤٠					

استعن بالله ثم اجب على الاسئلة



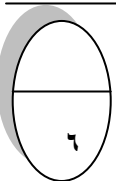
١٦
----

السؤال الأول

ضع علامة ( √ ) أمام العبارة الصحيحة وعلامة ( X ) أمام العبارة الخاطئة

أ

١	تستطيع الفطريات صنع غذائها بنفسها	( )
٢	يعمل الجهاز العصبي مع جهاز الغدد الصماء	( )
٣	يقصد بدورة الخلية هي العملية المستمرة من النمو والانقسام والتعويض	( )
٤	توجد البلاستيدات في الخلية النباتية	( )
٥	في الانقسام المنصف تنتج اربع خلايا في كل خلية نصف العدد الاصلي من الكروموسومات	( )
٦	الاسماك من الحيوانات ثابتة درجة الحرارة	( )
٧	مجموعة أنسجة تشكل جهاز حيوي	( )
٨	ترتبط معظم العضلات مع العظام بأوتار مرنة قوية	( )
٩	اتقان وهواية كرة السلة تعتبر صفة مكتسبة	( )
١٠	أول من شاهد الخلية هو العالم شلايدن	( )



ضع الكلمة المناسبة في الفراغ المناسب فيما يلي؟

ب

(الانتخاب الطبيعي، -الخلية، -الجهاز الاخراجي، -التلقيح الذاتي، -النقل السلبي، -الصفات الوراثية) .:

- ١- أصغر تركيب في المخلوقات الحية هي (.....)
- ٢- حركة المواد في الجسم عبر أغشية دون استخدام الطاقة (.....)
- ٣- عملية تكيف الكائنات بفضل امتلاكها خصائص تمكنها من العيش (.....)
- ٤- انتقال حبوب اللقاح من المتك الى الميسم في نفس الزهرة (.....)
- ٥- هي عملية تخلص الجسم من الفضلات (.....)
- ٦- الصفات التي تنتقل من الآباء إلى الأبناء (.....)

## السؤال الثاني

١٠

ضع دائرة على الحرف الذي يسبق الإجابة الصحيحة لكل مما يلي :

١- مخلوق حي متغير درجة الحرارة ...

أ	الضفدع	ب	الثعلب
ج	سمك القرش	د	التمساح

٢- الشعور بالجوع يعتبر صفة ...

أ	موروثة	ب	مكتسبة
ج	غريزة	د	متنحية

٣- نبات يخزن الغذاء في جذوره ...

أ	الجزر	ب	العدس
ج	الملوخية	د	البطاطا

٤- تنقسم الخلية في الانقسام المتساوي ...

أ	مرة	ب	مرتين
ج	ثلاث مرات	د	أربع مرات

٥- وظيفة الفجوات العصارية في الخلية هو ...

أ	تخزين الماء	ب	تنظيم الخلية
ج	تحمي الخلية	د	مركز الطاقة

## السؤال الثالث

١٤

ما الفرق بين الانقسام المتساوي والانقسام المنصف؟

أ

الانقسام المتساوي

الانقسام المنصف

اذكر مثال واحد لكل مما يلي ؟

ب

ب ( مثالا لكل من :-

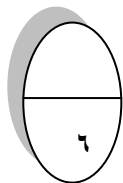
١- صفة موروثة

٢- مركب موجود في الخلية

٣- مخلوق حي دقيق

٤- عضو في الجهاز الهضمي

.....  
.....  
.....  
.....



## قارن بين الخلية النباتية والخلية الحيوانية

ج

الخلية الحيوانية	الخلية النباتية	أوجه المقارنة
		١- جدار الخلية
		٢- البلاستيدات الخضراء
		٣- النواة

انتهت الاسئلة مع تمنياتي لكم بالتوفيق والنجاح

أبوراكان