



بسم الله الرحمن الرحيم

ورقة عمل درس (مفهوم الاقتصاد)

اسم الطالب : الصف : رابع /

س / ضع علامة (√) أمام العبارة الصحيحة وعلامة (×) أمام العبارة الخاطئة فيما يلي :

☐

١ - النشاط الاقتصادي هو انتاج السلع والخدمات وتوزيعها وتبادلها واستهلاكها

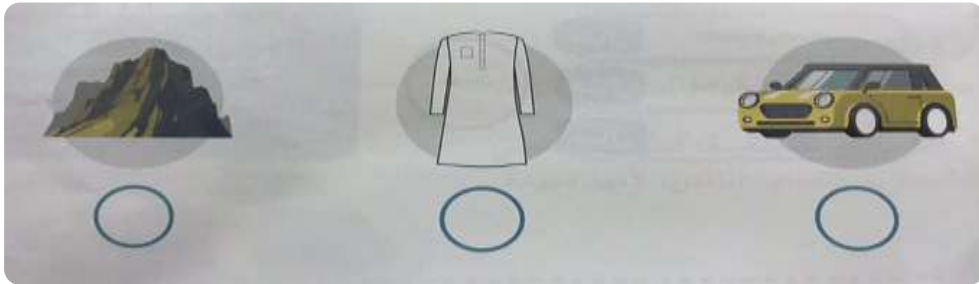
☐

٢ - السلع هي كل ما يصنع وينتج مما يحتاج اليه الإنسان ، ويستهلكه في حياته

☐

٣ - الانتاج هو تحويل المواد الخام إلى منتجات وتوفير الخدمات التي يحتاج إليها الانسان

س / حدد السلعة في الأشكال الآتية :



بسم الله الرحمن الرحيم

ورقة عمل درس (مفهوم الاقتصاد)

اسم الطالب : الصف : رابع /

س / ضع علامة (√) أمام العبارة الصحيحة وعلامة (×) أمام العبارة الخاطئة فيما يلي :

☐

١ - النشاط الاقتصادي هو انتاج السلع والخدمات وتوزيعها وتبادلها واستهلاكها

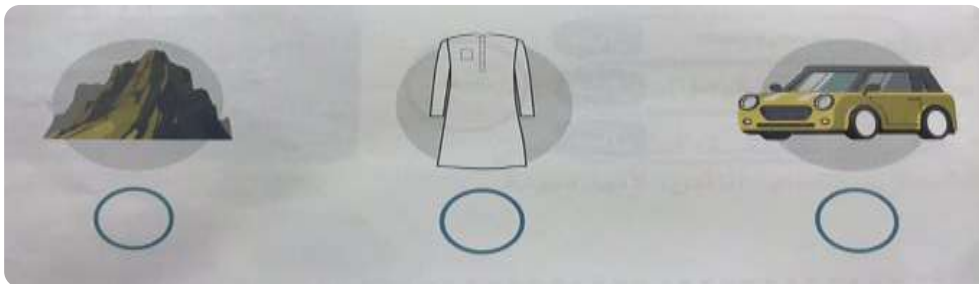
☐

٢ - السلع هي كل ما يصنع وينتج مما يحتاج اليه الإنسان ، ويستهلكه في حياته

☐

٣ - الانتاج هو تحويل المواد الخام إلى منتجات وتوفير الخدمات التي يحتاج إليها الانسان

س / حدد السلعة في الأشكال الآتية :





بسم الله الرحمن الرحيم
ورقة عمل درس (الموارد والاستهلاك)

اسم الطالب : الصف : رابع /

س / ضع علامة (√) أمام العبارة الصحيحة وعلامة (×) أمام العبارة الخاطئة فيما يلي :

- ١ - الموارد هي الأشياء التي يعتمد عليها الاقتصاد
- ٢ - الادخار تخصيص جزء من المال وحفظه للمستقبل
- ٣ - الترشيد هو استعمال الموارد والأموال استعمالاً معتدلاً

س / حدد نوع الموارد التالية :

| | | | | | |
|---|--------------|---|-------------|---|---------|
| ١ | موارد طبيعية | ٢ | موارد بشرية | ٣ | رأس مال |
| ٣ | شاحنة | | طبيب | ٢ | معلمة |
| | نخلة | ١ | الشمس | | مصنع |

س / مَيِّز بين المنتج والمستهلك من خلال الصورتين التاليتين :



بسم الله الرحمن الرحيم
ورقة عمل درس (الموارد والاستهلاك)

اسم الطالب : الصف : رابع /

س / ضع علامة (√) أمام العبارة الصحيحة وعلامة (×) أمام العبارة الخاطئة فيما يلي :

- ١ - الموارد هي الأشياء التي يعتمد عليها الاقتصاد
- ٢ - الادخار تخصيص جزء من المال وحفظه للمستقبل
- ٣ - الترشيد هو استعمال الموارد والأموال استعمالاً معتدلاً

س / حدد نوع الموارد التالية :

| | | | | | |
|---|--------------|---|-------------|---|---------|
| ١ | موارد طبيعية | ٢ | موارد بشرية | ٣ | رأس مال |
| ٣ | شاحنة | | طبيب | ٢ | معلمة |
| | نخلة | ١ | الشمس | | مصنع |

س / مَيِّز بين المنتج والمستهلك من خلال الصورتين التاليتين :





بسم الله الرحمن الرحيم

ورقة عمل درس (التبادل التجاري)

اسم الطالب : الصف : رابع /

س / ضع علامة (√) أمام العبارة الصحيحة وعلامة (×) أمام العبارة الخاطئة فيما يلي :

- ١ - التبادل التجاري : هو تداول السلع والخدمات بين الناس
- ٢ - كان الناس قديماً يشترون ويبيعون بالمقايضة
- ٣ - أشتري الذي صنع في وطني دعماً لاقتصاده

س / اذكر اثنين من فوائد التبادل التجاري :

- ١ -
- ٢ -



بسم الله الرحمن الرحيم

ورقة عمل درس (التبادل التجاري)

اسم الطالب : الصف : رابع /

س / ضع علامة (√) أمام العبارة الصحيحة وعلامة (×) أمام العبارة الخاطئة فيما يلي :

- ١ - التبادل التجاري : هو تداول السلع والخدمات بين الناس
- ٢ - كان الناس قديماً يشترون ويبيعون بالمقايضة
- ٣ - أشتري الذي صنع في وطني دعماً لاقتصاده

س / اذكر اثنين من فوائد التبادل التجاري :

- ١ -
- ٢ -



بسم الله الرحمن الرحيم

ورقة عمل درس (الأرض)

اسم الطالب : الصف : رابع /

=====

س / ما المقصود بالأرض ؟

ج /
•



س / ما شكل الأرض ؟

ج /
•

س / هل التقطت صورة الكرة الأرضية في الشكل التالي من مكان

مرتفع من الأرض أو من الفضاء ؟

ج /
•



بسم الله الرحمن الرحيم

ورقة عمل درس (الأرض)

اسم الطالب : الصف : رابع /

=====

س / ما المقصود بالأرض ؟

ج /
•



س / ما شكل الأرض ؟

ج /
•

س / هل التقطت صورة الكرة الأرضية في الشكل التالي من مكان

مرتفع من الأرض أو من الفضاء ؟

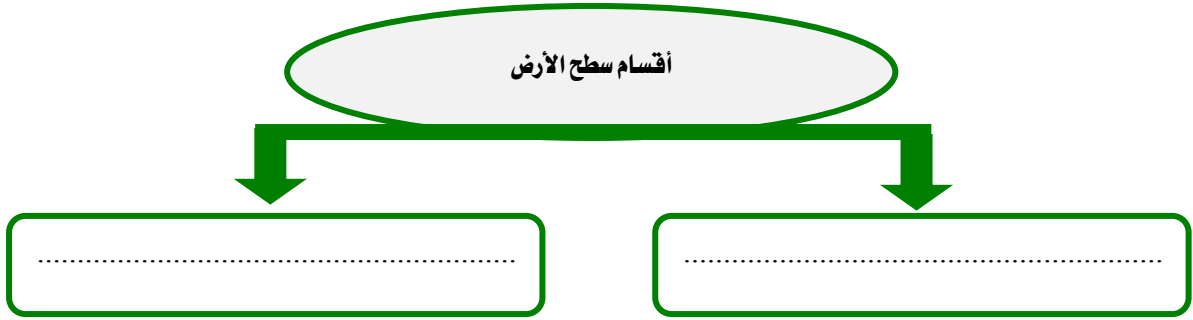
ج /
•



بسم الله الرحمن الرحيم
ورقة عمل درس (أشكال سطح الأرض)

اسم الطالب : الصف : رابع /

س / ينقسم سطح الأرض إلى قسمين ، اذكرهما ؟



س / أكمل الفراغات التالية بما يناسب :

أ- من أشكال اليابسة على سطح الأرض :

الجبال و و و

ب- من أشكال الماء على سطح الأرض :

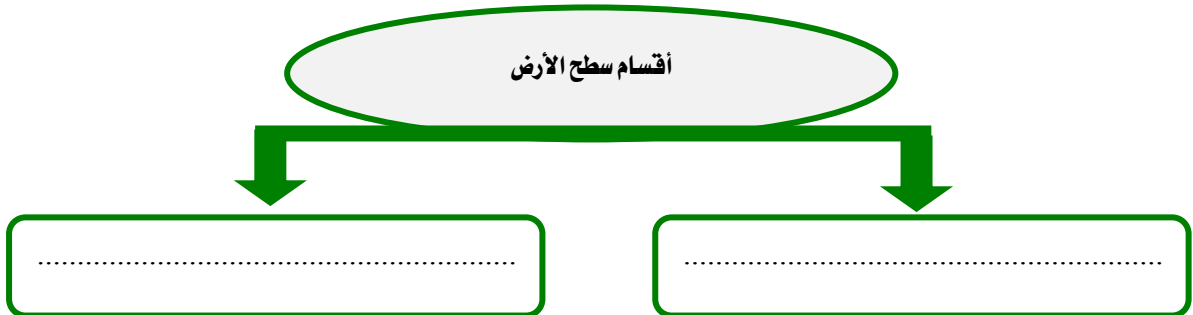
المحيطات و و



بسم الله الرحمن الرحيم
ورقة عمل درس (أشكال سطح الأرض)

اسم الطالب : الصف : رابع /

س / ينقسم سطح الأرض إلى قسمين ، اذكرهما ؟



س / أكمل الفراغات التالية بما يناسب :

أ- من أشكال اليابسة على سطح الأرض :

الجبال و و و

ب- من أشكال الماء على سطح الأرض :

المحيطات و و



بسم الله الرحمن الرحيم
ورقة عمل درس (دوران الأرض)

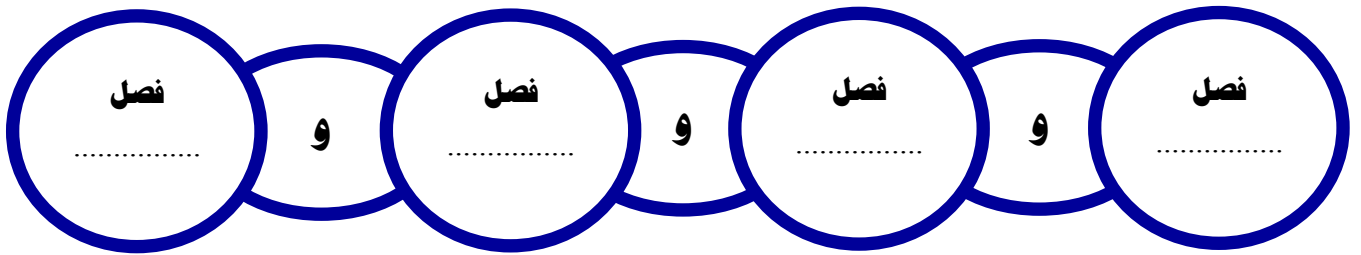
اسم الطالب : الصف : رابع /

س / أكمل الفراغات التالية بما يناسب :

للأرض حركتان :

- الأولى : وينتج عنها تعاقب و
- الثانية : وتنتج عنها

س / اكتب في الشكل الآتي الفصول الأربعة :



بسم الله الرحمن الرحيم
ورقة عمل درس (دوران الأرض)

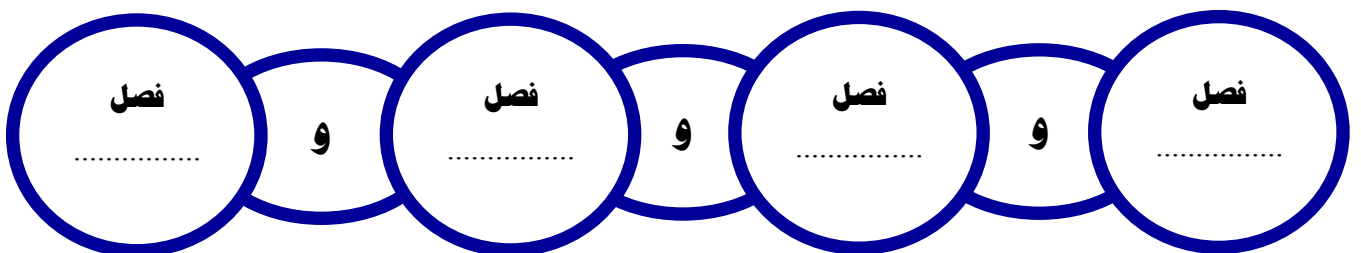
اسم الطالب : الصف : رابع /

س / أكمل الفراغات التالية بما يناسب :

للأرض حركتان :

- الأولى : وينتج عنها تعاقب و
- الثانية : وتنتج عنها

س / اكتب في الشكل الآتي الفصول الأربعة :





بسم الله الرحمن الرحيم

ورقة عمل درس (دوران القمر حول الأرض)

اسم الطالب : الصف : رابع /

=====

س / ما المقصود بالقمر ؟

ج / *

س / أكمل الفراغات التالية بما يناسب :

- أ - نحن نرى الجزء فقط من القمر *
- ب - نسمي القمر المكتمل
- ج - عندما يبدأ الشهر فإننا نرى

س / ضع علامة (√) أمام العبارة الصحيحة وعلامة (×) أمام العبارة الخاطئة فيما يلي :

- ١ - يدور القمر حول الأرض مرة كل شهر
- ٢ - كسوف الشمس هو احتجاب ضوء الشمس عن جزء من الأرض ، وذلك عندما يتوسط القمر بينهما



بسم الله الرحمن الرحيم

ورقة عمل درس (دوران القمر حول الأرض)

اسم الطالب : الصف : رابع /

=====

س / ما المقصود بالقمر ؟

ج / *

س / أكمل الفراغات التالية بما يناسب :

- أ - نحن نرى الجزء فقط من القمر *
- ب - نسمي القمر المكتمل
- ج - عندما يبدأ الشهر فإننا نرى

س / ضع علامة (√) أمام العبارة الصحيحة وعلامة (×) أمام العبارة الخاطئة فيما يلي :

- ١ - يدور القمر حول الأرض مرة كل شهر
- ٢ - كسوف الشمس هو احتجاب ضوء الشمس عن جزء من الأرض ، وذلك عندما يتوسط القمر بينهما

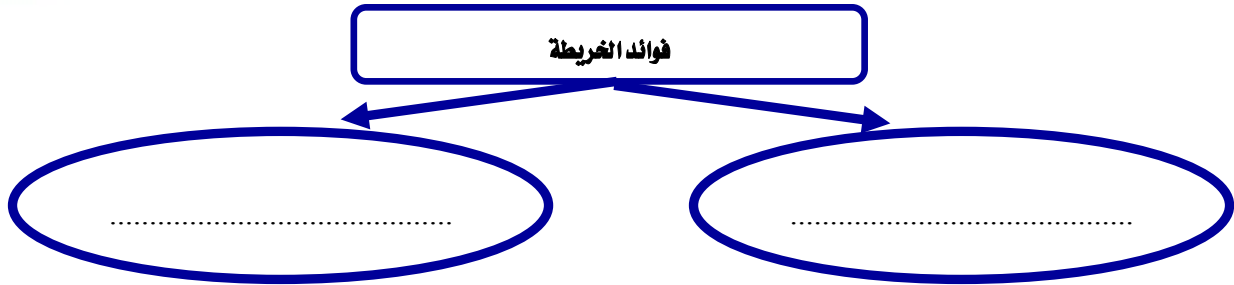


بسم الله الرحمن الرحيم

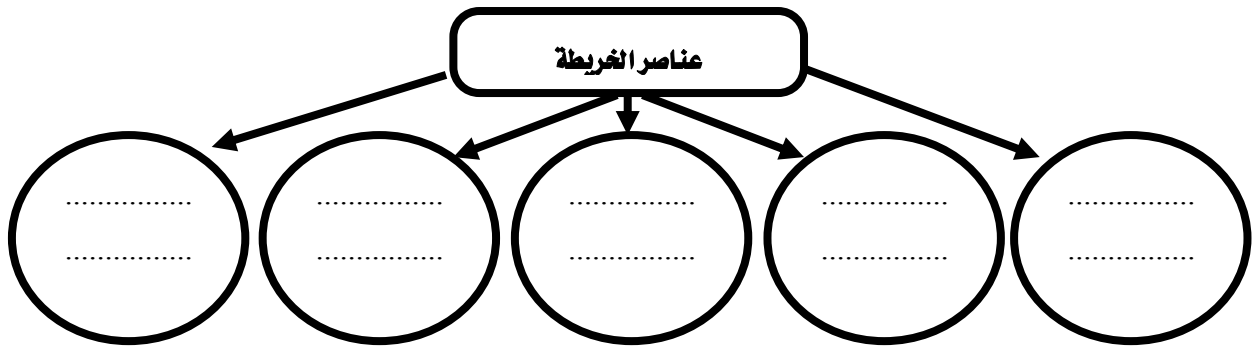
ورقة عمل درس (الخريطة)

اسم الطالب : الصف : رابع /

س / اذكر فوائد الخريطة ؟



س / اذكر عناصر الخريطة في الشكل التالي :

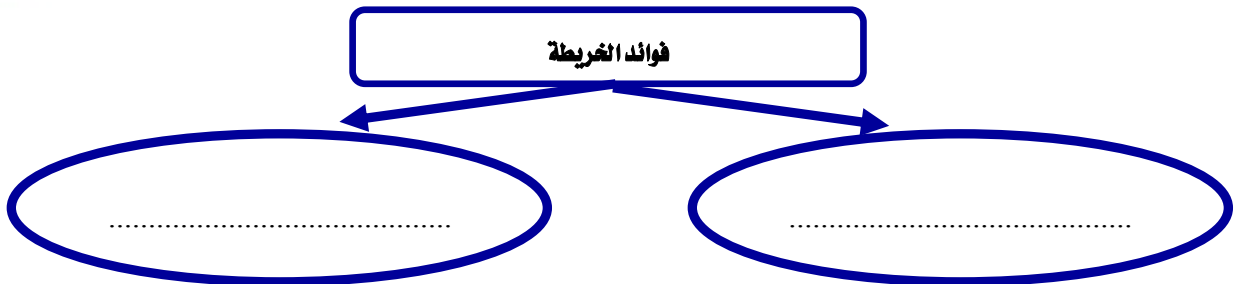


بسم الله الرحمن الرحيم

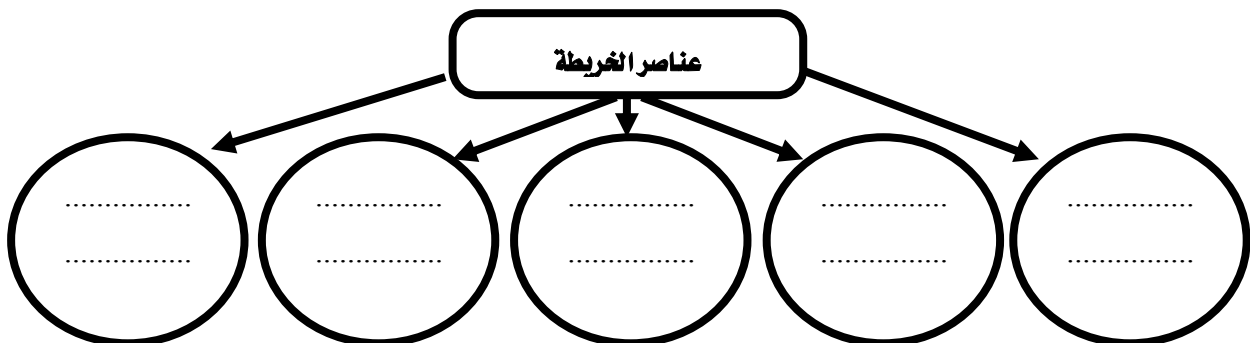
ورقة عمل درس (الخريطة)

اسم الطالب : الصف : رابع /

س / اذكر فوائد الخريطة ؟



س / اذكر عناصر الخريطة في الشكل التالي :





بسم الله الرحمن الرحيم

ورقة عمل درس (الأسرة والمجتمع)

اسم الطالب : الصف : رابع /

س / أكمل الفراغات التالية بما يناسب :

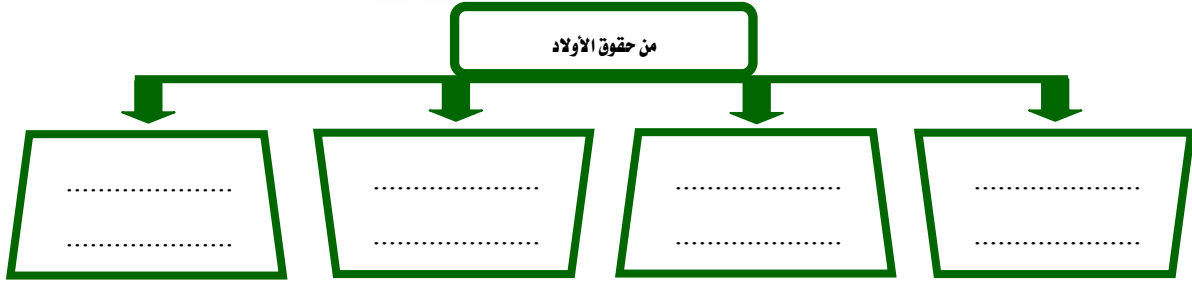
أ- الأسرة أساس وتتكون من و و

ب- يتكون المجتمع من عدة

س / أكمل حقوق الأب والأم في الشكل التالي :



س / للأولاد حقوق على الوالدين ، فما هي ؟



بسم الله الرحمن الرحيم

ورقة عمل درس (الأسرة والمجتمع)

اسم الطالب : الصف : رابع /

س / أكمل الفراغات التالية بما يناسب :

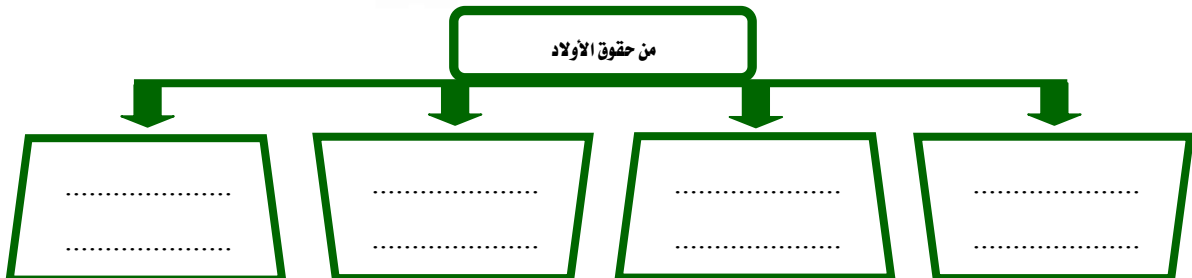
أ- الأسرة أساس وتتكون من و و

ب- يتكون المجتمع من عدة

س / أكمل حقوق الأب والأم في الشكل التالي :



س / للأولاد حقوق على الوالدين ، فما هي ؟





بسم الله الرحمن الرحيم

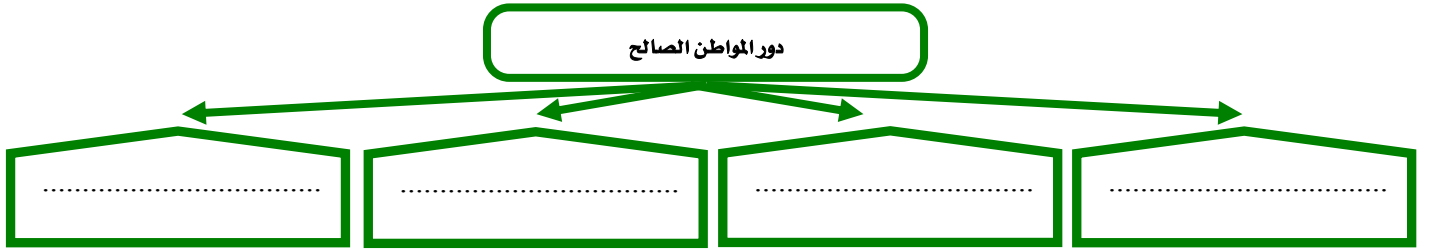
ورقة عمل درس (الحقوق والمسؤوليات)

اسم الطالب : الصف : رابع /

س / ضع علامة (√) أمام العبارة الصحيحة وعلامة (×) أمام العبارة الخاطئة فيما يلي :

- ١ - الحقوق ما يستحقه الطلبة في حياتهم
- ٢ - من واجباتي في المدرسة أن احضر مبكراً
- ٣ - من مسؤولياتي احترام حقوق الآخرين ومعلوماتهم

س / يؤدي المواطن الصالح دوراً مهماً في خدمة وطنه بعدة أمور ، اذكرها :



بسم الله الرحمن الرحيم

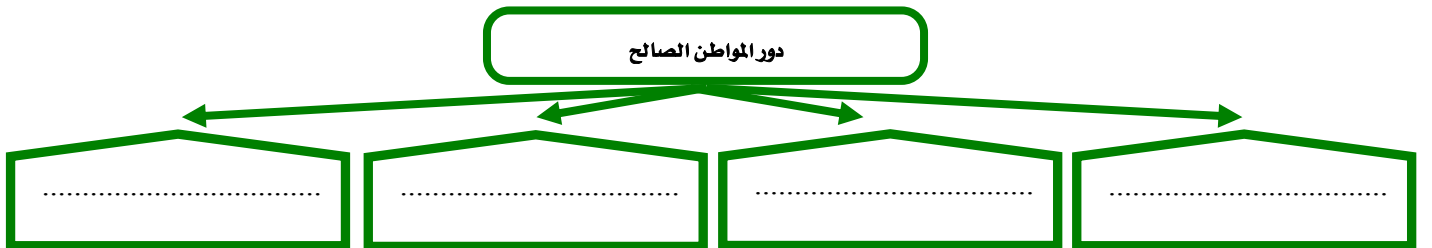
ورقة عمل درس (الحقوق والمسؤوليات)

اسم الطالب : الصف : رابع /

س / ضع علامة (√) أمام العبارة الصحيحة وعلامة (×) أمام العبارة الخاطئة فيما يلي :

- ١ - الحقوق ما يستحقه الطلبة في حياتهم
- ٢ - من واجباتي في المدرسة أن احضر مبكراً
- ٣ - من مسؤولياتي احترام حقوق الآخرين ومعلوماتهم

س / يؤدي المواطن الصالح دوراً مهماً في خدمة وطنه بعدة أمور ، اذكرها :



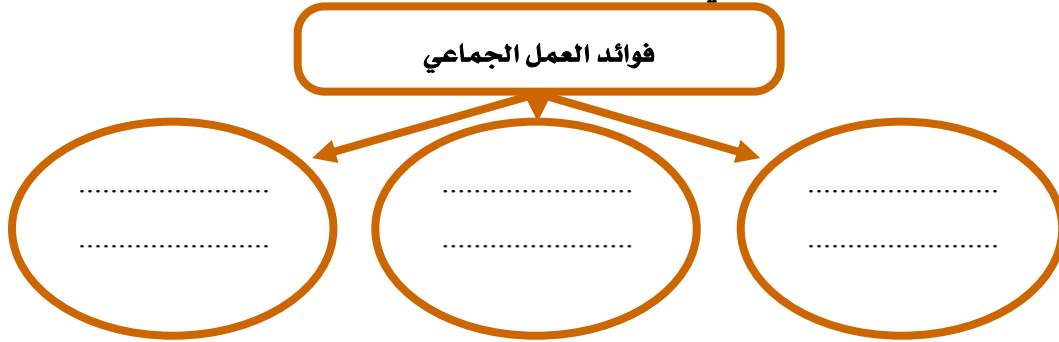


بسم الله الرحمن الرحيم

ورقة عمل درس (العمل الجماعي)

اسم الطالب : الصف : رابع /

س / اذكر ثلاثاً من فوائد العمل الجماعي :



س / ضع علامة (√) أمام العبارة الصحيحة وعلامة (×) أمام العبارة الخاطئة فيما يلي :

- ١ - العمل الجماعي يكون بين اثنين أو أكثر
- ٢ - تحديد الهدف من العمل من العوامل التي تحقق النجاح في العمل الجماعي
- ٣ - نوزع العمل من اجل نجاح العمل الجماعي



بسم الله الرحمن الرحيم

ورقة عمل درس (العمل الجماعي)

اسم الطالب : الصف : رابع /

س / اذكر ثلاثاً من فوائد العمل الجماعي :



س / ضع علامة (√) أمام العبارة الصحيحة وعلامة (×) أمام العبارة الخاطئة فيما يلي :

- ١ - العمل الجماعي يكون بين اثنين أو أكثر
- ٢ - تحديد الهدف من العمل من العوامل التي تحقق النجاح في العمل الجماعي
- ٣ - نوزع العمل من اجل نجاح العمل الجماعي