

اسم الطالب:

١

يبين الشكل عدد أعواد الثقاب لعمل مثلث متطابق الأضلاع، ثم مثلثين متطابقين الأضلاع في صف واحد، وهكذا... كما في الشكل الآتي:



٧ أعواد



٥ أعواد



٣ أعواد

ما عدد الأعواد اللازمة لعمل ٧ مثلثات متطابق الأضلاع في صف واحد؟

أ- ١٥	ب- ١٤	ج- ٢٣	د- ٢١
-------	-------	-------	-------

٢

رتب الكسور الآتية تصاعدياً

$$\frac{5}{8}, \frac{1}{4}, \frac{3}{4}, \frac{1}{2}, \frac{2}{3}$$

أ) $\frac{5}{8}, \frac{1}{4}, \frac{1}{2}, \frac{3}{4}, \frac{2}{3}$	ب) $\frac{1}{4}, \frac{2}{3}, \frac{1}{2}, \frac{3}{4}, \frac{5}{8}$	ج) $\frac{1}{4}, \frac{1}{2}, \frac{3}{4}, \frac{5}{8}, \frac{2}{3}$	د) $\frac{1}{4}, \frac{1}{2}, \frac{3}{4}, \frac{2}{3}, \frac{5}{8}$
--	--	--	--

٣

أي من الأعداد الآتية تكون فيه القيمة المنزلية للرقم ٨ هي ٨٠٠؟

أ) ١٤٦٨	ب) ٢٥٨٧	ج) ٣٨٠٩	د) ٨٦٣٤
---------	---------	---------	---------

٤

لدى احمد ١٢ نقاعة ، أكل بعضاً منها ، وبقي لديه ٩ نقاعات . ما لجملة العددية التي تعبر عما حدث ؟

أ) $١٢ = ٩ + ٣$	ب) $١٢ = ٩ + ٣$	ج) $٩ = ٣ - ١٢$	د) $١٢ = ٣ - ٩$
-----------------	-----------------	-----------------	-----------------

٥

أي من الاشكال الآتية تمثل دوران الشكل أعلاه بزاوية قياسها ١٨٠°؟

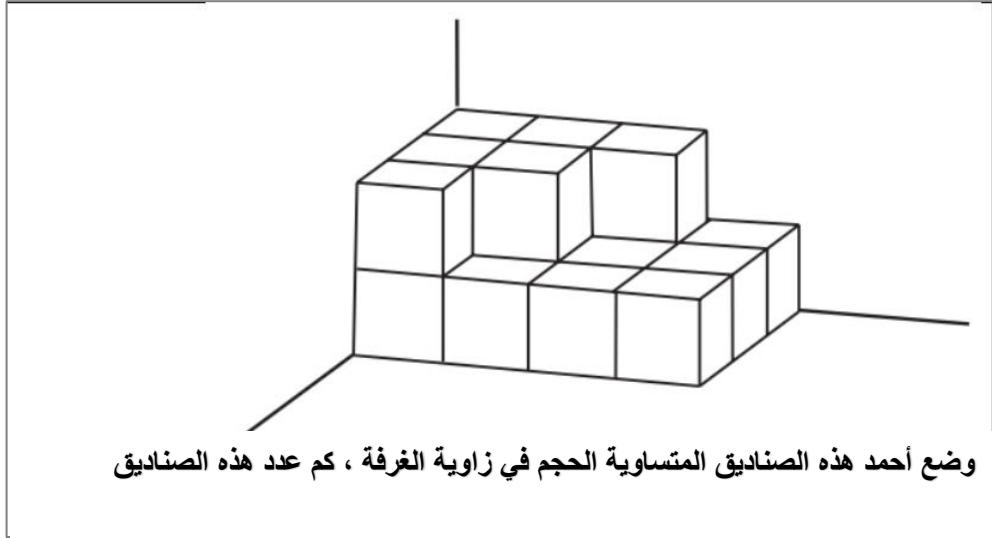
أ)	ب)	ج)	د)
----	----	----	----

٦

يبلغ ما يدخر احمد في اليوم الواحد ١٢ ريال، فما مقدار ما يدخره في ٢٠ يوم؟

(أ)	٣١	(ب)	١٩٠	(ج)	١٨٠	(د)	٢٤٠
-----	----	-----	-----	-----	-----	-----	-----

٧



وضع أحمد هذه الصناديق المتساوية الحجم في زاوية الغرفة ، كم عدد هذه الصناديق

أ- ١٥	ب- ١٤	ج - ١٨	د- ٢١
-------	-------	--------	-------

٨

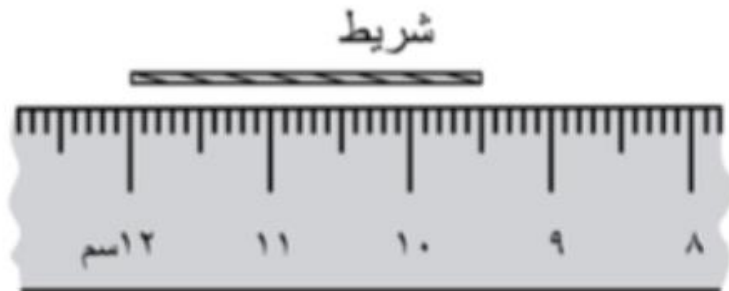
أي الأعداد التالية مختلفة عن البقية :

١٠ مئات ، ١٠٠ مئة ، عشرة الاف ، ١٠٠٠٠

(أ)	١٠ مئات	(ب)	١٠٠ مئة	(ج)	عشرة الاف	(د)	١٠٠٠٠
-----	---------	-----	---------	-----	-----------	-----	-------


٩

كم يبلغ طول الشريط



(أ)	٤,٥ سم	(ب)	٣,٢ سم	(ج)	٢,٥ سم	(د)	٢,٢ سم
-----	--------	-----	--------	-----	--------	-----	--------

يظهر التمثيل التالي الأنشطة التي يفضلها بعض الطلاب لقضاء أوقات فراغهم.



ما مجموع الطلاب الذين شملهم هذا المسح؟

أ- ٢٠	ب- ٥٠	ج- ٦٠	د- ٤٠
-------	-------	-------	-------

$$١٠ \div ٥ = \div ٤$$


ما العدد الذي يمثله في هذه العملية الحسابية؟

أ- ٦	ب- ١٠	ج- ٨	د- ٥
------	-------	------	------

تريد هند ان تفرش المساحة المبينة في الشكل الآتي بالسجاد . فكم مترا مربعا من السجاد تحتاج لعمل ذلك؟



أ) ٧م²	ب) ٨م²	ج) ٩م²	د) ١٢م²
--------	--------	--------	---------



سألت ليلي ٢٠ من زميلاتها في الفصل أي عصير يفضلونه بين عصير الأناناس والبرتقال والمانجو، ووضعت ليلي المعطيات في الرسم العمودي أعلاه كما وضعت ليلي رسما بالقطاعات الدائرية اعتمادا على المعطيات ذاتها .

أي من الخيارات الآتية والرسم الدائري الذي يمثل هذه المعطيات ؟

أ)	ب)	ج)	د)
----	----	----	----