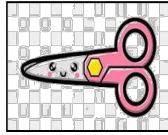



التاريخ:	 وزارة التعليم Ministry of Education	المملكة العربية السعودية
المادة: العلوم		وزارة التعليم
الصف: الأول الابتدائي		الإدارة العامة للتعليم بمنطقة ..... .....
اسم الطالب/ة: ..... الفصل: .....		

## تقويم ختامي لمهارات علوم الصف الأول – (الفصل الدراسي الثاني) عام ١٤٤٤

السؤال الأول: نضع علامة (صح) تحت الموارد الطبيعية الحية:


☐

☒

☒

☐

السؤال الثاني: نصل كل كلمة بالصورة المناسبة:



الترشيد

صلب

موارد الارض

مخلوط

غاز

السؤال الثالث: نحدد الصورة التي تشير الى تلوث الهواء والماء والتربة:



☒

☐

☒

☒


السؤال الرابع: نكتب تحت كل صورة حالة المادة (صلب , سائل , غاز):



سائل

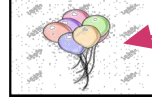


غاز



صلب

السؤال الخامس: نصل كل صورة من صور المواد بخصائصها :

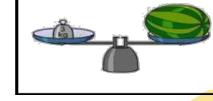
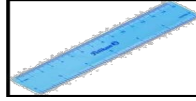


سوائل تنساب بسرعة

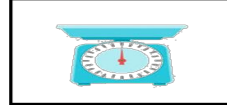
خفيف

مصنوع من معدن

السؤال السادس: ١ نستخدم لقياس طول الأشياء الصلبة :

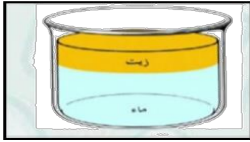


٢ يمكن قياس كمية السائل ب.....؟



١ أيهما مخلوط صلب :

السؤال السابع:



.....



.....




.....



.....

٢ نحدد طريقة فصل المخلوط ( المغناطيس ، الطفو ) :

( ..... ) الطفو



بالتوفيق يا صغاري

سكره الشمري