

أوراق عمل علوم ثالث ابتدائي الفصل الدراسي الثالث (الفترة الأولى)

اسم الطالب :

الصف : ٣ /

السؤال الأول : عرف كل مما يلي ؟

١ / المادة :

٢ / العنصر :

السؤال الثاني : عدد خصائص المادة ؟

١ /

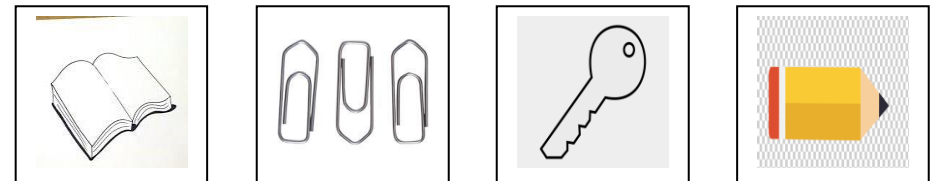
٢ /

٣ /

٤ /

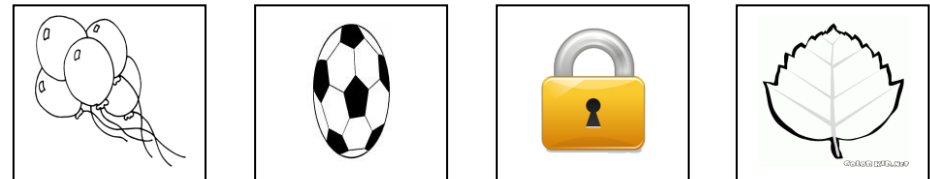
السؤال الثالث : صنف المواد التالية حسب انجذابها للمغناطيس من عدمه ؟

استخدم كلمتي (ينجذب – لا ينجذب)



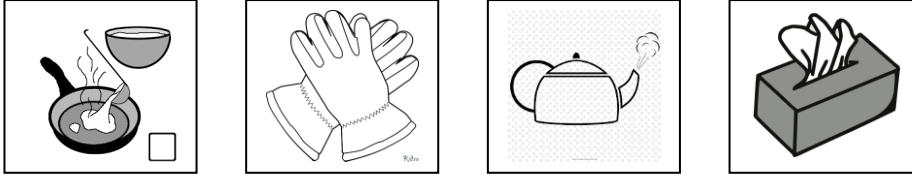
السؤال الرابع : أي المواد التالية تطفو على الماء و أي منها ينغمر في الماء ؟

استخدم كلمتي (يطفو – ينغمر)

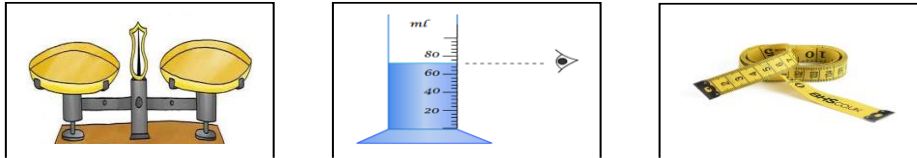


السؤال الخامس : صنف المواد التالية حسب توصيلها للحرارة ؟

استخدم كلمتي (موصل – غير موصل)



السؤال السادس : أكمل البيانات تحت كل صورة فيما يلي ؟



مقياس : مقياس : مقياس :
 يقىس : يقىس : يقىس :
 وحدة القياس : وحدة القياس : وحدة القياس :

السؤال السابع : اختر من الجدول التالي ما يناسب حالة كل مادة ؟

المادة	الشكل	الكتلة
● ثابت	● غير ثابت	● ثابت
● ثابت	● غير ثابت	● غير ثابت
● ثابت	● غير ثابت	● غير ثابت

السؤال الثامن : من خلال الصور أدناه حدد جسيمات المادة الصلبة و المادة

الساائلة و المادة الغازية ؟

