

الاسم

مساحة سطح الهرم



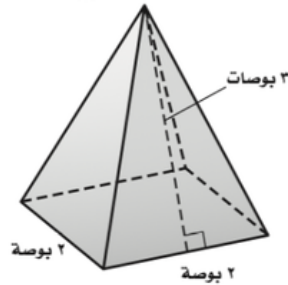
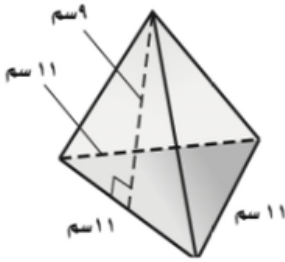
المساحة الجانبية (ج) تساوي حاصل ضرب نصف محيط القاعدة (مح) في الارتفاع (ع)

$$ج = \frac{1}{2} \times مح \times ع$$

المساحة الكلية (ك) تساوي مجموع المساحة الجانبية ومساحة القاعدة

$$ك = ج + م$$

أوجد المساحة الجانبية والكلية لسطح كل مجسم مما يلي مقرباً الجواب إلى أقرب عشر



.....

.....

.....

.....

.....

.....

.....

.....

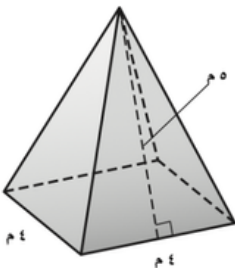
.....

.....

.....

.....

إذا كانت المساحة الجانبية للهرم المجاور ٤٠ متر مربع فأوجد المساحة الكلية؟



.....

.....

.....