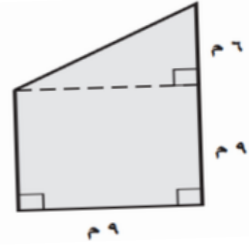
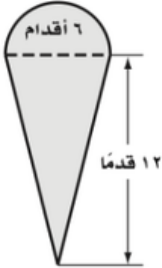


## مساحة الاشكال المركبة



الاسم:

أوجد مساحة الاشكال المركبة الآتية:



.....

.....

.....

.....

.....

.....

.....

.....

.....

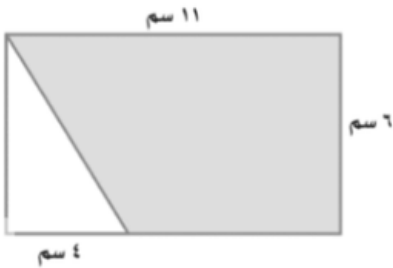
.....

.....

.....

.....

.....



أوجد مساحة المنطقة المضللة في الشكل المجاور؟

.....

.....

.....

.....

.....

.....

.....

.....

