
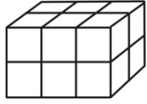




الاسم	الصف	الرابع /	اختبار الفصل التاسع (القياس)	
-------	-------	------	---------------	--------------------------------	--

س١ / اختار الإجابة الصحيحة لكل مما يلي :

١.	أفضل تقدير لطول الحافلة هو:	أ	١ متر	ب	١٠ أمتار	ج	١٠ سنتيمترات	د	١٠ كيلومترات
٢.	أي مما يلي يعد طوله يساوي ١٠ سنتيمترات ؟	أ	الشجرة	ب	النافذة	ج	الإصبع	د	الخروف
٣.	أي مما يلي يعد التقدير الأنسب لقياس سعة الشكل المجاور؟								
٤.	الوحدة المناسبة لقياس سعة حوض السباحة	أ	٢ مللتر	ب	٢ لتر	ج	٢٠٠ مللتر	د	٢٠٠ لتر
٥.	أي الوحدات التالية تعد الأفضل لقياس كتلة قطعة شوكولاتة ؟	أ	لتر	ب	الجرام	ج	الكيلوجرام	د	المتر
٦.	ما حجم المجسم في الشكل المجاور؟								
٧.	كم تكون الساعة بعد ساعة وعشر دقائق ؟								
٨.	ما مساحة الشكل المجاور ؟								
س٢ (أوجد محيط الشكل المجاور؟)	أ	١٤ وحدة مربعة	ب	١٢ وحدة مربعة	ج	١٦ وحدة مربعة	د	١٣ وحدة مربعة	
س٣ (اشترى محمود سجادة لغرفته طولها ٥ م و عرضها ٤ م ، فما مساحتها ؟)	