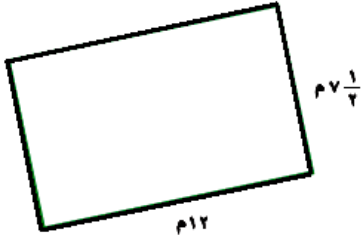


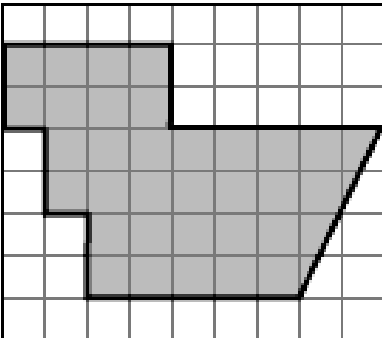
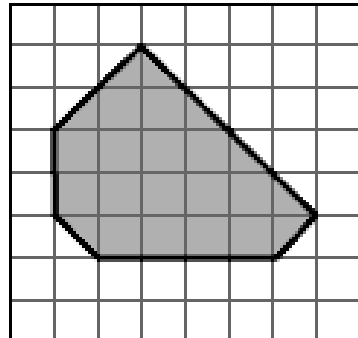




السؤال الأول : أوجد محيط كل مضلع مما يلي :

		
محيط المضلع =	محيط المضلع =	محيط المضلع =

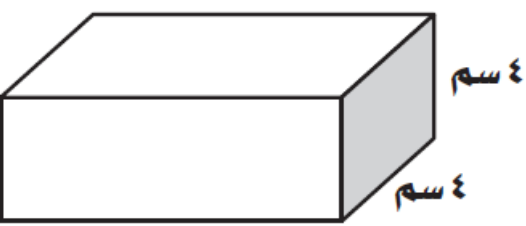
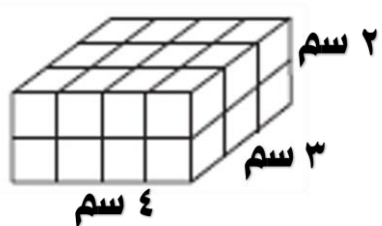
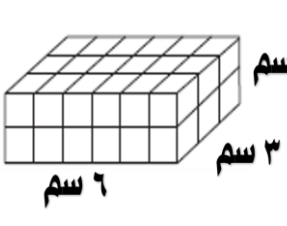
قدر مساحة كل شكل مما يلي ، حيث كل مربع يمثل سنتمترا مربعا :

	
تقدير المساحة =	تقدير المساحة =

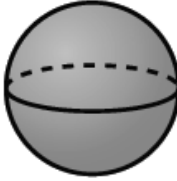
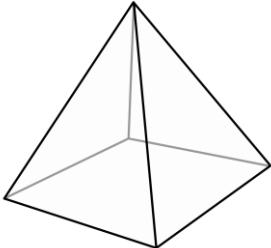
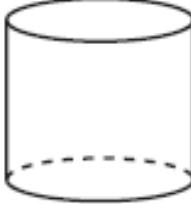
السؤال الثاني : أوجد مساحة كل مستطيل أو مربع مما يلي :

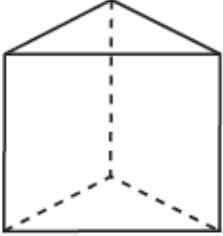

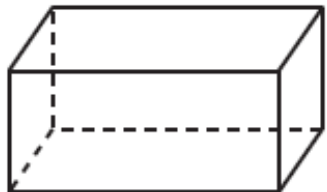
	
مساحة المربع =	مساحة المستطيل =

السؤال الثالث : أوجد حجم كل منشور مما يلي :

		
حجم المنشور =	حجم المنشور =	حجم المنشور =

السؤال الرابع : صف أجزاء الشكل من حيث عدد الأوجه و الرؤوس و الأحرف ثم بين نوعه .

		
عدد الأوجه =	عدد الأوجه =	عدد الأوجه =
عدد الرؤوس =	عدد الرؤوس =	عدد الرؤوس =
عدد الأحرف =	عدد الأحرف =	عدد الأحرف =
نوع الشكل هو	نوع الشكل هو	نوع الشكل هو

		
عدد الأوجه =	عدد الأوجه =	عدد الأوجه =
عدد الرؤوس =	عدد الرؤوس =	عدد الرؤوس =
عدد الأحرف =	عدد الأحرف =	عدد الأحرف =
نوع الشكل هو	نوع الشكل هو	نوع الشكل هو

السؤال الخامس / اختر الإجابة الصحيحة في الجمل التالية وذلك بوضع علامة (✓) في المربع الصحيح :

١	ما محيط صورة مربعة الشكل طول ضلعها ١٢ سم ؟	٢	ما محيط ملعب مستطيل الشكل طوله ٢٥ م و عرضه ١٥ م
أ- <input type="checkbox"/>	١٢ سم	أ- <input type="checkbox"/>	٢٥ م
ب- <input type="checkbox"/>	٢٤ سم	ب- <input type="checkbox"/>	٤٠ م
ج- <input type="checkbox"/>	٣٦ سم	ج- <input type="checkbox"/>	٨٠ م
د- <input type="checkbox"/>	٤٨ سم	د- <input type="checkbox"/>	١٠٠ م

٣	ما مساحة غرفة مربعة الشكل طول ضلعها ٧ م ؟	٤	ما مساحة مستطيل طوله ١٥ ملم و عرضه ٤ ملم ؟
أ- <input type="checkbox"/>	١٤ م ^٢	أ- <input type="checkbox"/>	١٩ ملم ^٢
ب- <input type="checkbox"/>	٢٨ م ^٢	ب- <input type="checkbox"/>	٦٠ ملم ^٢
ج- <input type="checkbox"/>	٤٩ م ^٢	ج- <input type="checkbox"/>	٦٦ ملم ^٢
د- <input type="checkbox"/>	٥٦ م ^٢	د- <input type="checkbox"/>	٨٠ ملم ^٢

٥	ما حجم منشور ابعاده ل = ٥ م ، ض = ٢ م ، ع = ١٠ م	٦	ما شكل الآيس كريم المجاور
أ- <input type="checkbox"/>	١٠٠ م ^٣	أ- <input type="checkbox"/>	هرم
ب- <input type="checkbox"/>	٤٠ م ^٣	ب- <input type="checkbox"/>	أسطوانة
ج- <input type="checkbox"/>	٢٠ م ^٣	ج- <input type="checkbox"/>	مخروط
د- <input type="checkbox"/>	١٧ م ^٣	د- <input type="checkbox"/>	منشور رباعي

