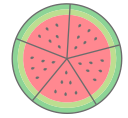
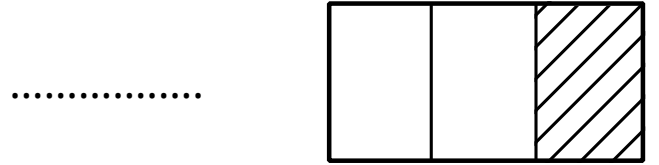
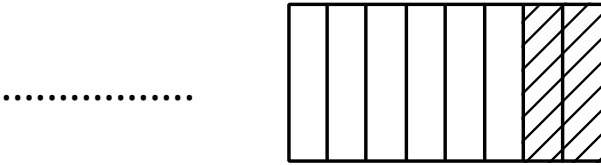
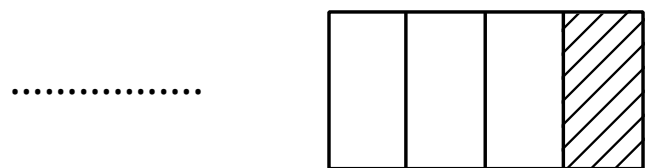
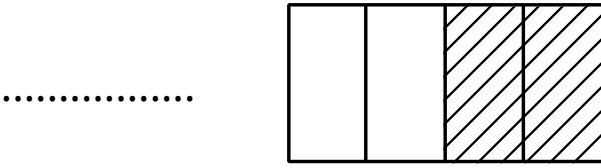
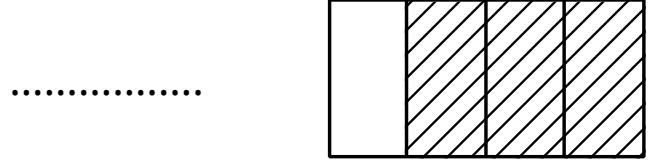
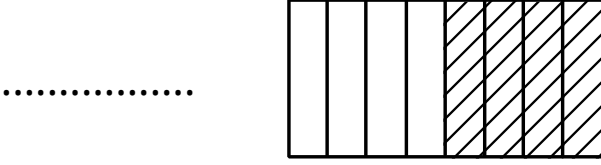




الكسور الاعتيادية

الاسم :

ألون الجزء المظلل ثم اكتب الكسر:



اكتب الكسور التي لها الكمية نفسها من الجزء الملون :

.....
.....

بعد التلوين ارتب الكسور من الأصغر الى الأكبر:

.....
.....



اعداد
نوره الولدي



اثرء