





اختبار تشخيصي لمادة العلوم الصف الثاني لعام ١٤٤٥ هـ

(درجتان لكل فقرة)

١٠ درجات

* / نضع علامة (✓) تحت الأجوبة الصحيحة :





١ / أي المراحل التالية تمثل بداية السلسلة الغذائية :

أ		ب		ج		د	
---	-------------------------------------------------------------------------------------	---	------------------------------------------------------------------------------------	---	-----------------------------------------------------------------------------------	---	-----------------------------------------------------------------------------------

٢ / كيف تختلف النباتات عن باقي المخلفات ؟

أ	تحتل مكان صغير	ب	تحتاج للهواء لتنمو	ج	تحتاج للماء لتعيش	د	تنتج غذاءها من الشمس
---	----------------	---	--------------------	---	-------------------	---	----------------------

٣ / أي من هذه المواطن تعيش فيها السحلية :

أ		ب		ج		د	
---	---------------------------------------------------------------------------------------	---	--------------------------------------------------------------------------------------	---	-------------------------------------------------------------------------------------	---	-------------------------------------------------------------------------------------

٤ / مالخاصية التي ساعدت الدب القطبي على العيش في المنطقة القطبية :

أ	الفرو السميك	ب	العيون الحادة	ج	الحراشيف	د	الاسنان الحادة
---	--------------	---	---------------	---	----------	---	----------------

٥ / المرحلة الأخيرة من دورة حياة الفراشة هي :

أ		ب		ج		د	
---	---------------------------------------------------------------------------------------	---	--------------------------------------------------------------------------------------	---	-------------------------------------------------------------------------------------	---	-------------------------------------------------------------------------------------