

كراسة القيمة المنزلية

الإسم :
الصف :

اعداد المعلمة : شريفة الشهري

المشرفة : لولو باشم
المديرة : نبيلة باعثمان



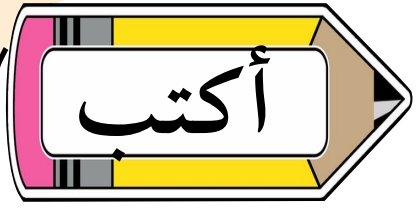


اقرأ

الأعداد من ١ إلى ١٠٠

100

١٠	٩	٨	٧	٦	٥	٤	٣	٢	١
٢٠	١٩	١٨	١٧	١٦	١٥	١٤	١٣	١٢	١١
٣٠	٢٩	٢٨	٢٧	٢٦	٢٥	٢٤	٢٣	٢٢	٢١
٤٠	٣٩	٣٨	٣٧	٣٦	٣٥	٣٤	٣٣	٣٢	٣١
٥٠	٤٩	٤٨	٤٧	٤٦	٤٥	٤٤	٤٣	٤٢	٤١
٦٠	٥٩	٥٨	٥٧	٥٦	٥٥	٥٤	٥٣	٥٢	٥١
٧٠	٦٩	٦٨	٦٧	٦٦	٦٥	٦٤	٦٣	٦٢	٦١
٨٠	٧٩	٧٨	٧٧	٧٦	٧٥	٧٤	٧٣	٧٢	٧١
٩٠	٨٩	٨٨	٨٧	٨٦	٨٥	٨٤	٨٣	٨٢	٨١
١٠٠	٩٩	٩٨	٩٧	٩٦	٩٥	٩٤	٩٣	٩٢	٩١



الأعداد إلى (١٠)

١٠	٩	٨	٧	٦	٥	٤	٣	٢	١

الأعداد إلى (٢٠)

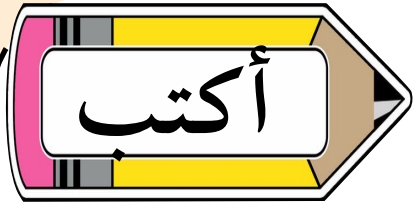
٢٠	١٩	١٨	١٧	١٦	١٥	١٤	١٣	١٢	١١

الأعداد إلى (٣٠)

٣٠	٢٩	٢٨	٢٧	٢٦	٢٥	٢٤	٢٣	٢٢	٢١

الأعداد إلى (٤٠)

٤٠	٣٩	٣٨	٣٧	٣٦	٣٥	٣٤	٣٣	٣٢	٣١



الأعداد إلى (٥٠)

٥٠	٤٩	٤٨	٤٧	٤٦	٤٥	٤٤	٤٣	٤٢	٤١

الأعداد إلى (٦٠)

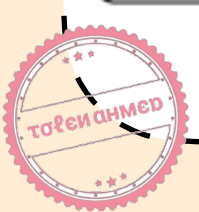
٦٠	٥٩	٥٨	٥٧	٥٦	٥٥	٥٤	٥٣	٥٢	٥١

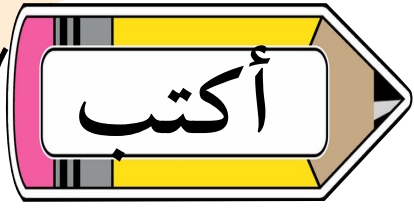
الأعداد إلى (٧٠)

٧٠	٦٩	٦٨	٦٧	٦٦	٦٥	٦٤	٦٣	٦٢	٦١

الأعداد إلى (٨٠)

٨٠	٧٩	٧٨	٧٧	٧٦	٧٥	٧٤	٧٣	٧٢	٧١





الأعداد إلى (٩٠)

٩٠	٨٩	٨٨	٨٧	٨٦	٨٥	٨٤	٨٣	٨٢	٨١

الأعداد إلى (١٠٠)

١٠٠	٩٩	٩٨	٩٧	٩٦	٩٥	٩٤	٩٣	٩٢	٩١



الآحاد والعشرات

اكتب العدد في صورة آحاد وعشرات.

٢٥

عشرات

آحاد

٤٣

عشرات

آحاد

٨١

عشرات

آحاد

٩٦

عشرات

آحاد

الآحار والعشرات

اكتب العدد الذي يمثل الآحار والعشرات.

8 آحار و 1 عشرات =

4 آحار و 6 عشرات =



2 آحار و 3 عشرات =

7 آحار و 9 عشرات =





الأعداد حتى ٥٠



أقرأ العدد وأكتبه .

عشرات	احاد
	

... آحاد و ... عشرات
واحد وأربعون

عشرات	احاد
	

... آحاد و ... عشرات
أربعة وثلاثون

عشرات	احاد
	

... آحاد و ... عشرات
سبعة عشر





الأعداد حتى ١٠٠

أقرأ العدد وأكتبه .

عشرات	آحاد



.....ثلاثة وخمسون

عشرات	آحاد
	

... آحاد و ... عشرات

عشرات	آحاد


.....ثمانية وسبعون

عشرات	آحاد
	


... آحاد و ... عشرات




مقارنة الأعداد حتى ١٠٠




يساوي



أصغر من




أكبر من




أكتب (<، أو >، أو =) في

٣٣




٤٠

٦٦




٦٦

١٠




٣٠

٨١




١٨

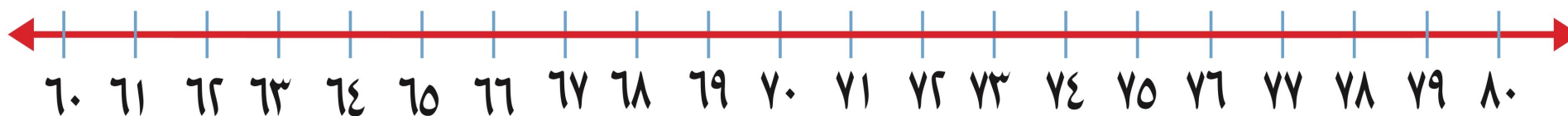
٢٦



٧٠



ترتيب الأعداد حتى ١٠٠



اكتب العدد الذي يلي مباشرة :

٧٨ ، ...

٦٢ ، ...

اكتب العدد الذي يسبق مباشرة :

٦٦ ، ...

٧٤ ، ...

اكتب العدد الواقع بين العددين :

٦٧ ، ... ، ٦٩

٧٠ ، ... ، ٧٢

