

## اختبار الفترة لمادة العلوم للصف الثالث ابتدائي الفصل الدراسي الأول

٢٠

اسم الطالب: .....

اخترى الإجابة الصحيحة:



١- وحدة بناء أجسام جميع المخلوقات الحية هي:

أ	الهواء	ب	الخلايا	ج	الماء	د	الغذاء
---	--------	---	---------	---	-------	---	--------

٢- تثبت النباتات وتمتص الماء والأملاح المعدنية من التربة:

أ	الأوراق	ب	الساق	ج	الجذور	د	الازهار
---	---------	---	-------	---	--------	---	---------

٣- جزء في النبات يحمل داخله البذور:

أ	الساق	ب	الأوراق	ج	الثمرة	د	الجذور
---	-------	---	---------	---	--------	---	--------

٤- يسمى انتقال حبوب اللقاح من الجزء الذكري إلى الجزء الانثوي بـ:

أ	البناء الضوئي	ب	البذرة	ج	التلقيح	د	دورة الحياة
---	---------------	---	--------	---	---------	---	-------------

٥- الجزء الذي يقوم بصنع الغذاء عن طريق عملية البناء الضوئي:

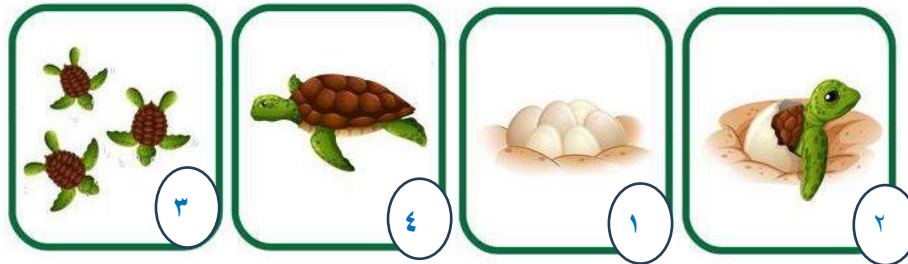
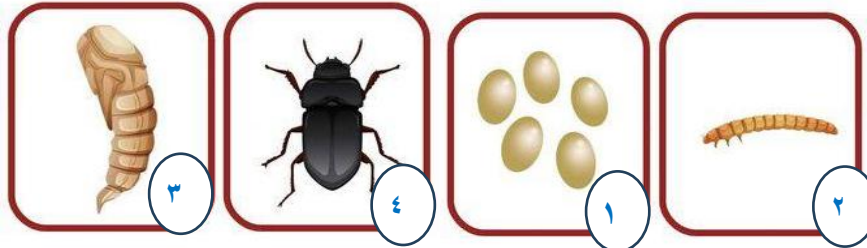

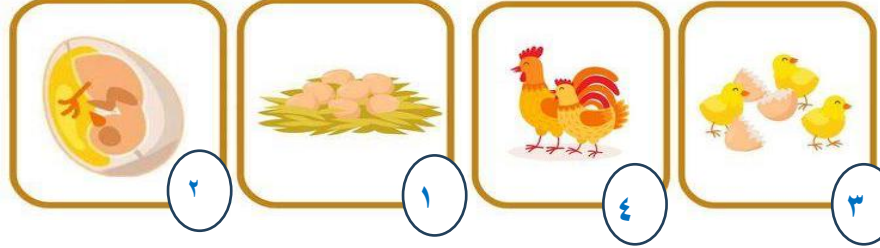

أ	الأوراق	ب	الساق	ج	الجذور	د	الازهار
---	---------	---	-------	---	--------	---	---------

ضع علامة ✓ أو ✗ امام العبارات التالية:



١- المخلوقات الحية تنمو وتستجيب وتتكاثر.	✓
٢- بعض الحيوانات يتغير شكلها في اثناء دورة حياتها ويسمى ذلك التحول.	✓
٣- يبدأ الجمل حياة بيوضة.	✗
٤- يمر الضفدع بدورة حياة بالتحول.	✓
٥- النباتات التي لها ازهار تسمى بالنباتات الزهرية.	✓

رتبى دورة حياة المخلوقات الحية التالية:



انتهت الأسئلة

دعواتي لكن بالتوفيق والنجاح

العلمة: أمل الزهراني