



تم تحميل الملف
من موقع **بداية**



للمزيد اكتب
في جوجل



بداية التعليمي

موقع بداية التعليمي كل ما يحتاجه الطالب والمعلم
من ملفات تعليمية، حلول الكتب، توزيع المنهج،
بوربوينت، اختبارات، ملخصات، اختبارات إلكترونية،
أوراق عمل، والكثير...

حمل التطبيق



GET IN ON
Google Play



Download on the
App Store



قررت وزارة التعليم تدريس
هذا الكتاب وطبعه على نفقتها



المملكة العربية السعودية

الدراسات الاجتماعية


الصف الثالث المتوسط

الفصول الدراسية الثلاثة

بداية

قام بالتأليف والمراجعة

فريق من المتخصصين | beadaya.com



الاسم:

الصف:

المدرسة:

يوزع مجاناً ولا يباع

© وزارة التعليم ، ١٤٤٤هـ

فهرسة مكتبة الملك فهد الوطنية أثناء النشر

وزارة التعليم

الدراسات الاجتماعية: الصف الثالث المتوسط

مقرر التعليم العام. / وزارة التعليم. - الرياض ، ١٤٤٤هـ.

٣١٦ ص: ٢١ X ٢٥,٥ سم

ردمك : ٨-٨١٣-٥٠٨-٦٠٣-٩٧٨

١ - العلوم الاجتماعية - تعليم- السعودية ٢- التعليم المتوسط - السعودية

أ - العنوان

١٤٤١/ ٨٧٣٩

ديوي ٨٣، ٣٧٢

رقم الإيداع : ٨٧٣٩ / ١٤٤١

ردمك : ٨-٨١٣-٥٠٨-٦٠٣-٩٧٨

مجمع صدارة للكيميائيات في مدينة الجبيل الصناعية



© الرسوم

دائرة الملك عبدالعزيز

© الخرائط

دائرة الملك عبدالعزيز

طُبِعَ هذا الكتاب لأغراض التعليم، ولا يحق نسخ أي جزء منه أو استعماله أو استعمال الرسوم، أو الصور، أو الخرائط، أو المحتوى بأي شكل من الأشكال، أو بأي وسيلة من الوسائل التصويرية، أو الإلكترونية، أو الميكانيكية، أو غيرها مما يستحدث مستقبلاً إلا بإذن من الناشر.

مواد إثرائية وداعمة على "منصة عين الإثرائية"



ien.edu.sa

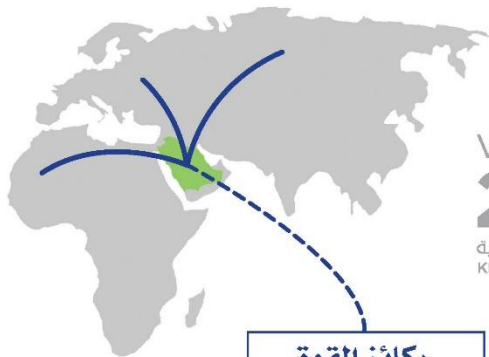
أعزاءنا المعلمين والمعلمات، والطلاب والطالبات، وأولياء الأمور، وكل مهتم بالتربية والتعليم،
يسعدنا تواصلكم؛ لتطوير الكتاب المدرسي، ومفترحاتكم محل اهتمامنا.



fb.ien.edu.sa







رؤية
2030
المملكة العربية السعودية
KINGDOM OF SAUDI ARABIA

ركائز القوة



قوة استثمارية
رافدة



محور ربط
القارات الثلاث



العمق الإسلامي والعربي
بلادنا قبلة المسلمين

محاور الرؤية



وطن طموح

حكومته فاعلة
مواطنه مسؤول



اقتصاد مزدهر

فرصه مثمرة
تنافسيته جاذبة
استثماره فاعل
موقعه مُستغل



مجتمع حيوي

قيمه راسخة
بيئته عامرة
بنيانه متين

بِسْمِ اللَّهِ الرَّحْمَنِ الرَّحِيمِ



صاحب السمو الملكي
الأمير محمد بن سلمان بن عبدالعزيز آل سعود
ولي العهد، رئيس مجلس الوزراء



خادم الحرمين الشريفين
الملك سلمان بن عبدالعزيز آل سعود
ملك المملكة العربية السعودية

هذا الكتاب

تقوم الدراسات الاجتماعية على التخصصات المتعددة، فيُدرس فيها التاريخ لإثراء ذاكرتنا وتعزيزها، والجغرافيا لفهم العمليات التي تؤثر في عالمنا، والاقتصاد والحكومة للتعرف على كيفية إدارة الدولة واتخاذ القرارات فيها، وعلم الاجتماع والمواطنة والتربية المدنية لتعزيز ثقافة المواطن المسؤول وتحقيق المصلحة العامة.

وترمي الدراسات الاجتماعية إلى شرح الأحداث التاريخية والثقافية والاقتصادية وتفسيرها ومعرفة تأثير الماضي في الحاضر وفي بناء المستقبل، وإيجاد شعور عميق يربط المواطنين بوطنهم.

كما ترمي إلى تعزيز الشخصية الوطنية وبناء الكفاءة المدنية المتمثلة في المعارف والمهارات، وتعلم القيم والمبادئ التي يقوم عليها وطننا، ومساعدة الطلبة على تطوير مهارات التفكير العليا، مثل: الفهم والتطبيق والتحليل والتقييم والإبداع، وتحديد أوجه التشابه والاختلاف، وإقامة روابط بين المفاهيم والأفكار والموارد ذات الصلة، وتعزيز الخبرات المناسبة، وفهم الروابط القائمة بين الأفكار والنظريات وتحليلها وتقييمها، وتنمية القدرات من أجل المشاركة في المجتمع بكفاءة وفاعلية.

مفاتيح الكتاب

 للإطلاع للتوسع في المعارف وتعميق الفهم	 أهداف الوحدة لتحديد ما يجب تعلمه من أجل توضيحه وتفسير تحقيقه
 صور ورسومات وخرائط داعمة لزيادة الإيضاح وتوسيع دائرة فهم المعارف	 محتويات الوحدة لتوضيح ما بداخلها من مكونات
 تقويم الدرس لقياس مدى استيعاب ما جرى تعلمه في الدرس	 أسئلة استهلاكية تحفيزية لجذب انتباه الطلاب لموضوع الدرس
 تقويم الوحدة لربط تقويم الدروس ببعضه ببعض	 مخطط توضيحي للتلخيص المعارف وتسهيلها
 الدرس الرقمي للوصول إلى الدرس والمزيد من المعارف رقمياً	 أنشطة معرفية ومهارية لتطبيق ما جرى تعلمه

وحدات الكتاب

يتكون هذا الكتاب من تسع وحدات، هي:

- 1. جغرافية المملكة العربية السعودية
- 2. الأنظمة في المملكة العربية السعودية
- 3. الإنجاز الذاتي والاقتصاد
- 4. الموارد المملكة العربية السعودية
- 5. انهوية الوطنية
- 6. المسؤولية
- 7. التنمية الوطنية
- 8. الخرافات والتفانيات الحديثة
- 9. التطوع

ويقوم الكتاب على مجموعة من الغايات التربوية؛ للمحافظة على قيم الإسلام والمجتمع السعودي، والاستفادة من معطيات الثقافات الأخرى ومنجزاتها، فيصنع متعلماً يعتز بدينه ومليكه وثقافته ويفخر بانتمائه لوطنه، وينافس الآخرين في مجالات التفوق والتميز.



موقع بداية التعليم | beacaya.com

بداية

الفصل الدراسي الأول

محتويات

الفصل الدراسي الأول

الوحدة الأولى: جغرافية المملكة العربية السعودية ١٠

١٢	الدرس الأول: الموقع
١٨	الدرس الثاني: مظاهر التضاريس
٢٩	الدرس الثالث: المناخ
٣٣	الدرس الرابع: توزيع السُّكَّان
٤١	الدرس الخامس: تركيبة السُّكَّان
٤٦	الدرس السادس: عدد السُّكَّان
٥٣	تقويم الوحدة الأولى

موقع بداية التعليم | beadaya.com

الوحدة الثانية: مَوَارد المملكة العربية السعودية ٥٨

٦٠	الدرس السابع: المياه
٦٧	الدرس الثامن: النفط والغاز والمعادن
٧٥	الدرس التاسع: الصناعة والتجارة
٨٢	الدرس العاشر: السياحة
٨٦	الدرس الحادي عشر: تنمية المَوَارد والمحافظة عليها
٩٣	تقويم الوحدة الثانية

الوحدة الأولى

١

جغرافية المملكة العربية السعودية

دروس الوحدة



الدرس الأول: الموقع

الدرس الثاني: مظاهر التضاريس

الدرس الثالث: المناخ

الدرس الرابع: توزيع السُّكَّان

الدرس الخامس: تركيبة السُّكَّان

الدرس السادس: عدد السُّكَّان

موقع جامعة التعليمي | beadaya.com



وزارة التعليم

Ministry of Education

2022 - 1444

أهداف الوحدة



بداية

تهدف هذه الوحدة إلى:

موقع بداية التعليمي | beadaya.com

- التعرف على موقع المملكة العربية السعودية وتضاريسها ومناخها
- التعرف على سكان المملكة العربية السعودية وتوزيعهم
- استنتاج عوامل النمو السكاني في المملكة العربية السعودية



وزارة التعليم

Ministry of Education

2022 - 1444



الدرس الأول

الموقع

الموقع وطني المملكة العربية السعودية أهمية جغرافية وإقليمية وعالمية، فما أبرز خصائص موقع وطني الفلكي والجغرافي؟

«الموقع الفلكي وخصائصه»

تقع المملكة العربية السعودية بين دائرتي العرض 17° و 14° ٣٢ درجة شمال خط الاستواء، على مدار 16° درجة عرضية تقريباً، وبين خطي الطول 40° و 35° ٥٥ شرق خط جرينتش، لتمتد أكثر من 21 درجة من خطوط الطول.

ومن أبرز خصائص موقع المملكة العربية السعودية المؤثرة في درجة الحرارة شيئان:

١- أن معظم مساحة المملكة العربية السعودية تقع في العروض المدارية الحارة، ويتأثر بثلاثة أقاليم مناخية، هي:

الإقليم المداري
شبه الموسمي في
المرتفعات الجنوبية
الغربية، وهو معتدل
الحرارة في الصيف،
وبارد في الشتاء مع
أمطار صيفية.

وينحصر بين دائرتي
العرض 17° و 18°
درجة شمالاً.

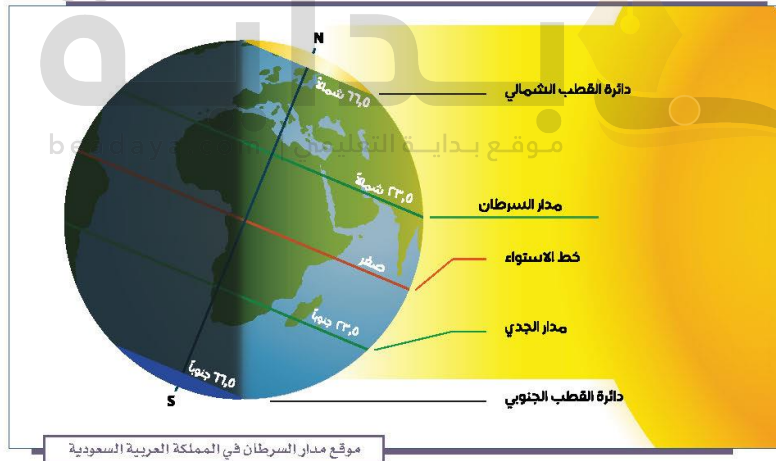


موقع مدار السرطان في المملكة العربية السعودية

الإقليم الصحراوي الحار والجاف جداً صيفاً والبارد الممطر أحياناً شتاءً. وهو يغطي معظم مساحة المملكة؛ ويعد هو الأكثر اتساعاً وتأثيراً، ويقع بين دائرتي العرض ١٨° و ٣٠° درجة شمالاً.

الإقليم المعتدل ويتأثر بمناخ البحر المتوسط، وهو حار جاف صيفاً دافئ ممطر شتاءً، ويكون في المناطق الشمالية الغربية، ويحصر بين دائرتي العرض ٣٠° و ٢٤° ٣٢° شمالاً.

٢- أن مدار السرطان يمرّ بوسط المملكة العربية السعودية تقريباً عند درجة العرض ٢٣° ٣٠° شمالاً، وهو آخر نقطة تتعامد عليها أشعة الشمس في ٢١ يونيو من كل عام.



الموقع الجغرافي وخصائصه

تقع المملكة العربية السعودية في أقصى الجنوب الغربي من قارة آسيا؛ ويحدها غرباً البحر الأحمر، وشرقاً الخليج العربي والإمارات العربية المتحدة ومملكة البحرين ودولة قطر، وشمالاً دولة الكويت وجمهورية العراق والمملكة الأردنية، وجنوباً الجمهورية اليمنية وسلطنة عمان.

وتشغل المملكة العربية السعودية نحو ثلثي مساحة شبه الجزيرة العربية، إذ تبلغ مساحتها ٢,٠٠٠,٠٠٠ (مليون) كيلومتر مربع، وتأتي في المركز الثالث عشر بين دول العالم من حيث المساحة، والثاني بين الدول العربية بعد الجزائر.

ولموقع المملكة العربية السعودية الجغرافي خصائص، من أبرزها:

- ١- وقوع المملكة العربية السعودية في الركن الجنوبي الغربي من قارة آسيا.
- ٢- توسطها قارات العالم الثلاث: آسيا وأوروبا وإفريقيا.
- ٣- كونها تُشكّل معظم أراضي شبه الجزيرة العربية، إذ تحيط بها ثمانية دول عربية.
- ٤- إشرافها على أكثر المعابر المائية أهمية (البحر الأحمر والخليج العربي).

٥- احتواؤها على ثروات طبيعية ضخمة من النفط، والغاز، والذهب، وغيرها.



١ نشاط

يتأمل الطلبة الخريطة الآتية ثم يجيبون عن السؤالين:



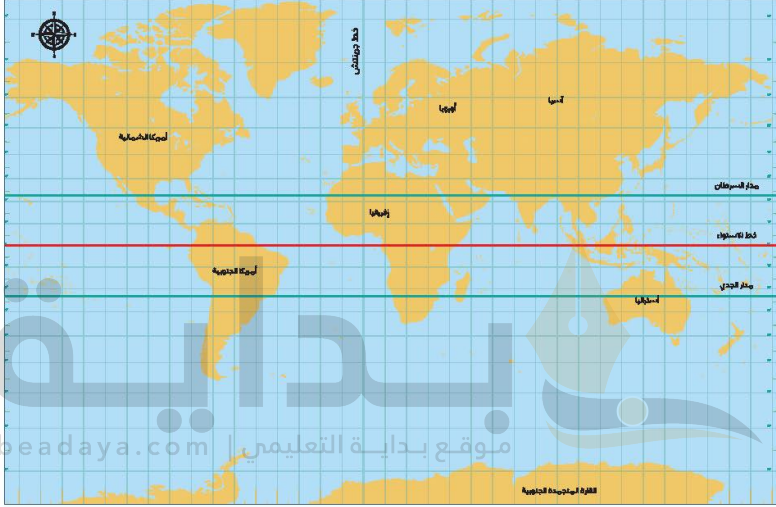
أ- يستنتج الطلبة أبرز ثلاث إيجابيات يمكن أن تنتج عن اتساع مساحة المملكة العربية السعودية.

- ١- تنوع المناخ
- ٢- تنوع الثروات الطبيعية كالنفط والغاز والذهب
- ٣- تنوع الإنتاج

ب- يذكر الطلبة الدولة التي لها أطول حدود مع المملكة العربية السعودية.

اليمن

تقويم الدرس الأول



١ يذكر الطلبة بعد الاطلاع على الخريطة ما يأتي:

أ- موقع المملكة العربية السعودية الفلكي.

تقع بين دائرتي عرض ١٦ ١٧ و ٣٢ ١٤ درجة شمال خط الاستواء وبين خطي طول ٣٥ ٣٤ و ٤٠ ٥٥ شرق خط غرينتش

ب- موقع المملكة العربية السعودية الجغرافي.

تقع في أقصى الجنوب الغربي لقارة آسيا يحدها غرباً البحر الأحمر وشرقاً الخليج العربي والإمارات العربية المتحدة ومملكة البحرين ودولة قطر وشمالاً دولة الكويت وجمهورية العراق والمملكة الأردنية وجنوباً الجمهورية اليمنية وسلطنة عمان

٢ يضع الطلبة علامة (✓) أمام العبارة الصحيحة، وعلامة (x) أمام العبارة غير الصحيحة فيما يأتي:

صح

خطأ

صح

أ- تقع المملكة العربية السعودية في العروض المدارية الحارة.

ب- يمر مدار السرطان بالأطراف الشمالية من المملكة العربية السعودية.

ج- تشغل المملكة العربية السعودية نحو ثلثي مساحة شبه الجزيرة العربية.

٣ يذكر الطلبة أربع خصائص للموقع الجغرافي للمملكة العربية السعودية.

١- تقع في الركن الجنوبي الغربي من قارة آسيا

٢- تقع في قلب قارات العالم الثلاث آسيا وإفريقيا وأوروبا

٣- أنها تؤلف معظم أراضي شبه الجزيرة العربية إذ تحيط بها ثمانى دول عربية

٤- تشرف على أكثر المعابر المائية أهمية البحر الأحمر - الخليج العربي

٤ ما الفرق بين الموقع الفلكي والموقع الجغرافي؟

الموقع الفلكي: هو موقع المكان بالنسبة لخطوط الطول ودوائر العرض
الموقع الجغرافي: هو موقع المكان سواء كان قارة أو دولة أو مدينة بالنسبة
لليابس والماء المجاور مع توضيح الحد الشمالي والحد الجنوبي والحد الشرقي
والحد الغربي



الدرس الثاني

مظاهر التضاريس

تتسم المملكة العربية السعودية بتنوع طبيعتها الجغرافية من جبال، وسهول، وهضاب، ورمال، فما أبرز مظاهر تضاريسها ؟

التضاريس

هي الأشكال السطحية التي تتكون منها القشرة الأرضية من جبال وهضاب وتلال وسهول وغيرها .
ويتدرج سطح المملكة العربية السعودية في الارتفاع بالاتجاه نحو الغرب، ويتصف بانيساطه عموماً .
تتسم تضاريس المملكة العربية السعودية بالتنوع؛ لاتساع مساحتها، ففيها الجبال والهضاب والتلال والسهول والوديان والصحاري الرملية .





ساحل البحر الأحمر



ساحل الخليج العربي

والتضاريس في المملكة العربية السعودية تتكون مما يأتي:

- ١- السهول الساحلية.
- ٢- المرتفعات.
- ٣- التكوينات الرملية (الصحاري).
- ٤- المجاري المائية (الأودية والشعاب).

١- السهول الساحلية:

للمملكة العربية السعودية سهلان ساحليان:
السهل الساحلي للبحر الأحمر:

يعرف باسم سهل تهامة على طول البحر الأحمر، ويمتد من الشمال إلى الجنوب؛ حيث ينحصر بين البحر الأحمر والمرتفعات الغربية المجاورة له، ويبلغ طول هذا السهل بتعاريجه القليلة نحو ٢٤٠٠ كيلومتر تقريباً،

ويختلف اتساعه من مكان إلى آخر، وتقطع الأودية هذا السهل من الشرق إلى الغرب، وبالقرب منه العديد من الجُزر الصغيرة التي من أهمها جزر فَرَسَان.

السهل الساحلي للخليج العربي:

يمتد السهل الساحلي للخليج العربي في المملكة العربية السعودية من حدودها مع دولة الكويت شمالاً، حتى حدودها مع دولة قَطَر. ثم يمتد هذا السهل مرة أخرى لمسافة قصيرة بعد شبه جزيرة قطر، ويبلغ طول هذا السهل مع تعاريجه أكثر من ١٠٠٠ كيلومتر، ويتسم بانبساطه وقلة ارتفاعه عن مستوى سطح البحر، وتغطي الرمال أجزاءً كبيرة منه؛ ولذا يخلو من الأودية، وبالقرب منه بعض الجُزر الصغيرة التي تغمرها المياه أحياناً.

٢- المرتفعات:

وتتكون من المرتفعات الآتية:

❖ المرتفعات الغربية. ❖ جبال الشمال والوسط. ❖ الحرات. ❖ الهضاب.

المرتفعات الغربية:

المرتفعات الجبلية الغربية هي من أهم المظاهر التضاريسية في المملكة العربية السعودية، وهي تمتد بمحاذاة البحر الأحمر، وذلك من الحدود مع المملكة الأردنية الهاشمية شمالاً حتى الحدود مع الجمهورية اليمنية جنوباً بطول يصل إلى ١٥٥٠ كيلو متراً تقريباً. ويراوح عرضها بين بضعة كيلومترات و ١٤٠ كيلومتراً. وهي إجمالاً أكثر ارتفاعاً في الجنوب والوسط منها في الشمال. وفيها عدد من القمم الجبلية العالية التي يتجاوز ارتفاعها ٣٠٠٠م فوق مستوى سطح البحر. كما هو حال جبال السُّودّة جنوب غرب المملكة العربية السعودية بالقرب من مدينة أبها، وتتحدر هذه المرتفعات انحداراً عمودياً وفجائئاً نحو البحر الأحمر، وتدرجياً نحو الشرق.

beadaya.com

تنقسم المرتفعات في غرب المملكة العربية السعودية إلى ثلاثة أقسام





خشم القُبَيْة في جبال طويق غرب الرياض

جبال الشمال والوسط:

توجد في وسط المملكة العربية السعودية وشمالها بعض الجبال، مثل جبال طُويِّق وجبل العِرَض، ونَهْلان، والدَّخُول، وصَبَحا في منطقة الرياض، وجبل شَعْبَاء، وسَوَّاج في منطقة القصيم، وجبال أجا وسلَمى في منطقة حائل، وجبل طُوقَة، ولبلى والحِصَّان في منطقة الجوف.

نشاط ١

يُسَمَّى الطلبة مدينتين تقعان على المرتفعات الغربية ويحددون موقعهما بالاستعانة ببرنامج (جوجل إيرث).

موقع بداية التعليمي | beadaya.com

اسم المدينة	الموقع المذكر
أبهاء	على خط الطول ٣٠ ٤٠ شرق غرينتش و١٣ ١٨ شمال خط الاستواء
ينبع	على خط الطول ١٢ ٣٨ شرق غرينتش و٢٠ ٢٤ شمال خط

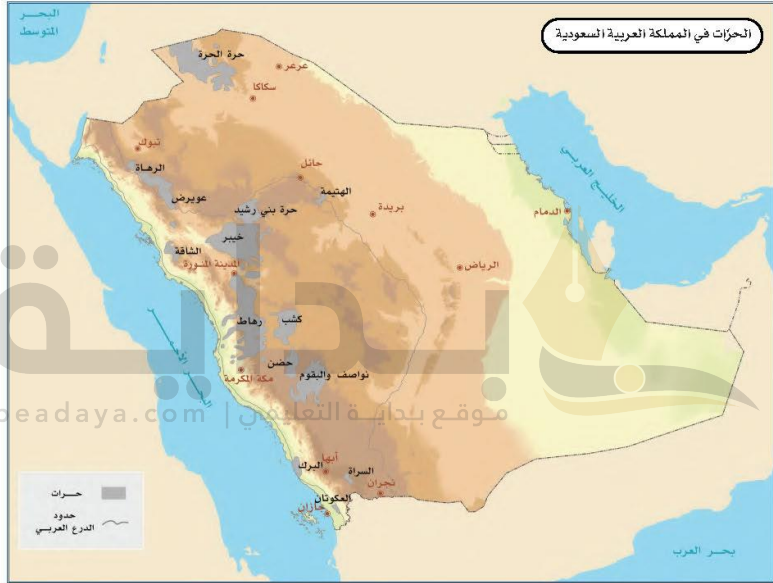


جبل مار البركاني في نجران

الْحَرَّات:

وهي طُفُوحٌ بازِلْتِيَّةٌ تكونت من حُمَم الصَّخُور البركانية المنصهرة التي تدفقت من باطن الأرض إلى سطحها من خلال فوهات بركانية نتيجة أنشطة حركية وزلزالية.

تشغل الحَرَّات مناطق واسعة إلى الشرق من المرتفعات الغربية، وتعد حرة رُهاط أكبر حرات المملكة مساحة، وأهم حَرَّات وطني: حَرَّة الحَرَّة، والرَّحَا، وخَيْبَر، وكُثَّاب.



نشاط ٢

بماذا تتميز الحَرَّات في وطني؟

تتميز الحرات في وطني بأنها تشغل مساحات واسعة إلى الشرق من المرتفعات الغربية

الهضاب:

تتفاوت الهضاب من حيث الارتفاع، وتقطع هذه الهضاب مئات الأودية الجافة.

١- الهضاب الغربية

تمتد الهضاب الغربية إلى الشرق من المرتفعات الغربية، وتتكون من الهضاب الآتية:

هَضْبَةُ جَسْمَى --- هضبة الحِجَاز --- هضبة عَسِير --- هضبة نجران

٢- نجد

هضبة نَجْد أكبر هضاب وطني، وهي تقع في الوسط، ويقطع سطحها عددٌ كبير من الأودية ومَسَارِب المياه، وتقسّم إلى قسمين، هما:

هضبة عالية نجد --- هضبة نجد السفلى

٣- الحَمَاد والحَجَرَة


تمتد هضبتا الحَمَاد والحَجَرَة في أقصى شمال المملكة، وتقطع سطح هاتين الهضبتين الأودية ومَسَارِب المياه.

٤- الصُّمَّان

تمتد هضبة الصُّمَّان في شمال شرق المملكة، ويقطع سطح الهضبة عددٌ من الشعاب والأودية تعليمي

٥- الوديان

تقع هضبة الوديان في أقصى شمال شرق المملكة، وتخرقها مجموعة أودية، مثل: وادي عَرُور ، وادي حامر



هضبة نجران



جانب من هضبة نجد

٣- التكوينات الرملية (الصحاري):

التكوينات الرملية في وطني المملكة العربية السعودية قسماً:
❶ التكوينات الرملية الرئيسية. ❷ التكوينات الرملية الفرعية.

التكوينات الرملية الرئيسية:

يشغل مساحة واسعة في جنوب شرق وطني المملكة العربية السعودية

١- الرُّبْع الخالي

يقع في الشمال، ويمثل بذلك المرتبة الثانية من حيث المساحة بين التكوينات الرملية في المملكة بعد الربع الخالي

٢- النُّفُود الكبير

تمتد الدَّهْنَاء على شكل قوس في الجهة الشمالية والشرقية من وطني المملكة العربية السعودية

٣- الدَّهْنَاء

تقع في المنطقة الشرقية من وطني المملكة العربية السعودية


٤- الجافورة



صحراء الربع الخالي



صحراء النفود الكبير



صحراء الدهناء



نقود التويرات بالزلفي

التكوينات الرملية الفرعية
توجد في وطني المملكة
العربية السعودية تكوينات رملية
صغيرة في وسطها، أو حول
ضفاف الأودية الكبرى. وعلى
السهول الساحلية، مثل: نفود
السُرّ في منطقتي الرياض
والقصيم، ونفود التويرات في
الزلفي.

نشاط ٣

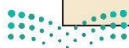
هل يمكن استغلال
الصحاري في
وطننا لتكون عامل
جذب سياحي؟
وكيف يكون ذلك؟

من خلال تنفيذ عدد من المنتجات
السياحية والحدائق والمحميات
الصحراوية التي تضم حيوانات
المنطقة بالإضافة إلى تنظيم
رحلات سفاري للاستمتاع
بالصحراء



تضاريس المنطقة

موقع بداية التعليم | beaday.com



تقويم الدرس الثاني



١ يذكر الطلبة ثلاثة من أشهر الأودية في المملكة العربية السعودية.

- ١- وادي السهباء
- ٢- وادي الدواسر
- ٣- وادي الجدير

٢ يذكر الطلبة الأشكال التضاريسية في وطني المملكة العربية السعودية بالتدرج من الغرب إلى الشرق.

- السهول الساحلية - المرتفعات - الحرات - الهضاب -
- التكوينات الرملية - المجاري المائية

٣ يستنتج الطلبة أثر تنوع التضاريس في تنوع المناخ في وطني المملكة العربية السعودية، وأثر ذلك في الاقتصاد الوطني.

- أدى تنوع التضاريس في المملكة إلى تنوع المناخ حيث نلاحظ
- وجود الكثير من الأقاليم المناخية في المملكة مما أدى إلى تنوع
- الموارد الطبيعية التي ساهمت في تقوية الاقتصاد

٤ يستنتج الطلبة أساليب استثمار الحرات والهضاب والأودية في وطني المملكة العربية السعودية في خدمة الاقتصاد الوطني.

- تحوي الحرات العديد من الثروات المعدنية والصخور والمواد الخام
- التي تدخل في الصناعة وتسهم في تقدم الاقتصاد الوطني

٥ يضع الطلبة علامة (✓) أمام العبارة الصحيحة، وعلامة (x) أمام العبارة غير الصحيحة فيما يأتي:

- أ- تقل المجاري المائية الموسمية في الجزء الجنوبي من المنطقة الشرقية. **صح**
- ب- تقع صحراء الدهناء في الجزء الجنوبي الشرقي من المملكة العربية السعودية. **خطأ**
- ج- يُعرف السهل الساحلي للبحر الأحمر باسم سهل الدهناء. **خطأ**
- د- هضبة حسمى من هضاب وسط المملكة العربية السعودية. **خطأ**

٦ لماذا تضيق مساحة السهول الساحلية في غرب وطني المملكة العربية السعودية وتتسع في شرقها؟

بسبب وجود المرتفعات الجبلية وجبال الحجاز في غرب المملكة بينما لا توجد مرتفعات جبلية في شرقها

موقع بداية التعليمي | beadaya.com

٧ يستنتج الطلبة أهمية إطلال المملكة العربية السعودية على ساحلين بحريين (البحر الأحمر والخليج العربي) مقارنة ببعض الدول التي لا تطل إلا على ساحل واحد.

إن إطلالة المملكة على ساحلين بحريين أعطى المملكة قوة استراتيجية في المنطقة بالإضافة إلى الأهمية الاقتصادية للساحلين البحريين



الدرس الثالث

المناخ

يتنوع المناخ في وطني المملكة العربية السعودية نتيجة لتنوع تضاريسه، فما أبرز خصائص مناخ وطني؟

المناخ

يختلف المناخ في وطني المملكة العربية السعودية من منطقة لأخرى؛ لاختلاف التضاريس، وذلك على النحو الآتي:

حار جداً صيفاً وبارد شتاءً
(شديد الجفاف)

الربع الخالي

معتدل
(شبه جاف)

المرتفعات الغربية
والجنوبية الغربية

حار صيفاً معتدل شتاءً
(ترتفع فيها الرطوبة)

السواحل

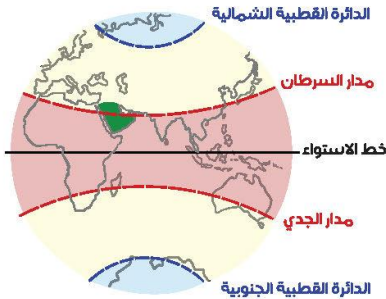
حار صيفاً وبارد شتاءً
(جاف)

المناطق الوسطى

حار صيفاً وبارد شتاءً
(جاف)

المناطق الشمالية

beadaya.com | مواد تعليمية



تقع أجزاء واسعة من المملكة العربية السعودية ضمن الحزام الصحراوي المداري الذي يمتد من المحيط الأطلسي غرباً حتى صحراء (نار) في الهند شرقاً، ويمر مدار السرطان في منتصف أراضيها تقريباً.

العوامل المؤثرة في المناخ

- الموقع الفلكي.
- الموقع الجغرافي.

الموقع الفلكي:

- وهو يؤثر في وطني المملكة العربية السعودية من ناحيتين:
- ١- وقوعها ضمن الإقليم الصحراوي المداري الجاف؛ وهو ما جعلها في مواجهة الرياح التجارية الجافة شتاءً، والرياح القاريّة الجافة صيفاً؛ لذا يتسم مناخ المملكة بالجفاف على مدار السنة.
 - ٢- تعامد الشمس على مدار السرطان الذي يمر بأرض المملكة باتجاه شرقيّ غربيّ يقسمها إلى نصفين تقريباً.

نشاط

لماذا يسود المناخ الصحراوي في معظم أجزاء وطني المملكة العربية السعودية؟
بسبب وقوع المملكة ضمن الإقليم الصحراوي المداري
الجاف ذو المناخ الصحراوي

- وهو يؤثر في وطني المملكة العربية السعودية من النواحي الآتية:
- ١- اتساع مساحة وطني وخلوه من المسطحات المائية، مثل: الأنهار والبحيرات؛ فساعد ذلك على سيادة الجفاف في معظم أجزائه.
 - ٢- اقتصار تأثير الخليج العربي والبحر الأحمر على السواحل المجاورة لهما؛ لصغر مسطحهما المائي.
 - ٣- امتداد المرتفعات الغربية والصحاري الرملية الضخمة أدى إلى منع المؤثرات المناخية من التوغل إلى داخلها.

- ٤- انخفاض درجات الحرارة على المرتفعات الجبلية في غرب المملكة نتيجة لارتفاع.
٥- ارتفاع معدلات درجات الحرارة نسبياً على طول الساحل الجنوبي الغربي من المملكة؛ لانخفاض سطحه ووقوعه بمحاذاة البحر الأحمر، وهبوب الرياح الموسمية الجنوبية الغربية الدافئة عليه أحياناً.



٢ نشاط

يعلل الطلبة انتشار الغطاء النباتي
الأخضر في جبال قنفأ بجازان.

نظراً لقربها من البحر وتساقط
الأمطار عليها

الأمطار

تهطل الأمطار في المملكة العربية السعودية بقلّة ما عدا جنوبها الغربي، ويسقط معظمها في فصل الشتاء وأوائل الربيع وأواخر الخريف، أما في الجنوب الغربي من المملكة فتسقط الأمطار في جميع فصول السنة تقريباً، وهي تتباين في مقدارها من فصل إلى آخر.

تقويم الدرس الثالث



١ كيف يؤثر الموقع الفلكي في مناخ وطني المملكة العربية السعودية؟

١. وقوعها ضمن الإقليم الصحراوي المداري الجاف، وهو ما جعلها في مواجهة الرياح التجارية الجافة شتاءً، والرياح القارئة الجافة صيفاً؛ لذا يتسم مناخ المملكة بالجفاف على مدار السنة
٢. تعتمد الشمس على مدار السرطان الذي يمر بأرض المملكة باتجاه شرقي غربي يقسمها إلى نصفين تقريباً

٢ يحدد الطلبة أسباب اختلاف المناخ في المملكة العربية السعودية ويذكرون بعض الأمثلة.

يختلف المناخ في وطني المملكة العربية السعودية من منطقة لأخرى؛ لاختلاف التضاريس مثال: المرتفعات الغربية والجنوبية الغربية؛ معتدل (شبه جاف) - الربع الخالي: حار جداً صيفاً وبارد شتاءً (شديد الجفاف)

٣ كيف يؤثر الموقع الجغرافي في مناخ وطني المملكة العربية السعودية؟

١. اتساع مساحة وطني وحلوه من المسطحات المائية، مثل: الأنهار والبحيرات فساعد ذلك على سيادة الجفاف في معظم أجزائه.
٢. اقتصر تأثير الخليج العربي والبحر الأحمر على السواحل المجاورة لهما؛ لصغر مسطحها المائي. ٣- امتداد المرتفعات الغربية والصحاري الرملية الضخمة أدى إلى منع المؤثرات المناخية من التوغل إلى داخلها. ٤- انخفاض درجات الحرارة على المرتفعات الجبلية في غرب المملكة نتيجة للارتفاع. ٥- ارتفاع معدلات درجات الحرارة نسبياً على طول الساحل الجنوبي الغربي من المملكة، لانخفاض سطحه ووقوعه بمحاذاة البحر الأحمر، وهبوب الرياح الموسمية الجنوبية الغربية الدافئة عليه أحياناً

٤ يحدد الطلبة حانه المناخ في المناطق الغربية في المملكة العربية السعودية.

المرتفعات الغربية والجنوبية الغربية؛ معتدل (شبه جاف)





الدرس الرابع

توزيع السُّكَّان

يتوزع السُّكَّان في المملكة العربية السعودية في عدد من المناطق؛ لاتساع مساحتها، ويقوم هذا التوزيع على خصائص طبيعية واقتصادية، فما أبرز خصائص توزيع السكان في المملكة العربية السعودية؟

«السُّكَّان»

مجموعة من البشر المستقرين في مكان محدّد، وزمن معين. ويقوم علم السكان على دراسة العلاقة بين السكان وبيئتهم والعوامل المؤثرة فيهم.

«العوامل المؤثرة في توزيع السكان»

تختلف عوامل توزيع السكان في المملكة العربية السعودية من منطقة إلى أخرى، ويتوزع السكان فيها توزّعاً متفاوتاً على مساحة إجمالية تبلغ مليوني كيلومتر مربع، ويتأثر هذا التوزيع بعوامل مختلفة طبيعية واقتصادية وإدارية تتبين فيما يأتي:

أ- المناطق الساحلية

تطل المملكة على ساحلين، هما الخليج العربي والبحر الأحمر، وهما من أهم الممرات المائية في العالم. ولهذا قامت في بعض مدنها معظم النشاطات الاقتصادية وما يخدم هذه الأنشطة، مثل: خدمة زوّار الحرمين الشريفين، والخدمات التعليمية والصحية، وهذا ما يجعلها من أكثر المناطق في وطني كثافةً، ولا سيما المدن الكبرى، مثل: جدة، وينبع، ورابغ، والدمام، والجبيل.

وتتوافر في بعض المناطق الساحلية التربة الخصبة، والمياه الوفيرة كما هو الحال في الأحساء، وتتركز التجمعات السكانية أيضاً في المدن ذات الثروة السمكية، مثل: جدة، والقطيف، وجازان.



ب- المناطق الجبلية

يقل عدد السكان في المناطق الجبلية الشاهقة والوَعْرَة، ويزيد في المناطق التي هي أقل ارتفاعاً ذات الطبيعة التضاريسية المنبسطة، مثل: الطائف، والباحة، وأبها، حيث اعتدال الطقس وزيادة الأمطار.

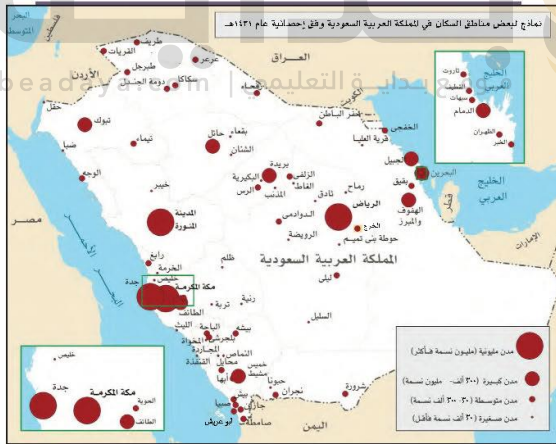
ج- المناطق الداخلية

مع حدة المناخ الصحراوي (بارد شتاءً، حار صيفاً) في المناطق الداخلية يتركز السكان في تلك المناطق، ويتفاوت تركزهم حسب عوامل الجذب، فالرياض تجذب السكان لكونها العاصمة، وفيها المركز المالي والإداري، وتتوافر فيها كثير من الشركات والصناعات. والقصيم تستقطب السكان لكونها ذات أرض زراعية خصبة. ووفق تقديرات إحصاء عام ١٤٣٨هـ، تبين من توزيع السكان في المملكة العربية السعودية تركيز أكثر من نصفهم في ثلاث مناطق، هي: منطقة مكة المكرمة، ومنطقة الرياض، والمنطقة الشرقية،

بنسبة (٦٥,٥٪)

من سكان المملكة العربية السعودية.

وتبذل حكومة المملكة كثيراً من الجهود للربط بين المناطق؛ فشقت الطرق، وأقامت الجسور، وسيّرت الخدمات؛ من أجل تسهيل إقامة السكان في جميع مدنها.



الكثافة السكانية

الكثافة السكانية: هي وسيلة لقياس توزيع السكان في الإقليم أو المنطقة أو الدولة، ويقصد بها نسبة السكان إلى المساحة.

وتتفاوت الكثافة السكانية من منطقة إلى أخرى، فالمناطق الصحراوية والوَعْرَة والقليلة المياه تقل فيها الكثافة السكانية، وترداد في المناطق التي تتوافر فيها أسباب الحياة ومقوماتها، مثل: المدن الكبرى والواحات. ويمكن حساب الكثافة السكانية على النحو الآتي:

$$\text{الكثافة السكانية} = \frac{\text{مجموع السكان}}{\text{المساحة}}$$

ويتضح من النتيجة عدد السكان الذين يعيشون في الكيلومتر المربع.

نقطة للاطلاع

ازدادت الكثافة السكانية في المملكة العربية السعودية لزيادة السكان، إذ بلغت عام ١٣٩٤هـ شخصين في الكيلومتر المربع، وفي عام ١٤١٣هـ بلغت ٩ أشخاص، وفي عام ١٤٢٥هـ بلغت نحو ١١,٣ شخصاً. ولمعرفة الكثافة السكانية للمملكة العربية السعودية حسب تقديرات إحصاء عام ١٤٢٨هـ تُجرى العملية الحسابية الآتية:

$$\frac{\text{عدد السكان } ٣٢,٥٥٢,٣٣٦}{\text{المساحة } ٢,٠٠٠,٠٠٠} = ١٦,٣$$

إذن الكثافة السكانية (١٦,٣) شخصاً للكيلومتر المربع. وتتفاوت الكثافة السكانية من منطقة إلى أخرى لاختلاف المساحات وأعداد السكان؛ فمثلاً نجد أن الكثافة السكانية في منطقة جازان ٩١ شخصاً في الكيلومتر المربع، وفي المنطقة الشرقية ٦ أشخاص، وذلك لاتساع مساحة المنطقة الشرقية.

« توزيع السكان حسب أنماط استقرارهم

يقصد بأنماط الاستقرار طريقة الحياة التي يعيشها السكان، ومكان سكنهم، ويمكن تقسيمهم إلى نمطين في المملكة العربية السعودية، هما:

أنماط السكان

سكان القرى (الريف)

- يعملون بالوظائف والزراعة، وبالصيد البحري في القرى الساحلية.
- يهاجر كثير منهم إلى المدن.

سكان المدن

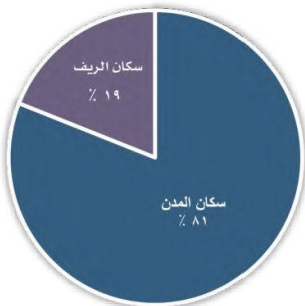
- يعملون بالوظائف ومختلف الأنشطة الاقتصادية.
- عدد السكان يزداد بسبب الهجرة إليها من القرى والمراكز.
- يشكلون النسبة الكبرى من سكان المملكة العربية السعودية حالياً.

موقع: headaya.com | دليل التعليمي

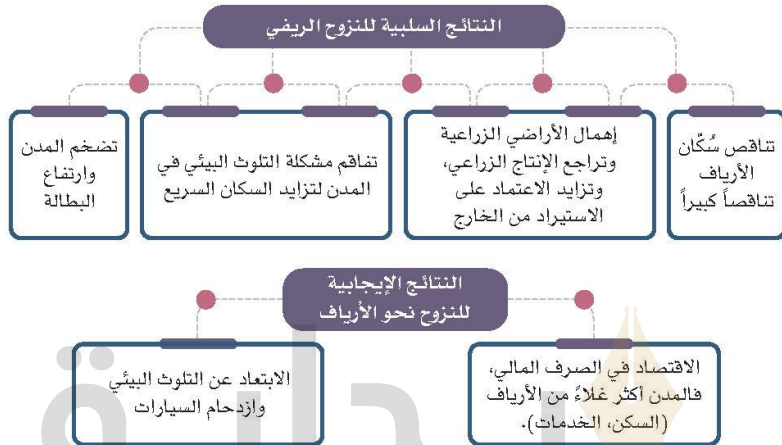
نشاط ١

يستخرج الطلبة من موقع الهيئة العامة للإحصاء عدد سكان ثلاث مدن في منطقتهم، ثم يبينون سبب جذب السكان إليها.

رابط ملف الإحصائيات سوف نضعه أسفل المستعرض، الملف للاطلاع عليه أنزل أسفل المستعرض



توزيع السكان في المملكة العربية السعودية



موقع بداية التعليمي | beadaya.com

نشاط ٢

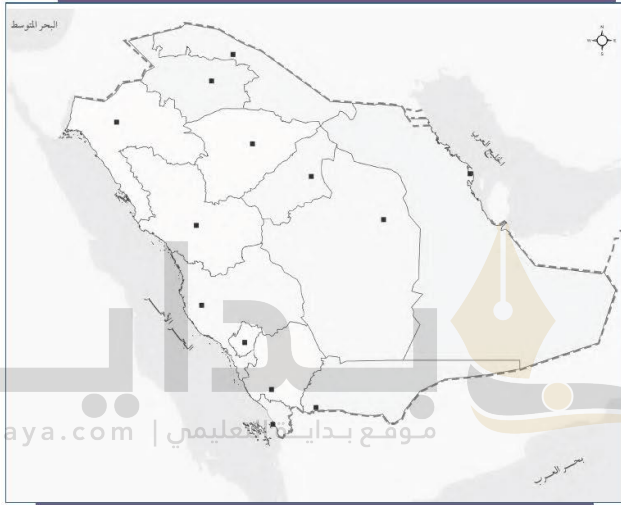
أ- يحسب الطلبة الكثافة السكانية لمنطقة الرياض التي بلغ عدد سكانها عام ١٤٣٨هـ ٨,٢١٦,٢٨٤ نسمة، ومساحتها ٣٨٠,٠٠٠ كم^٢.

الكثافة السكانية: عدد السكان ÷ المساحة = ٨٢١٦٢٨٤ ÷ ٣٨٠,٠٠٠ = ٢١,٦٢ نسمة / كم

ب- يستنتج الطلبة السبب الرئيس الذي أدى إلى توسع مدينتي الرياض ومكة المكرمة.

بسبب توفر فرص العمل والمناخ الملائم والهجرة الداخلية

تقويم الدرس الرابع



١ يحدد الطلبة على الخريطة ما يأتي:

أ- أكثر ثلاث مناطق تتميز بكثافة سكانية عالية. مكة المكرمة - الرياض - الشرقية

ب- أقل ثلاث مناطق من حيث الكثافة السكانية. الجوف - الباحة - الحدود الشمالية

٢ يذكر الطلبة أسباب تفاوت الكثافة السكانية بين مناطق المملكة العربية السعودية.

تبعاً للمناخ الملائم للعيش وتوفر فرص العمل في كل منطقة

٣ يصنف الطلبة إيجابيات المدن والقرى وسلبياتها ذات العلاقة بالسكان في الجدول الآتي:

التضخم السكاني، كثرة المصانع، التلوث، توافر الوظائف، البطالة، ارتفاع أسعار السكن والخدمات، ازدحام السيارات، وجود مستشفيات كبيرة، الألفة بين السكان، انخفاض أسعار السكن والخدمات.

القرى	المدن	
<p>انخفاض أسعار السكن</p> <p>الألفة بين السكان</p>	<p>كثرة البضائع</p> <p>توافر الوظائف</p> <p>وجود مستشفيات كبيرة</p>	الإيجابيات
<p>البطالة</p>	<p>التضخم السكاني</p> <p>التلوث</p> <p>ارتفاع أسعار السكن والخدمات</p> <p>ازدحام السيارات</p>	السلبيات

٤ ما أبرز العوامل المؤثرة في توزيع سكان المملكة العربية السعودية؟

المناطق الساحلية – المناطق الجبلية – المناطق الداخلية

٥ يستنتج الطلبة أبرز عوامل جذب السكان التي تتميز بها المدن.

توفر الخدمات
توفر الرعاية الصحية
توفر فرص العمل

٦ ما أكثر المناطق الإدارية سكاناً في المملكة العربية السعودية؟

مكة المكرمة – الرياض – الشرقية

موقع بداية التعليم | beadaya.com



الدرس الخامس

تركيبة السَّكَّان

١ تعتمد دراسة السكان التي ترمي إلى دعم التنمية على نوع السكان وأعمالهم، فما خصائص تركيبة السكان في المملكة العربية السعودية؟

﴿ أقسام التركيب السَّكَّاني ﴾

جعل الله للإنسان مراحل عمرية مختلفة، هي: الطفولة، ثم الشباب، ثم الشيخوخة. وجعل لكل مرحلة خصائصها، قال تعالى: ﴿هُوَ الَّذِي خَلَقَكُمْ مِنْ نَفْسٍ وَاحِدَةٍ ثُمَّ يَرْجِعْكُمْ إِلَىٰ طِفْلٍ ثُمَّ يَتَّبِعُكُمْ أَثَدَكُمْ ثُمَّ إِلَيْكُمْ شُيُوخًا وَمِنْكُمْ مَنْ يَرْجِعُ إِلَىٰ طِفْلٍ أَمْ يَتَفَكَّرُونَ﴾ [غافر: ٦٧].

تعد دراسة التركيب السَّكَّاني مفتاحاً لمعرفة خصائص المجتمع، ولفهم كثير من المشكلات الاقتصادية والاجتماعية. وأشهر أقسام التراكيب السكانية قسمان، هما:

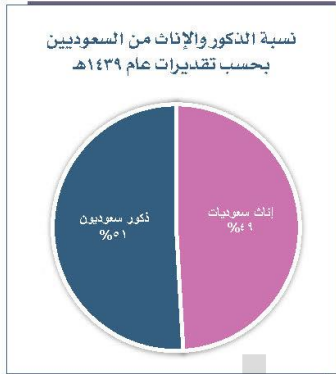
١- التركيب العُمري:

ويُقصد به تقسيم السَّكَّان إلى فئات وفق أعمارهم، وبيان نسبة كل فئة عُمريّة إلى إجمالي عدد السكان.

يحظى التركيب العمري بأهمية خاصة لدى المخطّطين ومتخذي القرار؛ لكونه يعطي صورة واضحة عن فئات أعمار السكان، وتحديد نوع الخدمات المقدمة للفئات العمرية المختلفة، ويساعد على معرفة الفئة العمرية المنتجة التي يعتمد عليها في رعاية بقية الفئات والعناية بهم.

ويمكن أن نميّز بين ثلاث فئات رئيسة للأعمار:





٢- التركيب النوعي:

هو تقسيم السكان إلى ذكور وإناث، وتحديد نسبة كل منهما إلى إجمالي عدد السكان. ولدراسة التركيب النوعي أهمية كبرى في معرفة بناء المجتمع، والنسبة بين الذكور والإناث؛ حيث إنها تساعد على التخطيط والتنمية.

نشاط ١

تسعى رؤية المملكة ٢٠٣٠ إلى زيادة مشاركة المرأة في سوق العمل ورفعها من نسبة (٢٢٪) إلى نسبة (٣٠٪)، وهذا يكون بتمكين المرأة السعودية من التعليم والعمل، وجعلها قوة عاملة مؤثرة.

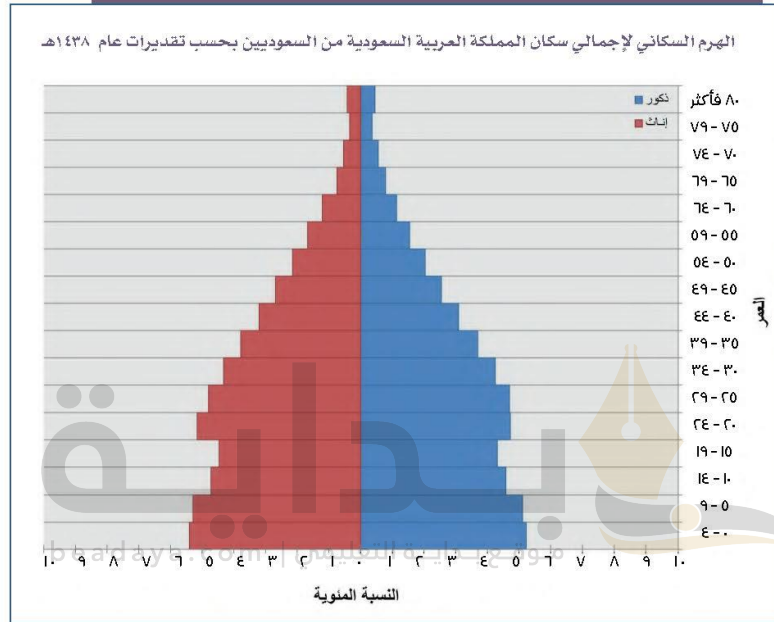
يكتب الطلبة عن دور المرأة السعودية الوطني في حدود سطرين.

المرأة السعودية تسهم في رفد شتى مجالات الحياة الاقتصادية والوظائف الحكومية وهي عنصر أساسي تشكل نصف المجتمع وتنجب نصفه الآخر

الهَرَمُ السُّكَّاني

هو شكل بياني يساعد على فهم تركيب السكان التَّوَّعي والعُمُري، ونسبة كل منهما إلى الآخر، والتعرُّف على خصائصهم من حيث العمر والجنس والعدد لكل فئة عمرية.

يدل الهرم السكاني لإجمالي سكان المملكة العربية السعودية وفق العمر على أن نسبة كثير من سكانها تنتمي إلى الفئة العمرية التي لا تتعدى أعمار أفرادها ٣٥ سنة، ثم تبدأ النسبة بالانخفاض كلما زاد العمر.



٢ نشاط

يعلل الطلبة ما يأتي:

أ- قاعدة الهرم (الفئة العمرية من صفر إلى ٤ سنوات) عريضة.

بسبب زيادة النمو السكاني والذي يرجع إلى تقدم الرعاية الصحية

ب- النقص في قمة الهرم.

بسبب صغر نسبة هذه الفئات العمرية ويعود ذلك إلى أن المجتمع السعودي هو مجتمع فني

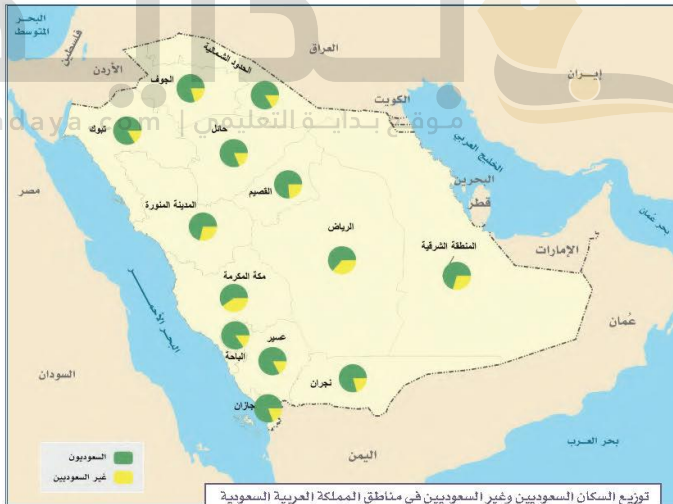
من فوائد الهرم السكاني التعرف على:

- ❶ نِسْبُ الذُّكُورِ. ❷ نِسْبُ الإِنَاثِ.
 ❸ نِسْبُ أَعْمَارِ السَّكَّانِ وَأَعْدَادِ كُلِّ فِئَةٍ عُمَرِيَّةٍ. ❹ نِسْبُ الْفِئَةِ الْعُمَرِيَّةِ الْمُنْتِجَةِ.
 ❺ مَعْرِفَةُ هَلِ الْمَجْتَمَعُ قَبْتِي أَوْ هَرَمِي؟ إِذَا الْهَرَمَ ذَا الْقَاعِدَةِ الْعَرِيضَةِ وَالْجَوَانِبِ الْمُنْحَدِرَةِ
 وَالْقِمَّةِ الْمَدْبُوءَةِ يَدُلُّ عَلَى أَنَّ الْمَجْتَمَعُ قَبْتِي، وَالْعَكْسُ يَدُلُّ عَلَى شَيْخُوخَةِ الْمَجْتَمَعِ.

نشاط ٣

من خلال مفتاح الخريطة، يسجل الطلبة أكبر أربع مناطق إدارية من حيث نسبة السُّكَّان غير السعوديين على مستوى المملكة العربية السعودية.

الرياض - مكة المكرمة - الشرقية - عسير



تقويم الدرس الخامس



١ ما أبرز فوائد التعرف على التركيب النوعي للسكان؟

١- معرفة بناء المجتمع والنسبة بين الذكور والإناث

٢- يساعد على التخطيط والتنمية

٢ يكمل الطلبة الفراغات الآتية بما يناسبها:

الهَرم السكاني هو شكل **بياني** يساعد على فهم
تركيب السكان **الذكور** و **الإناث**
ونسبة كل منهما إلى الآخر.

٣ ما التركيب النوعي للسكان؟

هو تقسيم السكان إلى ذكور وإناث وتحديد نسبة كل منهما إلى إجمالي
عدد السكان

٤ ما أبرز فوائد الهرم السكاني؟

١- نسبة الذكور

٢- نسبة الإناث





الدرس السادس

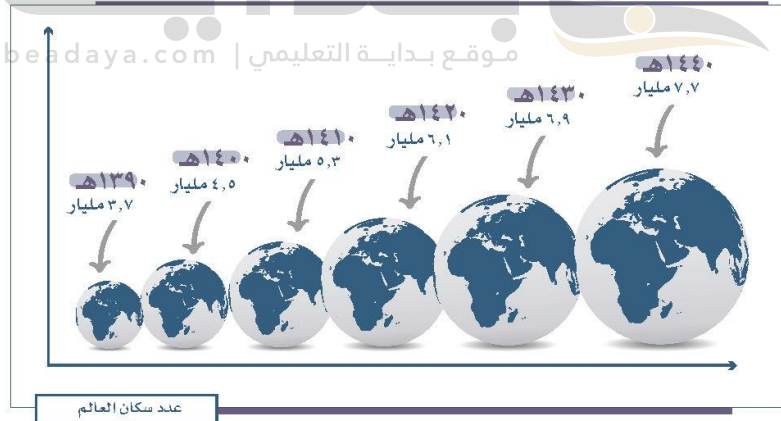
عدد السُّكَّان

تقوم التنمية في أي وطن على معرفة أعداد السُّكَّان، فما التعداد السُّكَّاني؟ وما أهميته؟

تَعْدَاد السُّكَّان

هو قيام جهة رسمية في زمن محدد بالجمع الميداني للمعلومات عن السكان الذين على قيد الحياة في الدولة، وتحليلها اقتصادياً واجتماعياً وسُكَّانياً، واستعمالها لخدمة التنمية.

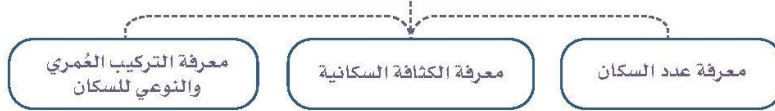
تُجرى الدولة التَّعداد السُّكَّاني الشامل كلَّ عشر سنوات تقريباً، وتنفّذه هيئة متخصصة مستعينة بالفرق الميدانية والبرامج التقنية المدعمة بحقول البيانات المطلوبة.



نتائج التَّعداد:

من أبرز نتائج التَّعداد السُّكَّاني ما يأتي:

من نتائج التعداد السكاني



أهمية التَّعداد:

يعد التعداد السُّكَّاني عاملاً مهماً؛ لأثره في حياة الإنسان الاجتماعية والاقتصادية والجغرافية. ولأهميته تبذل الدول مبالغَ وجهوداً كبيرة للحصول على بيانات سكانية دقيقة، تتيح لها فهم المجتمع وحل مشكلاته، والتخطيط لتطويره وتنميته.

وتُؤلِّي المملكة العربية السعودية التعداد السكاني اهتماماً خاصاً، إذ يمثل أحد أهم أولوياتها، وقد برز بصورة واضحة في تعداد السكان والمساكن كل عشر سنوات، وكان آخرها التعداد لعام ١٤٤١هـ.

بعد إعلان توحيد المملكة العربية السعودية عام ١٣٥١هـ على يد المؤسس الملك عبدالعزيز قُدِّر عدد السكان في ذلك الوقت بنحو مليونين تقريباً، ومنذ ذلك الوقت ووطني المملكة العربية السعودية في تطور مستمر، أدى إلى نمو كبير في عدد السكان. وكان أول تعداد للسكان في المملكة العربية السعودية في عام ١٣٩٤هـ.

وقد بلغ تقدير عدد سكان المملكة العربية السعودية عام ١٤٣٩هـ نحو (٣٣,٤١٣,٦٦٠) نسمة.

١ نشاط

يذكر الطلبة أبرز فوائد التعداد السُّكَّاني.

لأثره في حياة الإنسان الاقتصادية والاجتماعية والجغرافية حيث تتيح فهم المجتمع وحل مشكلاته والتخطيط لتطويره وتنميته

نقطة للاطلاع

تتولى الهيئة العامة للإحصاء في وطني المملكة العربية السعودية أعمال تعداد السكان وتحليل النتائج وفهرما.



www.stats.gov.sa

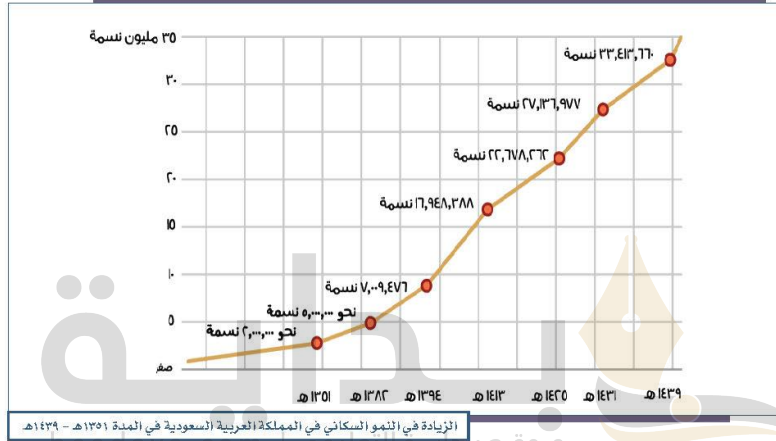
- ١- الإحصاءات السكانية هي مفتاح التنمية والتخطيط، ومن فوائدها:
 - ١- معرفة مناطق تركّز السكان.
 - ٢- معرفة نسبة النمو، والكثافة السكانية.
 - ٣- معرفة حجم القوى المنتجة، وأقسام التركيب السكاني.
 - ٤- الاستفادة من التعداد في رسم خطط التنمية، مثل: التعليم والصحة والخدمات العامة.
 - ٥- إنشاء قاعدة بيانات للدراسات والبحوث.
 - ٦- التعرف على كثير من القضايا الاجتماعية مثل: البطالة والطلاق.

تعداد السكان في المملكة العربية السعودية

سنوات التعداد ونوعه وأعداد سكان المملكة العربية السعودية		
العام	نوع التعداد	عدد السكان
١٣٥١هـ	تقديري	٢,٠٠٠,٠٠٠ نسمة تقريباً
١٣٨٢هـ	تقديري	٥,٠٠٠,٠٠٠ نسمة تقريباً
١٣٩٤هـ	التعداد الأول	٧,٠٠٩,٤٧٦ نسمة
١٤١٣هـ	التعداد الثاني	١٦,٩٤٨,٣٨٨ نسمة
١٤٢٥هـ	التعداد الثالث	٢٢,٦٧٨,٢٦٢ نسمة
١٤٣١هـ	التعداد الرابع	٢٧,١٣٦,٩٧٧ نسمة
١٤٣٩هـ	تقديري	٣٣,٤١٣,٦٦٠ نسمة تقريباً

يتضح من الجدول أن عدد سكان المملكة العربية السعودية ينمو باستمرار بسبب الزيادة الطبيعية، وتطور الأوضاع المعيشية والتنموية، وزيادة الأيدي العاملة الوافدة، وهذه الزيادة تصاحبها خطط التنمية والنمو الاقتصادي المتتابع.

نشاط ٢



بالاطلاع على الشكل يجيب الطلبة عن الأسئلة الآتية:

أ- يستنتج الطلبة الاتجاه العام لتطور عدد السكان في وطني المملكة العربية السعودية.

تطور ونمو سكاني كبير

ب - في رأيك كيف يُسهم تعداد السكان في تلبية احتياجات الناس؟

عندما تكون غالبية السكان من الفئة الفتية التي تساهم في نمو الناتج القومي

ج - يحدد الطلبة أكبر قفزة عديدة أحصيت لسكان وطني المملكة العربية السعودية، مستنتجين أسباب ذلك.

من ٧ مليون نسمة إلى ١٦ مليون نسمة
ويرجع ذلك إلى ارتفاع مستوى المعيشة والتقدم الطبي والرعاية الصحية

ترتيب المملكة العربية السعودية من حيث عدد السكان حسب تقديرات عام ١٤٣٩هـ



«عوامل نمو السكان

كان نمو سكان وطني في الماضي بطيئاً؛ لقلة الموارد، والهجرة إلى الخارج، وكثرة الأمراض والحروب. وبتحسن الأوضاع المعيشية والصحية والأمنية بعد توحيد وطني المملكة العربية السعودية حصل نمو كبير في أعداد السكان، وقد بلغت نسبة النمو السكاني في وطني لعام ١٤٣٩هـ متوسط نمو سنوي مُعدَّلُه (٥٢، ٢٪).

ويرتبط نمو السكان في المملكة العربية السعودية بعاملين أساسيين، هما:

١- الزيادة الطبيعية:

موقع بداية التعليم | beadava.com
هي الفرق بين عدد المواليد والوفايات في مدة زمنية محددة، وتحسب عادة لكل ألف من السكان. ومعدل الزيادة الطبيعية في المملكة العربية السعودية منذ عام ١٤٣٩هـ لكل ألف نسمة من السكان هو ٢٥ نسمة في السنة.

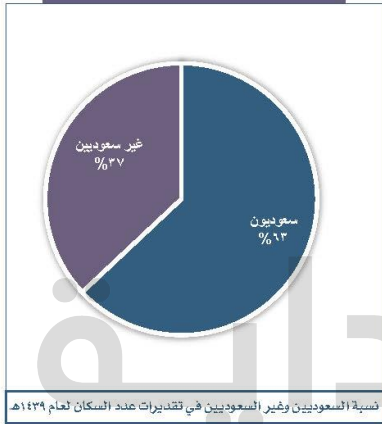
٢- الزيادة غير الطبيعية:

احتاجت المملكة العربية السعودية إلى عدد كبير من المهنيين والفنيين وعمال الخدمات؛ لمواكبة خطط التنمية في العقود الماضية من جهة، ولتلبية احتياجات الأسر السعودية في جوانب الخدمة الخاصة بها من جهة أخرى، وهو مما أدى إلى توافد الأيدي العاملة فزاد عدد السكان، ولا تعد هذه الأيدي العاملة الوافدة جزءاً دائماً في حجم عدد السكان لأنها غير مستقرة، وتعود إلى بلادها بعد انتهاء الحاجة إليها.

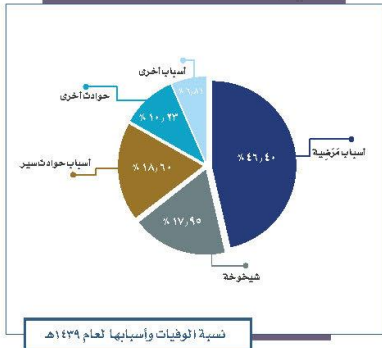
نشاط ٣

حرصت رؤية المملكة ٢٠٣٠ على
توطين المِهْنِ وسَعْدَتْهَا؛ وهو ما أدى
إلى تراجع أعداد غير السعوديين
وإحلال السعوديين مكانهم.
أ- يبين الطلبة أثر ذلك في اقتصاد
المملكة.

ساعد ذلك في التخفيض من نسب
البطالة في المملكة وخلق فرص
عمل للشباب مما أدى إلى دعم
الاقتصاد الوطني



موقع بداية التعليم | beadaya.com



ب- من أسباب نقص عدد السكان
حوادث السير، يقترح الطلبة كيفية
الوقاية من ذلك.

تتم الوقاية من حوادث السير عن
طريق التزام قواعد المرور
والحرص على اتخاذ إجراءات
السلامة المرورية في الطرقات

تقويم الدرس السادس



١ يذكر الطلبة اثنتين من فوائد التعداد السكاني.

١- **تتيح فهم المجتمع وحل مشكلاته** ٢- **التخطيط لتطوير المجتمع وتنميته**

٢ يصل الطلبة ما في المجموعة (أ) بما يناسبها في المجموعة (ب) باستعمال الأرقام:

المجموعة (ب)	المجموعة (أ)
٢ (٥,٠٠٠,٠٠٠ نسمة	١ عدد سكان المملكة التقديري عام ١٣٥١هـ
٥ (٢٢,٦٧٨,٢٦٢ نسمة	٢ عدد سكان المملكة التقديري عام ١٣٨٢هـ
٣ (١٦,٩٤٨,٣٨٨ نسمة	٣ عدد سكان المملكة عام ١٣٩٤هـ
٦ (٧,٠٩٤,٤٦٦ نسمة	٤ عدد سكان المملكة عام ١٤١٣هـ
١ (٢,٠٠٠,٠٠٠ نسمة	٥ عدد سكان المملكة عام ١٤٢٥هـ

٣ يذكر الطلبة اثنتين من أسباب بطء نمو السكان قديماً في المملكة العربية السعودية.

قلة الموارد

الهجرة إلى الخارج



تقويم الوحدة الأولى

موقع بداية التعليم | beadayya.com



١ ما خصائص الموقع الفلكي للمملكة العربية السعودية؟

تقع معظم أراضي المملكة في المنطقة المدارية الحارة
يمر مدار السرطان في وسط أراضي المملكة

٢ يضع الطلبة علامة (✓) أمام العبارة الصحيحة، وعلامة (x) أمام العبارة غير الصحيحة فيما يأتي:

- أ- الأمن والاستقرار من الأسباب المساعدة على زيادة أعداد السكان في وطني. صح
ب- تتأثر المناطق الجنوبية في وطني بمناخ البحر المتوسط. خطأ
ج- توافر فرص عمل في وطني أدى إلى زيادة الوافدين إليها. صح
د - النزوح من الأرياف إلى المدن يُسببهم في إهمال الأراضي الزراعية. صح
هـ- تحيط بالمملكة العربية السعودية ست دول عربية فقط. خطأ

٣ يكمل الطلبة الفراغات الآتية: وقع بداية التعليمي | beadaya.com

أ- حسب تقديرات إحصاء عام ١٤٣٩هـ، كانت المملكة العربية السعودية من حيث عدد السكان في الترتيب .. الأولى .. بين دول شبه الجزيرة العربية، و .. السادسة .. عربياً، و .. إسلامياً ..

ب - تقع المملكة العربية السعودية في العروض .. المدارية .. وتتأثر بثلاثة أقاليم .. المداري شبه الموسمي .. الصحراوي .. المعتدل ..

٤ يسجل الطلبة المصطلح المناسب لما يأتي:

- أ- شكل بياني يساعد على فهم تركيب السكان النوعي والعمري. (**الهرم السكاني**)
ب- تقسيم السكان إلى ذكور وإناث. (**التركيب النوعي**)
ج- طُفوح بارزّة تكونت من حُمَم البركان. (**الحرّات**)

٥ يختار الطلبة الخيار الصحيح فيما يأتي:

- أ- وسيلة لقياس توزيع السكان في الدولة أو المنطقة:
○ الزيادة الطبيعية ○ الكثافة السكانية ○ التركيب العمري ○ التركيب النوعي
ب- الهرم السكاني:
○ شكل نصّي ○ شكل بياني ○ شكل طبيعي ○ شكل فوتوغرافي
ج- يسمى القسم الجنوبي من المرتفعات الغربية:
○ جبال مَدَيّن ○ جبال الحجاز ○ جبال السَّروَات ○ جبال طُويق

٦ يصحح الطلبة ما تحته خطّ فيما يأتي:

أ- المملكة العربية السعودية في المركز الأول عربيّاً من حيث عدد السكان.

السادس

ب- تقع المملكة العربية السعودية على مدار أكثر من ١٢ درجة عرضية.

١٦

ج- تهطل الأمطار في وطني بقلة ما عدا شمالها الشرقي.

جنوبها الغربي

٧ يصل الطلبة ما في المجموعة (أ) بما يناسبها من المجموعة (ب) باستعمال الأرقام فيما يأتي:

(ب)	(أ)
٥ (اختلاف التضاريس	١- تتنوع تضاريس وطني بسبب
٢ (قلة الموارد والهجرة إلى الخارج	٢- يخلو ساحل الخليج العربي من الأودية بسبب
٣ (الانبساط وقلة الارتفاع	٣- كان النمو السكاني في وطني في الماضي بطيئاً بسبب
١ (اتساع المساحة	٤- يقل عدد السكان في المناطق الجبلية الشاهقة بسبب
٤ (وعورة التضاريس	٥- يختلف مناخ وطني من منطقة لأخرى بسبب

موقع بداية التعليمي | beadaya.com

٨ لماذا يتسم مناخ الربع الخالي بشدة الحرارة؟
لأن مناخه قاري حار جداً في الصيف وبارد في الشتاء والأمطار قليلة وتكاد تندر

٩ يعلل الطلبة ما يأتي:

أ- هجرة سكان الرِّيف إلى المدن:

لتوفر الخدمات وفرص العمل

ب- أهمية معرفة التركيب السكاني:

له أهمية كبرى في معرفة بناء المجتمع والنسبة بين الذكور والإناث حيث تساعد على التخطيط والتنمية

١٠ يحدد الطلبة نوع المناخ في مناطق المملكة في الجدول الآتي:

المنطقة	المناخ
١- المناطق الوسطى	حار صيفاً بارد شتاء - جاف
٢- المناطق الشمالية	حار صيفاً بارد شتاء - جاف
٣- المرتفعات الغربية	معتدل - شبه جاف

بداية
beadaya.com | موقع بداية التعليمي

مَوَارِد المملكة العربية السعودية

دروس الوحدة



- beadaya.com | موقع بحابة التعليمي
- ❖ الدرس السابع: المياه
 - ❖ الدرس الثامن: النفط والغاز والمعادن
 - ❖ الدرس التاسع: الصناعة والتجارة
 - ❖ الدرس العاشر: السياحة
 - ❖ الدرس الحادي عشر: تنمية المَوارِد والمحافظة عليها



أهداف الوحدة



تهدف هذه الوحدة إلى:

- التعرف على أبرز موارد المملكة العربية السعودية
- الوعي بأهمية الاستثمار الأمثل لموارد المملكة العربية السعودية
- التعرف على جهود المملكة العربية السعودية في تنمية الموارد
- إدراك أهمية المحافظة على موارد البلاد



وزارة التعليم

Ministry of Education

2022 - 1444



الدرس السابع

المياه

تعاني المملكة العربية السعودية شح المياه؛ وهو ما يتطلب الترشيد وتجنب الإسراف، فما موارد المياه في المملكة العربية السعودية؟

الماء عنصرٌ أساس للحياة على سطح الأرض، ومن دونه لا تقوم الحياة. قال تعالى: **﴿وَجَعَلْنَا مِنَ الْمَاءِ كُلَّ شَيْءٍ حَيٍّ أَفَلَا يُؤْمِنُونَ﴾** [الأنبياء].

والماء عاملٌ رئيس لاستقرار الإنسان وممارسة نشاطاته المختلفة، لذلك قامت الحضارات القديمة على ضفاف أودية الأنهار: (دجلة، الفرات، النيل، السند).

ولخلو المملكة العربية السعودية من الأنهار، وقلة الأمطار فيها؛ قامت وزارة البيئة والمياه والزراعة بالعمل لحماية الموارد الحيوية للدولة من أجل:

• ضمان تحقيق الأمن التنموي والغذائي.

• ضمان استفادة مستدامة من الموارد المائية. | beadaya.com

أنواع موارد المياه في المملكة العربية السعودية

المياه السطحية:

هي المياه الجارية على سطح الأرض أو التي تجمعت في طبقات قريبة من سطح الأرض، وتسربت خلال الصخور والرمال إلى باطن الأرض، وقد حال دون انحدارها إلى أسفل وجود طبقة غير مسامية عملت لحجز المياه تُعرف بالطبقة الخازنة، وعندما حضر الإنسان الآبار استطاع الوصول إلى الماء على بعد أمتار قليلة، وتعدّ تهامة عسير من أغنى مناطق المملكة العربية السعودية بهذا النوع من المياه.



تدفق مياه آبار خُلَيس بعد استخراجها وإجرائها في الاديبي العينية العزينة



وادي الرمة

ومن أقسام المياه السطحية:

أ- مياه العيون:

وهي التي كانت تتدفق طبيعياً من باطن الأرض دون تدخل الإنسان، مثل: عيون الأحساء، والخرج، والأفلاج، والطائف، وعين زبيدة، وعين العزينة التي جعلها الملك عبدالعزيز وقفاً عام ١٣٦٦هـ لسقيا سكان مدينة جدة.

ب- مياه الأودية:

وهي المياه التي تتساب في الشّعاب والأودية عقب سقوط الأمطار، وكانت هذه المياه قديماً تذهب هدرًا إما في البحار وإما في الصحراء دون الاستفادة منها، ولكن بعد أن أنشأت وزارة البيئة والمياه والزراعة السدود

أصبح من الممكن حجز المياه، وتخزينها لاستعمالها في الشرب والزراعة.

ومن أهم الأودية في وطني:

وادي الرمة / الباطن:

يعد من أكبر الأودية وأطولها، يبدأ من حرة خيبر بمنطقة المدينة المنورة غرباً، ويتجه نحو الشرق ماراً بالقصيم، ثم تقطع رمالاً الدهناء جزءاً منه ليظهر مرة أخرى باسم وادي الباطن الذي ينتهي في مدينة البصرة بالعراق.

وادی الدواسر وروافده:

تتحدّر روافده من مرتفعات السَّروَات، وينتهي في الرُّبْع الخالي باسم وادي الدواسر.

وادی السرحان:

يمتد من قرب عَمَّان عاصمة المملكة الأردنية شمالاً حتى منطقة الجَوْف في المملكة العربية السعودية.

وادی ثریة:

ينحدر من جبال السروات، ويُعرّف بوادي الحُرْمَة عندما يمر بمدينة الحُرْمَة،
وهناك أودية جبال الحجاز وسهول تهامة المنحدرة بشدة من المرتفعات باتجاه البحر
الأحمر، مثل: وادي جازان، وبيش، والليث، وفاطمة، ورايح، والحمض، وجميعها أودية
قصيرة ما عدا وادي الحمض.



نشاط

أ-يذكر الطلبة واديَّين داخلين
وواديَّين يصيَّان في البحر.

وادي حنيفة – وادي الدواسر
– وادي فاطمة

ب- يفكر الطلبة في طرق تمكّن من حفظ مياه الأودية.

تنقية المياه وبناء السدود إعادة ترميم الأدوية

2022 - 1444

المياه الجوفية العميقة:

هي المياه التي تجمعت في باطن الأرض منذ العصور الجيولوجية القديمة، وتسربت هذه المياه خلال الصخور المسامية (الرملية - الجيرية)، واستمرت في تسربها حتى واجهت طبقة غير مسامية عملت لخزنها، ويصعب على الإنسان الحصول عليها إلا بالمضخات. ومن أهم الطبقات الحاملة للمياه في المملكة العربية السعودية:

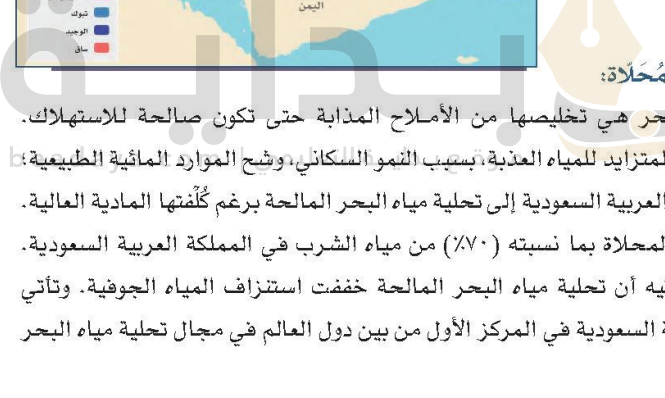
للإطلاع

تسمية هذه الطبقات بهذه الأسماء كانت من قِبَل الخبراء الذين أجروا عملية المسح على أراضي المملكة العربية السعودية، فحددت المنطقة النموذجية لكل طبقة، بناءً على وضوحها، وحجم المياه فيها، وسُميت كل طبقة بالاسم الجغرافي لمنطقتها النموذجية، فطبقة ساق سميت بهذا الاسم لوجود منطقتها النموذجية حول جبل ساق بالقصيم، وهكذا بقية الطبقات، ما عدا طبقة النيجين التي ترمز إلى حقبة زمنية معينة.

- ١ - طبقة ساق.
- ٢ - طبقة الوجيد.
- ٣ - طبقة تَبُوك.
- ٤ - طبقة الوسيح - البياض.
- ٥ - طبقة أم رَضَمَة.
- ٦ - طبقة الدَّمَام.
- ٧ - طبقة النُّيُوجِين.
- ٨ - طبقة المَنَجُور وَضَرْمًا.



وادي النخيلة - محمية نيوالة



٢ نشاط

أ- يضع الطلبة دائرة حول أكبر طبقة حاملة للمياه في المملكة العربية السعودية.

ب- يحدد الطلبة موقع
طريقة الوجود بإحاطته
بدائرة.

مياه البحر المُحَلَّاة:

تحلية مياه البحر هي تخليصها من الأملاح المذابة حتى تكون صالحة للاستهلاك. وشدة الطلب المتزايد للمياه العذبة، بسبب النمو السكاني، وشح الموارد المائية الطبيعية، لجأت المملكة العربية السعودية إلى تحلية مياه البحر المالحة برغم كلفتها المادية العالية. وتُستهلك المياه المحلاة بما نسبته (٧٠٪) من مياه الشرب في المملكة العربية السعودية. ومما لا شك فيه أن تحلية مياه البحر المالحة خففت استنزاف المياه الجوفية. وتأتي المملكة العربية السعودية في المركز الأول من بين دول العالم في مجال تحلية مياه البحر المالحة.

قامت المؤسسة العامة لتحلية المياه المالحة بإنشاء ١٧ محطة تحلية (١٣ محطة على البحر الأحمر و٤ محطات على الخليج العربي)، يستفاد منها في إنتاج المياه المحلاة، وتوليد الكهرباء.

ومن المدن التي أنشئت فيها محطات التحلية:
الجبيل، والخُبر، على الخليج العربي، وجدة، ويَبْع، على البحر الأحمر.

للاطلاع



www.swcc.gov.sa

المؤسسة العامة لتحلية المياه المالحة

Saline Water Conversion Corporation



● بلغ مجموع أطوال الأنابيب المستعملة في نقل المياه
المحلاة أكثر من ٥٤٧٠ كم، تستفيد منها أكثر من ٥٠ مدينة وقرية.

● تبلغ الطاقة الإنتاجية الكلية من المياه المحلاة يومياً
٣,٣٦٦,٠٠٠ م³ تقريباً.

مياه الصرف الصحي المعالجة:

تعد مورداً جديداً يدعم الموارد الأخرى، فقلة المياه في وطني المملكة العربية السعودية
أدت إلى التفكير في الاستفادة من مياه الصرف الصحي بعد معالجتها؛ لاستعمالها في
بعض المجالات، مثل: ري الحدائق والمتنزهات، وفي بعض الأغراض الصناعية.



محطة معالجة مياه الصرف الصحي بالرياض

تقويم الدرس السابع

١ يحدد الطلبة على الخريطة ما يأتي:

أ- امتداد ثلاثة أودية داخلية.

ب- ثلاث محطات لتحلية المياه المالحة.

٢ يذكر الطلبة بعض مجالات استعمال مياه الصرف الصحي المعالجة.

ري الحدائق العامة، التبريد، تغذية المياه، الأغراض الصناعية



٣ يختار الطلبة الخيار الصحيح فيما يأتي:

أ- المياه التي تجمعت قديماً في باطن الأرض كوّنت:

أودية ☐ طبقات ☒ عيوناً ☐

ب- الوادي الذي يمتد من مدينة عَمَّان حتى الجوف هو وادي:

السَّرحان ☒ ثُرْبَة ☐ الدَّواسر ☐

ج- ترتيب وطني عالمياً في مجال تحلية المياه هو المركز:

الأول ☒ الثاني ☐ الثالث ☐



الدرس الثامن

النّفط والغاز والمعادن

تُزخر المملكة العربية السعودية بثروات طبيعية كثيرة من نفط وغاز ومعادن، فما أبرز خصائص تلك الثروات الطبيعية؟



حقل منيفة في الخليج العربي

النّفط

يعد النفط من أهم مصادر الطاقة في العالم، ومن نعم الله ﷻ على وطني المملكة العربية السعودية أنها تأتي في المركز الثاني في الاحتياطي العالمي من النفط، وفي المركز الأول في تصديره عالمياً.

التنقيب عن النفط واكتشافه في وطني

بدأ التنقيب عن النفط في عهد الملك عبدالعزيز ﷺ، فقد وقّعت الحكومة اتفاقية مع شركة (سوكال) التي عُرفت فيما بعد باسم شركة الزيت العربية الأمريكية (أرامكو)، وبدأ البحث عنه في المنطقة الشرقية، وفي موقع قريب من مدينة الدمام حُفرت أول بئر للنفط، وكانت النتائج غير مشجّعة، وكاد اليأس يصيب خبراء الشركة، فعَمّقُوا بئر الدمام السابعة، وعند عمق ٤٤٠ م، اكتُشف النفط بكميات تجارية عام ١٣٥٧هـ، واستمر الحفر والتنقيب، فاكْتُشفت كثير من الحقول الضخمة في اليابسة، وفي مياه الخليج العربي.

beaday للاطلاع

- تعزيز القيمة المتحققة من قطاع الطاقة أحد أهداف رؤية المملكة ٢٠٣٠ التي تسعى لإنجاز الاتي:
- رفع نسبة المحتوى المحلي في قطاع النفط والغاز.
- زيادة إسهام مصادر الطاقة المتجددة في قطاع الطاقة.
- تطوير الصناعات المرتبطة بالنفط والغاز.
- رفع تنافسية قطاع الطاقة.

أبرز حقول النفط في المملكة العربية السعودية

اسم الحقل	نبذة عنه
الدمام	أول حقل بري اكتُشف فيه النفط بكميات تجارية عام ١٢٥٧هـ.
الغَوَّار	هو أكبر حقول النفط على اليابسة مساحةً وإنتاجاً في العالم، اكتشف عام ١٣٦٧هـ.
بَقِيق	يشغل هذا الحقل المركز الثاني في الإنتاج، ويقع إلى الجنوب الغربي من الظَهْران.
أبو حُدْرِيَّة	اكتشف فيه النفط عام ١٣٥٩هـ، ويقع إلى الشمال الغربي من الظهران.
الخُرْسَانِيَّة	يقع إلى الشرق من حقل أبو حدرية، وقد اكتُشف هذا الحقل سنة ١٢٧٥هـ.
حُرَيْص	يقع شمال شرق مدينة الرياض، وقد اكتُشف هذا الحقل سنة ١٣٧٦هـ.
السَّقَانِيَّة	يقع إلى الشمال من الظهران، ويبعد عن مدينة الخُفَيجي ٦٠ كم، وهو أكبر حقول النفط المغمورة بالمياه في العالم.
مُتَيْفَّة	يقع بالقرب من شاطئ الخليج العربي، وهو ثاني حقل مغمر بالمياه في المملكة العربية السعودية، ومن أعمق الأماكن النفطية فيها.
القَطِيف	يقع شمال غرب محافظة القطيف، ومعظمه على اليابس، وجزء منه في مياه الخليج العربي.
الشَّيْبَة	يقع في أقصى الرُّبْع الخالي.

نشاط ١

يضع الطلبة دائرة على أهم ثلاثة حقول نفط في المملكة العربية السعودية في الخريطة.



تكرير النفط

توجد في وطني المملكة العربية السعودية محطات لتكرير النفط في مدن مختلفة، مثل: الرياض، وجدة، ورأس تنورة، والجبيل، ورايح، وينبع.

للإطلاع

❖ يخرج النفط من الآبار في هيئة سائل أسود خام لا يصلح للاستهلاك، فيجوز إلى مشتقاته ويفصل كل مشتق على حدة، ويجري ذلك في معامل خاصة، هي معامل التكرير، وفيها يُعرّض النفط الخام لحرارة عالية؛ فيتبخّر، ثم برودة، فيتكثف عند درجات متفاوتة من الحرارة، فينفصل كل مشتق عند درجة حرارة خاصة به، وتسمى هذه العملية بتكرير النفط.

❖ كان خط التايلاين الممتد من بقيق في المملكة العربية السعودية إلى صيدا في لبنان من أشهر خطوط الأنابيب، إذ كان يمر بأربع دول (المملكة العربية السعودية، والمملكة الأردنية، وسوريا، ولبنان) ولكن توقف الضخ في هذا الأنبوب منذ عام ٢٠١٢هـ.

نقل النفط

تستعمل الأنابيب في نقل النفط من حقوله إلى محطات التكرير، أو إلى موانئ التصدير، ومن أشهر خطوط الأنابيب خط بترولاين (شرق-غرب) ويمتد من بقيق إلى ينبع، وطوله ٢٦٢, ١ كم، وطاقته خمسة ملايين برميل يومياً.

تصدير النفط

بعد أن يصل النفط خلال الأنابيب إلى أحد موانئ التصدير، وهي: ميناء رأس تنورة، والجميمة، والحفجي على الخليج العربي، وميناء ينبع على البحر الأحمر، يُنقل بناقلات نفط ضخمة إلى الدول التي اشتريته من المملكة العربية السعودية.

الغاز

يعد الغاز أحد مصادر الطاقة؛ فيستعمل وقوداً، إضافةً إلى استعماله في صناعة المواد الكيميائية، والبلاستيك، والأسمدة، والمطاط الصناعي. تأتي المملكة العربية السعودية في المرتبة السادسة عالمياً في إنتاج الغاز الطبيعي، والرابعة في الاحتياط.



أنابيب نقل النفط



معمل الغاز البشري في الجبيل

أقسام الغاز:

- ١- الغاز المرافق الذي يكون مختلطاً بالنفط الخام عند إنتاجه.
- ٢- الغاز غير المرافق للنفط.
- ٣- الغاز الذي يكون في البئر التي فيها النفط، ولكنه يكون في أعلى البئر ومنفصلاً عنه.

معلومات

أرامكو السعودية
saudi aramco



www.saudiaramco.com

شركة أرامكو السعودية شركة سعودية في مجال النفط، وأفتخر بها:

❖ شركة عريقة أسست في عهد الملك عبدالعزيز آل سعود عام ١٣٥٢هـ (١٩٣٣م).

❖ تعمل في مجال النفط والغاز الطبيعي والبتروكيماويات.

❖ من أعمالها: التقيب والإنتاج والتصنيع والتسويق والشحن.

❖ مقرها الرئيس: الظهران بالمنطقة الشرقية.

❖ هي أضخم شركة نفط في العالم.

❖ يبلغ عدد موظفيها نحو ٦٧ ألف موظف وموظفة.

المعادن

أنعم الله ﷻ على المملكة العربية السعودية بعدد من الخامات المعدنية ذات القيمة الاقتصادية الكبيرة، التي تُستثمر لدعم التنمية والتطور في البلاد.



نشاط ٢

يعدد الطلبة بعض الصناعات القائمة على المعادن الموجودة في المملكة العربية السعودية.

صناعة مواد البناء. - الإسمنت. - صناعة الحلى والمجوهرات. - صناعة الأواني المنزلية

نشاط ٣



بالاستعانة بالخريطة يكمل الطلبة الجدول الآتي:

المعادن	الذهب	الفضة	النحاس	الزنك	الحديد
مواقعها	مهد الذهب - الحجاز - حمضة - أم	الصخيرات - مهد الذهب - الحجاز -	أم الدمار - جبل الشيزم - جبل صاب	الخنقية	الأفلاج - وادي فاطمة - وادي

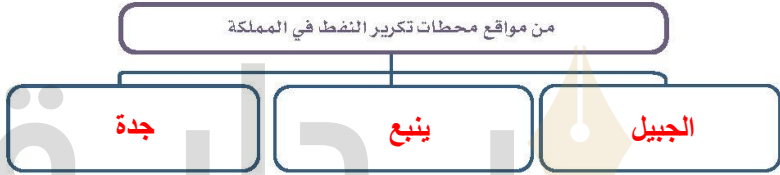
القريات - أم
الشاهيت
الصخيرات -
جبل سداس
البحادي -
شعيب الطير
النقرة

تقويم الدرس الثامن



١ في أي سنة اكتُشف النفط بكميات تجارية في المملكة العربية السعودية؟
سنة ١٣٥٧ هجري

٢ يكمل الطلبة الرسم الإيضاحي الآتي:



٣ يحدد الطلبة على

الخريطة الآتي:

- أ- حقول النفط في: الدَّمَام، بَقِيق، الخَرَسَانِيَّة.
- ب- حقول الغاز: جنوب الكدن، الحلوة.
- ج- المعادن: الذهب، الحجر الجيري.





الدرس التاسع

الصناعة والتجارة

للصناعة والتجارة مَقُومَات وتأثير في الاقتصاد الوطني، فما أبرز تلك المقومات وجوانب التأثير؟

« الصناعة »

كان الناس في وطني المملكة العربية السعودية في الماضي يصنعون معظم أدواتهم من موارد البيئة المحيطة بهم، فَتَتَجَّ صناعات يسيرة تسد حاجة السكان، وقد كان هذا حتى وقت قريب.

وبعد اكتشاف النفط تطورت الصناعة، وأنشئت مصانع حديثة تنتج كثيراً من السلع. واليوم يسعى وطني المملكة العربية السعودية إلى تنمية الاقتصاد وتنويعه بإطلاق قدرات القطاعات غير النفطية الواعدة وفقاً لرؤية المملكة ٢٠٣٠، وهي:

- ❖ توطين الصناعات الواعدة.
- ❖ توطين الصناعات العسكرية.
- ❖ تطوير قطاع التجزئة.

١ نشاط

أ- ما الموارد الطبيعية التي اعتمدت عليها الصناعة قديماً؟


المحاصيل الزراعية – الأشجار – الأحجار – المنتجات الحيوانية

ب- يذكر الطلبة بعض الصناعات اليدوية القديمة.

الملايس – الأواني المنزلية البسيطة – الأثاث البسيط

﴿مَقَوِّمَاتُ الصَّنَاعَةِ﴾

هناك عدد من المقومات التي تركز عليها الصناعة، ومن أبرزها ما يأتي:



المواد الخام

نباتية وحيوانية وزراعية
ومعدنية وغيرها




رأس المال

لشراء مستلزمات الصناعة
(آلات حديثة، مبانٍ مجهزة)




مصادر الطاقة

ومنها النفط والغاز الطبيعي
والفحم والطاقة الكهربائية
والشمسية



الأسواق

تبيع السلع المُنْتَجَة بما يلبي
احتياج المستهلكين



النقل والمواصلات

نقل المنتجات الصناعية
وتوزيعها وتوزيعها محلياً
وعالمياً



الموارد البشرية

تحتاج الصناعة إلى الأيدي
العاملة المدربة والخبرة
والمهارات الفنية

نشاط ٢

أ- ما دور وسائل النقل والمواصلات في الصناعة؟

تسهيل نقل البضائع والمواد الخام بين الأسواق

نقل الأيدي العاملة والخبرات المدربة إلى الدول المحتاجة

ب- ما أبرز ثلاثة مَقُومَات للصناعة متوافرة في المملكة العربية السعودية؟

١- مصادر الطاقة ٢- رأس المال ٣- المواد الخام

الصناعات

يُصَنَّف الإنتاج الصناعي إلى وحدتين رئيسيتين، هما:

الصناعات الأساسية، والصناعات التحويلية.

١- الصناعات الأساسية:

تعتمد في معظمها على النفط، مثل: الصناعات البتروكيمياوية، وتكرير النفط، وتعد هاتان الصناعتان بمنزلة العمود الفقري للصناعات السعودية، إضافةً إلى الصناعات البلاستيكية والصناعات المعدنية ومواد البناء.



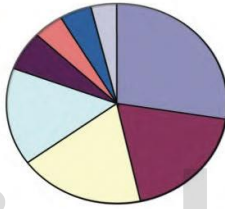
أحد مصانع تكرير النفط



أحد مصانع الحديد بالدمام

٢- الصناعات التحويلية:

تتكون من صناعات متنوعة، مثل: صناعة المواد الغذائية، ومواد البناء، والمنسوجات والملابس، والصناعات الورقية، والصناعات الخشبية، وغيرها.



صناعة المنتجات المعدنية والماكينات والمعدات ٢٧,٤٪
صناعات كيميائية ومنتجات بلاستيكية ١٩,٤٪
صناعة مواد البناء والخزف والزجاج ١٨,١٪
صناعة المواد الغذائية والمشروبات ٣,٨٪
صناعة الورق والطباعة والنشر ٦,٤٪
صناعة الخشب والمنتجات الخشبية والأثاث ٧,٧٪
صناعة المنسوجات والملابس الجاهزة ٤,٤٪
صناعات أخرى ١٥,٨٪

٣ نشاط

يُصنّف الطلبة الصناعات السعودية في الشكل إلى أساسية وتحويلية:

صناعات تحويلية	صناعات أساسية
مواد بناء	البلاستيك
مواد غذائية	صناعات كيميائية
صناعة الورق	معدات
المنسوجات والملابس	منتجات معدنية

« أهمية الصناعة في وطني

عُنيت حكومة وطني المملكة العربية السعودية بالصناعة لأسباب عدة، منها:

- ١- استثمار الثروات الخام.
- ٢- إيجاد عدد كبير من الوظائف للمواطنين.
- ٣- توفير احتياجات الدولة من المنتجات الصناعية.
- ٤- تطوير القطاعات الأخرى كقطاع التعدين والزراعة، وتحسين إنتاجه.
- ٥- رفع المستوى المعيشي للسكان.

«تحديات الصناعة الوطنية»

تواجه الصناعة في المملكة العربية السعودية مثل غيرها من الدول الأخرى عدداً من التحديات، من أبرزها ما يأتي:

- ١- ارتفاع جِدَّة المنافسة في الأسواق العالمية.
- ٢- ارتفاع التكاليف الإنتاجية.
- ٣- إهمال بعض المصانع التقيد بالموصفات والمقاييس، وإجراءات مراقبة الجودة.
- ٤- ضعف البنى الصناعية والتشريعية والتنظيمية لتطوير الإنتاج.
- ٥- عزوف بعض الشباب عن الانخراط في وظائف صناعية.

وتعمل رؤية المملكة ٢٠٣٠ لمواجهة هذه التحديات، ومعالجتها من خلال عدد من البرامج والسياسات.

«التجارة»

هي تبادل المنتجات الاقتصادية المختلفة بالبيع والشراء داخل الدولة، أو بين الدول المنتجة والمستهلكة.

وعرّف سكان شبه الجزيرة العربية التجارة منذ آلاف السنين، فكانت تُمارَس أكثر من أي مهنة أخرى بوصفها وسيلةً للكسب المشروع، وقد ساعد على ذلك موقعها الجغرافي المتميز الذي يربط القارات، وطبيعة سكانها المحبين للتجارة، وكان لموسم الحج أثر رئيس في ازدهارها.

٤ نشاط

أ- ما السورة القرآنية التي ورد فيها ذكر رحلة الشتاء والصيف التجارية؟

سورة قريش

ب- ما المهَن التي مارسها النبي محمد ﷺ في شبابه؟

مهنة التجارة.



الصادرات والواردات في وطني المملكة العربية السعودية:

أ- الصادرات:

يعد النفط ومشتقاته من أبرز الصادرات، تأتي بعده منتجات البتروكيماويات، والتمور، والحديد، وغيره.

ب- الواردات:

تتنوع الواردات للوطن، فتشمل السيارات، والمعدات الثقيلة، والأجهزة، والآلات الكهربائية بأنواعها، وبعض الأغذية، والمنتجات النباتية، والحيوانية، والأدوية، والمطور.



جاذب من ميناء جدة الإسلامي

الميزان التجاري:

هو الفرق بين قيمة صادرات الدولة وقيمة وارداتها.

وتحرص جميع الدول على أن تكون قيمة الصادرات أكبر من قيمة الواردات، ليصبح الميزان التجاري في مصلحتها.

التبادل التجاري:

يقصد به العلاقات التجارية بين الدول في استيراد السلع وتصديرها. ويحرص وطني على إقامة علاقات تجارية مع أغلب دول العالم.

تقويم الدرس التاسع



١ يذكر الطلبة ثلاثة مَقَوِّمَات ترتكز عليها الصناعة في المملكة العربية السعودية.

١- مصادر الطاقة

٢- رأس المال

٣- المواد الخام

٢ يذكر الطلبة ثلاثة حلول مقترحة لتنويع الصادرات الوطنية.

١- توطين الصناعات الواعدة

٢- توطين الصناعات العسكرية

٣- تطوير قطاع التجزئة

موقع بداية التعليمي | beadaya.com

٣ يقترح الطلبة حلولاً تتوافق مع رؤية المملكة ٢٠٣٠ تجعل المملكة العربية السعودية

تستغني عن كثير من الواردات.

توطين الصناعات الواعدة

توطين الصناعات العسكرية

تطوير قطاع التجزئة

تطوير قطاع الزراعة والتعدين

استثمار المواد الخام





الدرس العاشر

السّياحة

تعد السياحة ركيزة وطنية اقتصادية تبرز من خلالها الجوانب الثقافية والاقتصادية،
فما مقومات السياحة وأهميتها في المملكة العربية السعودية؟

السّياحة

هي انتقال فرد أو مجموعة من الأفراد من منطقة إقامتهم إلى مناطق داخل الوطن (السياحة الداخلية)، أو إلى بلدان أخرى خارج الوطن (السياحة الخارجية)؛ بهدف قضاء وقت للمتعة والاستجمام، والتعرف على الثقافات الأخرى.
ولقد منّ الله ﷻ على وطننا الغالي المملكة العربية السعودية بكنوز متنوعة من أماكن طبيعية، وسواحل بحرية جميلة، وآثار تاريخية قديمة وإسلامية؛ لذلك سعت الحكومة لاستثمارها وجعلها مناطق سياحية يتمتع بها السائحون؛ وتضمنت رؤية المملكة ٢٠٣٠ تطوير قطاع السياحة، لكونه من وسائل تنمية مصادر الاقتصاد وتنويعها.



الأُلا - منطقة المدينة المنورة



الدرعية التاريخية

نشاط

أ- ما أبرز المناطق السياحية في المملكة العربية السعودية؟

الدرعية في مدينة الرياض

العلا في المدينة المنورة

ب- يستخرج الطلبة موقعين أثريين تاريخيين في الوطن من خلال الموقع الإلكتروني لوزارة السياحة

www.mt.gov.sa

جدة التاريخية

مائن صالح



أهمية السياحة في المملكة العربية السعودية:
عُنيت حكومة وطني المملكة العربية السعودية ممثلةً في وزارة السياحة، ووزارة الثقافة، والهيئة العامة للترفيه؛ بتنشيط السياحة، وذلك لعدة أسباب، منها:

- ١- زيادة الدخل الاقتصادي.
- ٢- إيجاد فرص عمل للمواطنين.
- ٣- إبراز المكانة التاريخية والحضارية للبلاد.
- ٤- الإسهام في زيادة الناتج المحلي.
- ٥- توفير برامج للترفيه وقضاء وقت الإجازات.

«المَقُومَاتُ السياحية للمملكة العربية السعودية»

تتمتع المملكة العربية السعودية بعدد من المقومات السياحية، ومن أبرزها ما يأتي:



نشاط ٢

ما أبرز المهن في السياحة؟

المُرشد السياحي - المدير في وكالة السياحة والسفر - الطباخ وكذلك الطاهي الذي يعمل في الفنادق وحتى المطاعم السياحية - رئيس فريق الطبخ - مساعد شيف - المضيف في قطاع الطيران - مدير الفندق - البواب - اصطفااف السيارات - تقديم خدمة الطعام والشراب - تنظيف الغرف

برامج السياحة الوطنية



في إطار اهتمام وطني المملكة العربية السعودية بالسياحة تأسست عام ١٤٢١هـ (٢٠٠٠م) الهيئة العامة للسياحة والتراث الوطني، وفي عام ١٤٤١هـ (٢٠٢٠م) تغير اسمها إلى وزارة السياحة.

وتهتم الوزارة بمجالات السياحة وتطويرها من خلال عدد من البرامج، من أبرزها ما يأتي:

- تأهيل المُنشآت المعنية بتطوير الوجهات السياحية.
- تسويق الفرص الاستثمارية السياحية.
- حفر الاستثمار في المُنشآت الوطنية، والوجهات الرّيفية، والمَحّميات الطبيعية.
- تقديم برامج تدريبية في الإرشاد السياحي، والتخطيط السياحي، والتسويق السياحي.
- توفير فُرص عمل للمواطنين في المِهَن السياحية.
- منح التراخيص لمرافق الإيواء السياحي، ومنظمي الرحلات السياحية، ومتابعة جودة العمل فيها.
- توفير التأشيرة الإلكترونية للراغبين في زيارة المملكة العربية السعودية لغرض السياحة.

تقويم الدرس العاشر



١ يعلل الطلبة ما يأتي:

- أ- إقامة المدن الترفيهية والمتاحف في وطني.
دعماً للاقتصاد وإنعاش السياحة وجذب السياح
تعريف الناس بالتاريخ والآثار
ب- عناية حكومة وطني بالسياحة.
استثمار المواد الخام المتوفرة - توفير فرص عمل - تطوير جميع القطاعات - رفع المستوى المعيشي وسد الاحتياجات من المنتجات الصناعية

٢ ما أبرز مقومات السياحة في المملكة العربية السعودية؟

- ١- التضاريس الجغرافية المتباينة من جبال وكثبان رملية
٢- الشواطئ
٣- المواقع التاريخية
٤- المعالم الحضارية

٣ يكتب الطلبة برنامجاً سياحياً لزيارة منطقة أثرية في إحدى مناطق المملكة العربية السعودية بالاستعانة بالموقع الإلكتروني لوزارة السياحة.





الدرس الحادي عشر

تنمية المَوارِد والمحافظة عليها

١ يقوم اقتصاد الدول على استثمار الموارد وتنميتها والمحافظة عليها، فما أبرز جهود المملكة العربية السعودية في تنمية الموارد والمحافظة عليها؟

«التنمية»

هي جهود منظّمة ترمي إلى الرقي بمستوى المعيشة، والنهوض بالمجتمع في المجالات الاجتماعية والثقافية والاقتصادية، والاستعمال الأمثل للموارد وفق رؤية واضحة.

«الجهود الوطنية لتنمية الموارد»

تحرص حكومة المملكة العربية السعودية على التطوير والتنمية في جميع المجالات، ومنها هذا المجال، فقد قامت بجهود عظيمة في تنمية الموارد ودعمها، سواء كان ذلك مادياً أم بالتشجيع وتقديم التسهيلات للمشروعات التنموية. ومن هذه الجهود ما يأتي:

موقع بداية التعليمي | beadaya.com

الموارد المائية والزراعية والحيوانية:

- ١- إقامة السدود لحجز مياه السيول وتخزينها للاستفادة منها في الشرب والزراعة.
- ٢- إنشاء محطات تحلية المياه المالحة للتقليل من استنزاف المياه الجوفية.
- ٣- التوسع في زيادة الرقعة الزراعية باستصلاح الأراضي البور وإقامة المشروعات، مثل: مشروع الريّ والصرف بالأحساء والقُطيف.
- ٤- تشجيع القطاع الخاص على الاستثمار الزراعي، وإنشاء المزارع النموذجية.
- ٥- تقديم القروض الميسرة للمزارعين والمستثمرين من صندوق التنمية الزراعية، وبنك التنمية الاجتماعية، مع تقديم الإعانات النقدية لهم.
- ٦- العمل لتحسين الإنتاج الزراعي والحيواني، وذلك باستيراد أنواع جيدة من البذور، واختيار أفضل السلالات الحيوانية، ومكافحة الأمراض والآفات.

٧- استعمال التقنية الحديثة باستيراد أحدث الآلات والأجهزة، والتعاقد مع الخبراء والفنيين للاستفادة من خبرتهم في تدريب الكوادر الوطنية وتأهيلها.

الثروات المعدنية:

تبذل الدولة ممثلةً في وزارة الصناعة والثروة المعدنية جهوداً كبيرة من أجل تنمية ثرواتها المعدنية وتطويرها بما يؤثر إيجابياً في الاقتصاد الوطني، ومن أهم تلك الجهود:

- ١- تنقيب الخبراء والمهندسين عن المعادن.
- ٢- تشجيع القطاع الخاص للإسهام في اقتصاد المعادن.
- ٣- تنمية الموارد البشرية الوطنية وتأهيلها في مجال التعدين وصناعة النفط.
- ٤- توفير وسائل النقل السريعة والبنية التحتية.
- ٥- تنمية الاقتصاد وتنويعه، وذلك بتحقيق رؤية المملكة ٢٠٣٠ في تعظيم القيمة المتحققة من قطاع المعادن.



نشاط ١

١- يستنتج الطلبة بعض أسباب الحرص على تنمية الموارد المعدنية.

استثمار الثروات والمواد الخام

تنويع الاقتصاد السعودي من خلال التركيز على المنتجات الغير نفطية

ب- ما الشركة الوطنية المعنية بالتعدين؟

شركة التعدين العربية السعودية معادن

الصناعة والتجارة:

تقوم سياسة وطني الاقتصادية على دعم النشاطين الصناعي والتجاري، ومن الجهود المبذولة في هذا المجال ما يأتي:

١- إقامة المدن الصناعية في مختلف المناطق، مثل: مدينتي الجبيل وينبع الصناعيتين.

٢- تشجيع دخول القطاع الخاص في الصناعة، وذلك بتقديم القروض الميسرة له، وتوفير الخدمات بأسعار مخفضة.

٣- الإعفاء الجمركي للمواد التي لا يتوافر لها بديل، مع تقديم الحماية للسلع المحلية بزيادة الرسوم على السلع المستوردة.

٤- إنشاء الهيئة السعودية للمدن الصناعية ومناطق التقنية.

٥- تنمية القوى البشرية السعودية ورفع كفاءتها.

٦- إطلاق مبادرة التكامل الصناعي بتقديم أرض وقروض صناعي.

٧- إنشاء صندوق التنمية الصناعي لتقديم القروض.



المحافظة على الموارد

خلق الله ﷻ جميع موارد الحياة لننتفع بها، وهي حق للجميع اليوم ومستقبلاً، فلا يحق لنا الانتفاع بها انتفاعاً غير رشيدٍ قد يجعلها عرضةً للنفاذ والفساد والتشويه.

قال تعالى: ﴿كُلُوا وَاشْرَبُوا وَلَا تُسْرِفُوا إِنَّهُ لَا يُحِبُّ الْمُسْرِفِينَ﴾ [الأعراف].

يُحافظُ على الموارد من جانبين، هما:

● على المستوى الحكومي (الوزارات، والهيئات، والمنظمات).

● على مستوى الأفراد، والمجتمعات.

الدور الحكومي في المحافظة على الموارد:

- 1- العمل لترشيد استعمال الموارد بالمحافظة على ما هو متجددٌ منها، وإنماء المدة الزمنية للموارد غير المتجددة وإطالتها، والبحث عن البدائل.
- 2- اتخاذ الوسائل الكفيلة بتنمية جميع الموارد والحد من مشكلاتها.
- 3- استعمال تقنيات التدوير وإعادة استعمال الموارد.
- 4- توعية الأفراد والمجتمع بأهمية المحافظة على الموارد، والابتعاد عن السلبيات التي ينتج عنها تدهور الموارد.
- 5- اتخاذ جميع الإجراءات التي تكفل المحافظة على موارد البيئة البرية والبحرية، ومنع أي إضرار بها.

للإطلاع



www.sirc.com.sa



انشأت المملكة العربية السعودية (الشركة السعودية الاستثمارية لإعادة التدوير) لتطوير أنشطة التعامل مع جميع أنواع النفايات، وبناء قدرات إعادة التدوير في المملكة، وبناء اقتصاد يحقق مستقبلاً مستداماً.

من الأمثلة على الدور الحكومي في المحافظة على الموارد:

- ١- المحافظة على الحيوانات الفطرية من الانقراض، بضبط أنشطة الصيد، والعمل لإكثار الأنواع المختلفة من تلك الحيوانات.
- ٢- حماية الغابات والمراعي، والمحافظة على الغطاء النباتي، واستعادة ما فقد منه.
- ٣- حماية مياه البحار من مصادر التلوث، وتنظيم الصيد في المياه الإقليمية.
- ٤- صيانة موارد المياه السطحية والجوفية، والمحافظة عليها بإنشاء السدود وتخزين المياه، ومنع وصول الملوثات إليها، مثل: مياه الصرف الصحي أو النفايات.
- ٥- التوسع في إنشاء المتنزهات الوطنية للمحافظة على النباتات والسّمات الطبيعية والأثرية لهذه المواقع، وتوفير أماكن للتنزه والسياحة.
- ٦- فرض العقوبات على المخالفين لأنظمة الترشيد.

بداية
موقع بداية التعليمي | beadaya.com

نشاط ٢

يذكر الطلبة ثلاث وزارات وطنية تعمل في مجال المحافظة على الموارد.

- ١- **وزارة الصحة**
- ٢- **وزارة التجارة**
- ٣- **وزارة الطاقة**

دور الأفراد والمجتمعات في المحافظة على الموارد:

- ١- إنشاء جمعيات غير حكومية لحماية الموارد والمحافظة عليها وتقديم البرامج التوعوية.
- ٢- المحافظة على الثروة المائية، فلا تُصَرَف إليها المواد الملوثة كمياء الصرف الصحي غير المعالجة، أو المواد الكيماوية والمواد السامة.
- ٣- المحافظة على نظافة السواحل والشواطئ البحرية للحفاظ على الثروة السمكية، بتجنيب إلقاء نفايات المصانع أو رمي المخلفات من السفن في البحار.
- ٤- المحافظة على النباتات والثروة الحيوانية، وذلك بمنع صيد الحيوانات البرية النادرة والمهددة بالانقراض، وتجنيب قطع الأشجار وإحراقها، وتجنيب استعمال مييدات كيماوية تضر النبات والمزروعات.
- ٥- المحافظة على المناطق السياحية بالحرص على نظافتها.

نشاط ٣

يقترح الطلبة طرائق جديدة لتوعية المواطنين بأهمية الموارد.

الحث على المحافظة عليها من خلال وسائل الإعلام
دور المعلمون في توعية الطلاب بأهمية هذه الموارد



طائر مالك الحزين النادر في سواحل البحر الأحمر بجدة



الغزل الحريمي

تقويم الدرس الحادي عشر

١ يذكر الطلبة اثنين من الموارد في المملكة العربية السعودية.

- ١- **البتروك**
- ٢- **الثروة المعدنية**

٢ يضع الطلبة علامة (✓) أمام العبارة الصحيحة، وعلامة (x) أمام العبارة غير الصحيحة فيما يأتي:

صح

أ- استعمالنا للمياه باعتدال يضمن استمرارها وتدفعها بإذن الله.

صح

ب- التوعية في وسائل الإعلام ضرورة في البحث على المحافظة على الموارد.

خطأ

ج- المحافظة على الموارد تكون بكثرة استغلالها.

٣ يذكر الطلبة اثنين من الجهود الوطنية في التنمية الزراعية، والتعدنية، والصناعية.

التنمية الزراعية: إقامة السدود لحجز مياه السيول وتخزينها للاستفادة منها في الشرب والزراعة-إنشاء محطات تحلية المياه المالحة للتقليل من استنزاف المياه الجوفية. التنمية المعدنية: تنقيب الخبراء والمهندسين عن المعادن- تشجيع القطاع الخاص للإسهام في اقتصاد المعادن. التنمية الصناعية: إقامة المدن الصناعية في مختلف المناطق، مثل: مدينتي الجبيل وينبع الصناعيتين- تنمية القوى البشرية السعودية ورفع كفاءتها


٤ يجعل الطلبة ما يأتي:

أ- العناية بتأهيل الكوادر الوطنية وتدريبها في مختلف القطاعات.

لأن هذا يحسن من مستوى المعيشة فننهض بمجتمعنا ونستثمر مواردا بأحدث التقنيات والأساليب وفق رؤية واضحة وخبرات محلية

ب- ارتفاع القيمة الإنتاجية للثروة الزراعية والحيوانية في المملكة العربية السعودية.

بسبب الجهود العظيمة لحكومة المملكة في تنمية الموارد ودعمها، سواء كان ذلك مادياً أم بالتشجيع وتقديم التسهيلات للمشروعات التنموية



تقويم
الوحدة
الثانية

موقع بداية التعليمي | beedayya.com



١ يذكر الطلبة ثلاثة أودية في المملكة العربية السعودية.

وادي الدواسر - وادي حنيفة - وادي الرملة

٢ يقارن الطلبة بين المياه السطحية والعميقة:

نوع المياه	أوجه الشبه	أوجه الاختلاف
المياه السطحية	مصدرها مياه الأمطار	توجد قرب سطح الأرض
المياه الجوفية العميقة	مصدرها مياه الأمطار	توجد في الطبقات الجوفية

٣ يكتب الطلبة تقريراً موجزاً عن اكتشاف النفط في المملكة.

في عام ١٩٣٣م وقع الملك عبد العزيز آل سعود اتفاقية التنقيب مع ستاندر أول أوف كاليفورنيا الأمريكية وبعد حفر البئر السابع وبعمق ١٥٠٠ متر تقريباً اكتشف النفط بكميات تجارية في عام ١٩٣٧. وبعدها اكتشف النفط

٤ يصنّف الطلبة الحقول في الجدول الآتي:

(أبو حدرية، شمال الكدن، حُرَيْص، مُنَيَّمَة، الحَلْوَة، القَطِيف، الفاضلي)

حقول نفطية	حريص	منيفة	القطيف	الفاضلي	أبو حدرية
حقول غاز	الحلوة	شمال الكدن			



٥ يختار الطلبة الإجابة الصحيحة فيما يأتي:

أ- من أغنى الجهات في وطني بالمياه السطحية:

- ☐ تهامة عسير ☐ المنطقة الشمالية ☐ الربع الخالي

ب- يتركز معدن الفوسفات في:

- ☐ مهد الذهب ☐ حزم الجلاميد ☐ الزبيدة

ج- يتمتع وطني بكثير من مقومات السياحة، منها:

- ☐ توافر مصادر الطاقة ☐ المناطق الساحلية ☐ المصانع

٦ ما النتائج الناشئة عن؟

أ- إقامة السدود وإنشاء محطات التحلية في المملكة العربية السعودية.

توفير وإيجاد موارد للمياه الصالحة والاستفادة منها في الزراعة والشرب

ب- تطور وسائل النقل في المملكة العربية السعودية.

نمو الاقتصاد بمختلف المجالات مثل السياحة والتجارة وغيرها

ج- عناية حكومة وطني بالآثار التاريخية.

لتطوير السياحة والمحافظة على ثروة من ثروات الوطن

جدة وينبع الغوار والبقيق السهلاء

ب- حقلين من حقول النمط.

ج۔ حقل غاز۔

هـ- مدينتين ساحليتين سياحيتين.

جبل الشيزم - جبل الصايد- المصانع

جدة والدمام



يكمل الطلبة الفراغات الآتية:

٨- تنقسم موارد المياه في وطني إلى: **جوفية** و **سطحية** و **المعالج** و **مياه البحر المالحة** **الصرف الصحي**

جدة ينبع

ج- من أهم العيون في وطني: الأحياء والأفلاج

د- بدأ التتقيب عن النفط في عهد الملك عبد العزيز رحمه الله

هـ- يعد الغاز مادة أساسية في كثير من الصناعات

٩ يعلل الطلبة ما يأتي:

أ- إنشاء الحكومة محطات تحلية مياه البحر.

لقلّة الموارد المائية من أمطار وأنهار

ب- إنشاء السدود في وطني.

للمحافظة على مياه الأمطار والاستفادة منها

ج- يُعد وطني من الدول قليلة المياه الصالحة للشرب والزراعة.

لندرة الأمطار وانعدام الأنهار

د- معظم صادرات وطني موادّ خام (نفطية).

لتوفرها بكميات كبيرة لأنها تعد من أكبر الدول التي لديها احتياطي

من المواد الخام

هـ- حرص حكومة وطني على تنمية الموارد المعدنية والنفطية.

لأهمية تلك الموارد واستثمار الثروات الموجودة

١٠ يذكر الطلبة ثلاثة من مقوّمات السياحة في وطني.

١- قبيلة المسلمين وقلب العالم الإسلامي

٢- الاقتصاد الكبير

٣- التراث حضاري وشعب مضياف

١١ يذكر الطلبة ثلاثة من أساليب محافظة الأفراد على الموارد الوطنية.

١- الحفاظ على المناطق السياحية

٢- الحفاظ على الثروات النباتية والحيوانية

٣- المحافظة على الثروة السمكية ونظافة السواحل والثروة البحرية